

نام و نام خانوادگی: پایه: آموزگار: درس: کاربرگ:
هدیه های آسمانی

۳- جاهای خالی را با کلمات مناسب پر کنید.

- ❖ توهمید یعنی
- ❖ گاهی پیامبران برای اینکه ثابت کنند پیامبر هستند از استفاده می‌کردند.
- ❖ امام مسین (ع) می‌فرمایند: ((هرگز کسی مثل من با کسی مثل بیعت نمی‌کند.))
- ❖ نام فواهر امام مسین (ع) ، پیام‌رسان کربلا است.

۴- وصل کنید. (از هر قسمت ، یک گزینه اضافی است.)

<p style="text-align: center;">قسمت - الف</p> <ul style="list-style-type: none"> ○ فداوند بر مومنان منت گذاشت . ○ هنگامی که برای آنها پیامبری از میان فودشان فرستاد. ○ ما برای هر امتی ، پیامبری فرستادیم که (می‌گفت): « فداى یکتا را بپرستید. » ○ چه بسا با فواست فدا عده‌ای کم بر عده‌ای زیاد پیروز شوند. ○ ما رسولان فود را با دلایل روشن فرستادیم و با آنها کتاب آسمانی نازل کردیم. 	<ul style="list-style-type: none"> ○ وَقَدْ بَعَثْنَا فِي كُلِّ أُمَّةٍ رَّسُولًا أَنْ اَعْبُدُوا اللَّهَ ○ لَقَدْ اَرْسَلْنَا رُسُلَنَا بِالْبَيِّنَاتِ وَاَنْزَلْنَا مَعَهُمُ الْكِتَابَ ○ لَقَدْ مَنَّ اللَّهُ عَلَى الْمُؤْمِنِينَ اِذْ بَعَثَ فِيهِمْ رَسُولًا مِّنْ اَنْفُسِهِمْ
---	---

<p style="text-align: center;">قسمت - ب</p> <ul style="list-style-type: none"> ○ موسی ○ محمد ○ عیسی ○ ابراهیم 	<ul style="list-style-type: none"> ○ انجیل ○ تورات ○ قرآن
--	--

۵- پاسخ کوتاه دهید.

- نومووانی ۱۴ ساله که با رشادت تمام در واقعه کربلا جنگید و به شهادت رسید، که بود؟
- نبوت یعنی چه؟

شغل	مطرح	لطف	طالب	مفخر	اجبار
ناقص	شديد	عظيم	شاکر	منفوت	فکور
نقش	افکار	کتاب	محقق	طابیت	نگار
معارف	مشهور	تشکیل	لطیف	ظهور	علاج
طلب	مناسب	جمع	شما	شاهیه	معظم
طرح	دقیق	مکتوب	صابر	ساجد	نقص
مابعد	جبر	حقائق	علم	فکر	طراح
فقرش	اعظم	شاهد	معالج	تشکیل	خبر
صبر	کتاب	شیرین	نفع	دقت	حافظ
عقاید	مختار	جابر	ساجد	مطلوب	نقاش
شرق	الطاف	تسود	ظاهر	اعتقاد	شکور
منافع	عالم	اخبار	منبع	سنتان	مجبور

نام و نام خانوادگی:

آموزشگاه:

نوع آزمون:

کلاس:

طراح سوال:

زمان آزمون:

❖ نوع جمله های زیر را با علامت × مشخص کنید.

پرسشی	خبری	عاطفی	امری	جمله
				عجب باغ دل انگیزی
				مرا تا مدرسه همراهی می کنید
				تحمل گرمای تابستان، برایم سخت بود.
				هیچ گاه بدون تجویز پزشک، دارو مصرف نکنید.

❖ در پایان هر یک از جمله های زیر، نشانه ی نگارشی مناسب بگذار. (. - ! - ؟)

- ۱- چرا عاقل کند کاری، که باز آرد پشیمانی
- ۲- علی، کتاب فارسی ات را روی میز بگذار
- ۳- چه عکس زیبایی
- ۴- من همه ی این کتاب های داستان را خوانده ام....

❖ در ابیات زیر دور قافیه ها خط بکشید.

الفتی داشته با این دل شب
کریم خطا بخش پوزش پذیر
افتاده چو روح بر روان ها

علی آن شیر خدا شاه عرب
خداوند بخشنده ی دستگیر
ای یاد تو بر دل و زبان ها

❖ بیت های زیر را بازنویسی کنید:

باز به گردون رسید، ناله ی هر مرغ زار

باد بهاری وزید از طرف مرغزار

هر ورقش دفتری ست، معرفت کردگار

برگ درختان سبز در نظر هوشیار

نام و نام خانوادگی: آموزشگاه: نوع آزمون:
 کلاس: طراح سوال: زمان آزمون:

❖ بیت‌های معنای بیت و جمله‌های زیر را کامل کنید:

۱- آفریدگار را ببايد پرستيدن و بر نعمت او سپاس داری بايد کردن.

خداوند آفريننده را

۲- اندیشه کردن اندر کار خالق و مخلوق، روشنایی افزاید اندر دل.

اندیشيدن درباره‌ی کار خالق و

این همه را خالقی است که آفریدگار ایشان است و نعمت بر ایشان از وی است.

همه‌ی اینها

❖ در بیت‌ها و جملات زیر، دور نهاد و زیر گزاره خط بکشید.

۱- دو دوست با پای پیاده از جاده‌ای در بیابان عبور می‌کردند.

۲- یکی از آنها از سر خشم، بر چهره‌ی دیگری سیلی زد.

۳- باد بهاری وزید از طرف مرغزار

باز به گردون رسید، ناله‌ی هر مرغ زار

۴- برگ درختان سبز در نظر هوشیار

هر ورقش دفتری ست، معرفت کردگار

۵- بی یاد تو نیست هیچ مرغی

در سبزه و باغ و بوستان‌ها

۶- سیمرغ و عقاب و باز و شاهین

ذکر تو کند در آسمان‌ها

❖ گزینه صحیح را انتخاب کرده و علامت بزیند.

۱- کدام یک از ترکیب‌های زیر «ترکیب وصفی» است؟

الف) رفتار نیکو ب) میوه‌ی انسان ج) مرد میوه فروش د) خدای کعبه

۲- مهم‌ترین بخش گزاره است.

الف) فعل ب) مفعول ج) حرف ربط د) متمم

آموزگار:
تاریخ:



مدرسه شهدای بسیج

نام و نام خانوادگی:

پایتخت حضرت سلیمان در بیت المقدس است روزی سلیمان به
یارانش گفت:
که کتابی را برای او بیاورند در همین عصر در سرزمین یمن، بانویی به نام
بلقیس
بر ملت حکومت می کرد.
اما او و ملتش بجای خدا، خورشید را درست و با پرست بودند.
سلیمان پرسید: چرا هد هد را نمی بینم؟
هد هد کجا بودی که اینقدر زیبا بر نظر می رسی و نوای دلنشین داری !!!!

نمونه از انواع جمله را در متن بالا پیدا کرده و در جای مناسب بنویسید.

جمله خبری:

جمله پرسشی:

جمله امری:

جمله عاطفی:

در متن بالا فعل ها را بیابید و بنویسید و به دلخواه با دو فعل جمله
جدیدی بنویسید.



نام و نام خانوادگی: پایه: آموزگار: درس: کاربرد:

شواهد یادگیری: کلمات ردیف و قافیه و حروف مشترک را تشخیص دهد.



بیان مساله:

آموزگار مشغول تدریس درس فارسی بود. یاسمن اجازه گرفت و برای آب خوردن به حیاط مدرسه رفت. او متوجه فرد نقاشی شد که مشغول نوشتن شعری روی دیوار حیاط مدرسه بود. یاسمن ناگهان به یاد درسی که آموزگار مشغول تدریسش بود افتاد. موضوعی را که آموزگارش تدریس می کرد، (قافیه و ردیف) بود. یاسمن خاتم تصمیم گرفت با قافیه و ردیف ابیات را مشخص کند.

همه آفریدست بالا و پست
تویی آفریننده ی هرچه هست

ای مادر عزیز که جانم فدای تو
قریان مهربانی و لطف و صفای تو

دستور العمل تکلیف: عزیزم، قافیه و حروف قافیه و همچنین ردیف را در جاهای معین شده بنویس.

ردیف

حروف

قافیه

نام و نام خانوادگی: پایه: آموزگار: درس: کاربرگ:.....

۱_ هردو واژه را باهم ترکیب کنید و در جدول قرار دهید.

درختان_ باد_ چمن_ برسد_ خدا_ بید_ سبز_ یاد_ خوش_ کار_ بوی_ بهاری

موصوف و صفت	مضاف مضاف الیه

۲_ معنی شعر و متن زیر را بنویسید.

اندیشه کردن اندر کار خالق و مخلوق، روشنایی افزایش اندر دل.

هرگل و برگ که هست یاد خدا می کند بلبل و قمری چه خواند؟ یاد خداوندگار

خرد را نیست تاب نور آن روی برو از بهر او ، چشم دگر جوی

۳_ هم معنی واژه های زیر را بنویسید.

برافروخت: فکرت: ربیع: تعالی:

۴_ در جمله های زیر (نهاد، گزاره، مفعول و فعل) را مشخص کنید.

الف) زکریا کاشف بزرگ الكل بود .

ب) رستم چون شمشیر خروشان ازدها را به دونیم تبدیل کرد.

ج) عقاب که در آسمان پرواز می کرد پرنده ای را شکار کرد.

نام و نام خانوادگی: پایه: آموزگار: درس: کاربردگ:
1

۱ متن را با دقت بخوان و تعلقه های کلمه ها را بگذار .

به نام آن که جان را فکرت آموخت حراع دل نه نور جان برافروخت
نار نه گردون رسد ناله ی هر صرع رار باد بهاری ورنه از طرف مرعرا
آفریدگار را ساند برسدن و بر نعمت او ساس داری کردن .
اندسه کردن اندر کار خالق و مخلوق روستایی افراشد اندر دل .

اکنون دیگر بوبت گروه «عمل» بود، تقریباً چهار گروه، سخته ی گفت و گوها و بحث های خود را بیان کرده بودند

۲ جدول را با کلمات درس ستایش ، معرفت آفریدگار و پنجره های شناخت کامل کنید . (هر قسمت ۲ دو کلمه)

ع	غ	کلمه دو بخشی	کلمه سه بخشی

۳ در عبارات زیر غلط های املایی را بیاید و شکل صحیح آنها را بنویسید

۱- ناگهان معلم از جای خود برخواست و گفت: خیلی آلی بود، اکنون گروه عمل نضرات خود را بیان کنند.

۲- اندیشه کردن در کار خالق و مخلوق، روشنایی افذاید اندر دل و قفلت از این گمراهی است.

۴ با توجه به معنی واژه ها کلمه ای را که از نظر املایی صحیح می باشد انتخاب کنید

بلند شد (برخاست ، برخواست) خود (خیش ، خویش) روشنایی (فروغ - فروق)

۵ در کلمات هم خانواده زیر، سه حرف اصلی را بنویسید .

عالم / معلومات / معلم / -----

عادل / عدالت / تعادل / -----

نام و نام خانوادگی: پایه: آموزگار: درس: کاربرگ: ۱

۱_ از بین کلمه های زیر فعل را جدا کنید و بنویسید.
(باد_ رسید_ افروخته شد_ خیر_ شمار_ هست_ گشت_ بهار)

۲_ کدام یک ترکیب وصفی و کدام یک ترکیب اضافی هستند.

کتاب امین:
مرد نیک:

۳_ بیت «باد بهاری وزید از طرف مرغزار» به صورت ساده باز نویسی کنید و نهاد و گزاره آن را مشخص کنید.

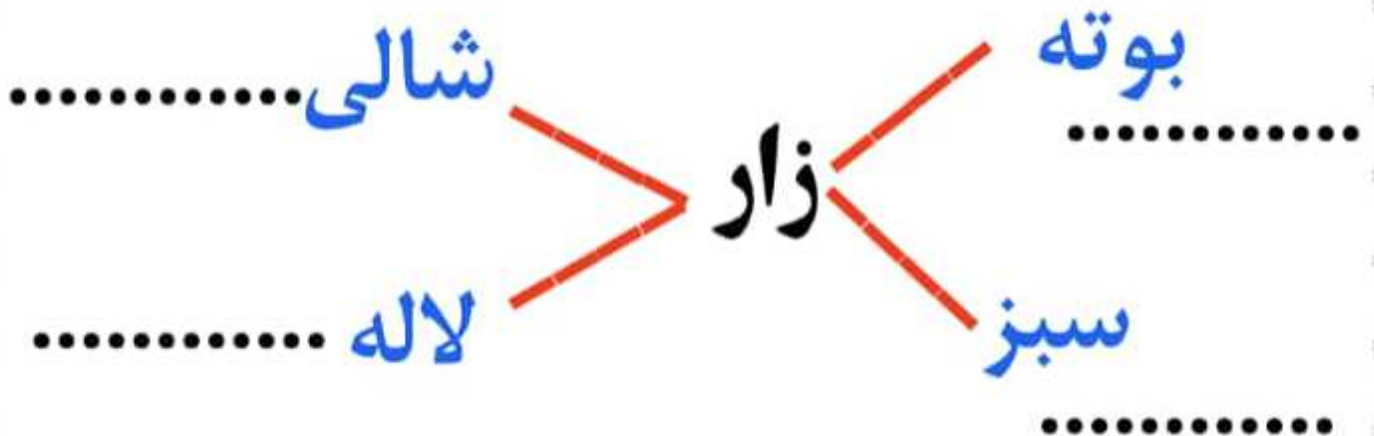
۴_ با کلمه «کردگار» سه جمله خبری، پرسشی و امری بنویسید.

خبری:

امری:

پرسشی:

۵_ ترکیب کن و بنویس.



نام و نام خانوادگی:

آموزشگاه:

نوع آزمون:

کلاس:

طراح سوال:

زمان آزمون:

❖ هر یک از کلمه‌های مفرد را به جمع آن وصل کنید.

- | | |
|---------|---------|
| • عمق | • مسائل |
| • مطلب | • اعمال |
| • مسئله | • اعماق |
| • عمل | • مطالب |

❖ کلمه‌های هم معنی را به هم وصل کنید.

- | | |
|----------|------------|
| • نیکو | • آداب |
| • خالق | • پسندیده |
| • رفتار | • آشکار |
| • هراس | • پروردگار |
| • نمایان | • ترس |

❖ معنای کلماتی که زیر آن خط کشیده شده است را از بین گزینه‌ها انتخاب و علامت بزنید.

۱- ما دریافت خودمان را از مطلب گفتیم.

درآمد برداشت اطلاعات

۲- همه‌ی ما بر همین باور هستیم.

ایمان عقیده تصمیم

۳- ز خود بینیِ چو بگذشتی، به چشم دل، خدا بینی.

فروتنی مراقبت از خود غرور

❖ از میان واژه‌های زیر هم خانواده‌ها را پیدا کن و دسته بندی کنید.

اشتراک، تکلم، شریک، مربوط، ارتباط، کلمه، مشترک، رابط، کلام، شراکت، ربط

نام و نام خانوادگی:

آموزشگاه:

نوع آزمون:

کلاس:

طراح سوال:

زمان آزمون:

❖ در هر دسته از واژه‌های زیر، سه حرف مشترک وجود دارد؛ آنها را پیدا کرده و روبروی هر دسته بنویسید.

کاشف

اکتشاف

مکشوف

عامل

معمول

تعامل

تعجیل

عجله

عجول

❖ جاهای خالی را با توجه به معنای داده شده کامل کنید.

۱- شباً.....ت: همانند بودن (ح ه)

۲- بح.....: گفت و گو کردن (س، ص، ث)

۳- ار.....با.....: به هم ربط داشتن (ت، ط)

۴- شخ.....یت: ویژگی‌های فردی هر کس (س، ص، ث)

❖ در عبارت زیر، غلط‌های املايي را پیدا کنید و شکل درست آن را بنویسید.

معلم از جای خود برخاست و گفت: خیلی آلی بود؛ تا این
جا بصیار جالب بود؛ اما بگزارید گروه «عمل» هم نظرات
خود را بیان کنند.

❖ جدول زیر را کامل کنید:

هم خانواده

-
-
-

جمع

- نظرات
-
-

مفرد

-
- رابطه
-

۱_ جاهای خالی را با توجه به معنی آن کامل کنید و بنویسید.

مو...ون: هماهنگ م...رفت: شناخت مر...زار: چمن و سبزه

۲_ با حروف زیر چهارکلمه بنویسید که ارزش املائی داشته باشد.

۳_ برای کلمه های زیر هم خانواده بنویسید

علم: متفکر: تعلیم: خلق:

۴_ در عبارت زیر غلط های املائی را پیدا کنید و شکل درست آن را بنویسید.

ناگهان معلم از جای برخاست و گفت: خیلی آلی بود. تا اینجا بسیار جالب بود

چون شما با تفکر درباره ی چهارواژه به اندیشه های تازه ای دست یافته اید،

اما بگزارید گروه « امل » هم نظرات خود را بیان کنند.



موفق باشید ابراهیم زاده

۱- جاهای خالی را با یکی از واژه های مناسب زیر کامل کنید.

★ نعمت - غفلت - معرفت - خالق ★

هر برگه از درختان نشانه ای از کردگار است.

باید از خدا سپاس گزاری کرد.

۲- جدول را کامل کنید.

نوع جمله	نشانه ی تکراری	جمله
		بوی گل و بانگ مرغ برخاست.
		عجب نقاشی زیبایی

۳- با کلمه ی زیر یک جمله ی برسی بسازید.

محبت:

۴- از بین واژه های زیر، آن هایی را که با هم ارتباط دارند، در یک گروه قرار دهید.

✱ خالق - عالم - فکر - مخلوق - معلوم - خلقت - تفکر - علم ✱

الف: ب: ج:

۵- در هر گروه از واژه ها، سه حرف مشترک را بنویسید.

واژه ها	حروف مشترک
عاقل ، معقول	
تحصیل ، محصول	

۶- فعل جمله های زیر را مشخص کنید.

الف) باز به گردون رسید ناله ی هر مرغ زار

ناله ی موزون مرغ ، بوی خوش لاله زار

ب) خیز و غنیمت شمار جنبش باد ربیع

۷- با کلمات زیر، یک متن مناسب در چند سطر بنویسید.

✱ پاییز - مدرسه - درس - دوستان - معلم ✱

.....

.....

.....

.....

۲

نام و نام خانوادگی: پایه: آموزگار: درس: کاربرد:

کردگار

۸- کلمات مرتبط با واژه ی مقابل را بنویسید.



۹- نوشته ی زیر را در سه سطر ادامه دهید.

در میان آبی دریا، ماهیان سرشار از

۱۰- ضرب المثل «شکر نعمت، نعمت افزون کند» را در یک بند توضیح دهید.

۱۱- به جای واژگان مشخص شده، واژه های دیگری قرار دهید و جمله ها را بازنویسی کنید.

الف) بیرسیم و از هیچ نهراسیم .

ب) حالا تو این جمله را روی صخره حک می کنی ؟

۱۲- از میان موضوع های زیر، یکی را انتخاب کنید و در مورد آن انشا بنویسید.

• وظیفه ی ما در برابر نعمت های خداوند چیست ؟

• روستا و زیبایی های آن را توصیف کنید.

نقشه معلم



نام و نام خانوادگي: پايه: آموزگار: درس: کاربرگ:
هديه هاي آسماني

به سوالات زير پاسخ كامل دهيد.

۶-	وقتي به امام مسين (ع) خبر دادند كه يزيد به حكومت رسيده است چه فرمودند؟
۷-	مدف قيام امام مسين (ع) چه بود؟
۸-	تاريخ و مكان شهادت امام مسين (ع) و تعداد يارانش را بنويسيد.
۹-	يزيد چگونه فردي بود؟
۱۰-	با توجه به متن زير ، ۴ صفت خداوند را بيان كنيد.
۱-	تو خدايي بي نكيري تو چه خوب و مهرباني تو به كوش ابر خواندي تو به آفتاب گنتي
۲-	تو به بستر ياد داداي تو به كياه گنتي
۳-	تو به زلالا امر كردي تو به خزان اهانده داداي
۴-	تو به سوز و آتش زيبا تو به روز و كود و دريا
	تو به كجايي و داناي تو كه پاكي و توان كه از آسمان باره به زمين قدم گزاره ز دل زمين بجهت كه از آب آن بنوشد كه به برگ گل شيند كه گل از جمن بيند گل و سبزه را گندي هر را تو آفزي



نام و نام خانوادگی: پایه: آموزگار: درس: کاربرگ:
هدیه های آسمانی

ردیف	سوالات										
	<p>درستی یا نادرستی عبارات زیر را با علامت × مشخص کنید.</p> <table border="1"> <thead> <tr> <th>نادرست</th> <th>درست</th> </tr> </thead> <tbody> <tr> <td><input type="radio"/></td> <td><input type="radio"/></td> </tr> <tr> <td><input type="radio"/></td> <td><input type="radio"/></td> </tr> <tr> <td><input type="radio"/></td> <td><input type="radio"/></td> </tr> <tr> <td><input type="radio"/></td> <td><input type="radio"/></td> </tr> </tbody> </table>	نادرست	درست	<input type="radio"/>	<input type="radio"/>	<input type="radio"/>	<input type="radio"/>	<input type="radio"/>	<input type="radio"/>	<input type="radio"/>	<input type="radio"/>
نادرست	درست										
<input type="radio"/>	<input type="radio"/>										
<input type="radio"/>	<input type="radio"/>										
<input type="radio"/>	<input type="radio"/>										
<input type="radio"/>	<input type="radio"/>										
۱-	<p>❖ معاویه . امام حسن (ع) و ۷۲ تن از یارانش در صمرای کربلا به شهادت رساند.</p> <p>❖ اولین پیامبر خدا . حضرت نوح (ع) و آخرین پیامبر . حضرت محمد(ص) است.</p> <p>❖ مسلمانان هر روز به یکتایی خدا شهادت می‌دهند.</p> <p>❖ پیامبران از بین خود مردم انتخاب می‌شدند.</p>										
۲-	<p>گزینه صحیح را با علامت × مشخص کنید.</p> <p>❖ (اَلْمَدَانِیَّةُ رَبِّ الْعَالَمِیْنَ) بیان کننده‌ی چه عمل دینی است؟</p> <p>الف) برای ناز و اقامه ناز <input type="radio"/></p> <p>ب) ستایش خداوند <input type="radio"/></p> <p>ج) دعا کردن به درگاه خداوند <input type="radio"/></p> <p>د) نفر کردن برای بر آورده شدن دعاها <input type="radio"/></p> <p>❖ کدام یک از گزینه های زیر همگی از پیامبران اولوالعزم الهی هستند؟</p> <p>الف) حضرت یوسف (ع) - حضرت موسی (ع) - حضرت محمد (ص) <input type="radio"/></p> <p>ب) حضرت عیسی (ع) - حضرت یوسف (ع) - حضرت نوح (ع) <input type="radio"/></p> <p>ج) حضرت نوح (ع) - حضرت ابراهیم (ع) - حضرت عیسی (ع) <input type="radio"/></p> <p>د) حضرت محمد (ص) - حضرت ابراهیم (ع) - حضرت یعقوب (ص) <input type="radio"/></p> <p>❖ ثمره قیام امام مسین (ع) چه بود؟</p> <p>الف) سرنگونی حکومت قاسد بزند <input type="radio"/></p> <p>ب) بیداری مردم از خواب غفلت و آنگو گرفتن از قیام امام حسین (ع) <input type="radio"/></p> <p>ج) اصلاح شدن جامعه و بازگشت به اسلام <input type="radio"/></p> <p>د) سرنگونی حکومت بنی امیه <input type="radio"/></p> <p>❖ امام مسین (ع) را به چراغ هدایت و گشتی نجات تشبیه کرده است.</p> <p>الف) امام علی (ع) <input type="radio"/></p> <p>ب) حضرت فاطمه (ص) <input type="radio"/></p> <p>ج) حضرت محمد (ص) <input type="radio"/></p> <p>د) امام حسن (ع) <input type="radio"/></p>										

عبارت درست را با (✓) و عبارت نادرست را با (✗) مشخص کنید.

الف) صفر از هر عدد صحیح منفی بزرگ تر است.

ب) اگر رقم یکان عددی بر ۳ بخش پذیر باشد، آن عدد بر ۳ بخش پذیر است.

ج) مضرب های ۲ را عدد زوج می گویند.

د) در عدد ۷۵۳۴۲ عدد ۵ در مرتبه ی دهگان هزار است.

جمله های زیر را با عدد یا کلمه ی مناسب داخل پرانتز کامل کنید.

الف) عدد ۱- _____ عدد صحیح منفی است. (بزرگ ترین - کوچک ترین)

ب) حاصل جمع پنج عدد فرد، عددی _____ است. (فرد - زوج)

ج) تعداد مضرب های دورقمی ۵ که از ۴۰ کوچک تر هستند، برابر _____ است. (۶ - ۷)

د) عدد _____ بر ۹ بخش پذیر است. (۱۹۹ - ۸۹۱)

جای خالی را با عدد یا کلمه ی مناسب کامل کنید.

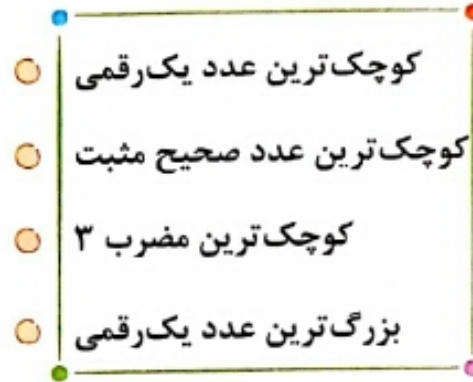
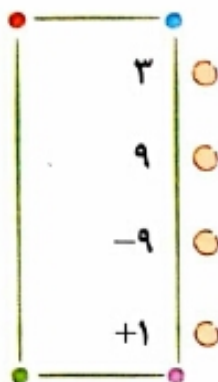
الف) عدد _____ نه مثبت است و نه منفی.

ب) عدد سه رقمی _____ نه بر ۲ بخش پذیر است و نه بر ۵.

ج) کوچک ترین عدد طبیعی که مضرب ۲ و ۳ و ۵ است، عدد _____ است.

د) کوچک ترین عدد پنج رقمی فرد که رقم یکان هزار آن ۷ باشد، عدد _____ است.

هر یک از عبارتهای ستون سمت راست را فقط به یک عبارت مناسب در ستون سمت چپ وصل کنید.



چهار عدد دورقمی کوچکتر از ۴۰ بنویسید که بر هیچ یک از اعداد ۲ و ۳ و ۵ و ۷ بخش پذیر نباشند.

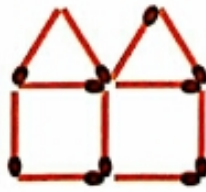
دور اعدادی که هم بر ۲ و هم بر ۳ بخش پذیرند خط بکشید.

۶۹ - ۹۶ - ۴۳۲ - ۲۳۴ - ۴۲۳ - ۲۴۳ - ۳۴۲

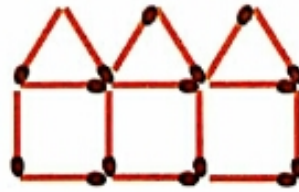
الف) شکل بعدی الگوی زیر را رسم کنید.



۱



۲



۳

؟

۴

ب) پنج عدد اول الگوی عددی مربوط به این شکل را بنویسید.

عبارت درست را با (✓) و عبارت نادرست را با (✗) مشخص کنید.

(الف) اگر دو کسر دارای صورت‌های برابر باشند، کسری بزرگ‌تر است که مخرجش بزرگ‌تر باشد.

(ب) کسرهای بزرگ‌تر از واحد را می‌توان به شکل عدد مخلوط نوشت.

(ج) برای هر کسر، می‌توان بی‌شمار کسر مساوی نوشت.

(د) هر کسر از معکوس خودش کوچک‌تر است.

جمله‌های زیر را با عدد یا کلمه‌ی مناسب داخل پرانتز کامل کنید.

(الف) کسر $\frac{8}{15}$ از نصف، _____ است. (کوچک‌تر - بزرگ‌تر)

(ب) ساده‌ترین شکل کسر $\frac{21}{35}$ ، کسر _____ است. ($\frac{3}{5} - \frac{3}{7}$)

(ج) برای محاسبه‌ی نصف یک عدد، آن عدد را بر _____ تقسیم می‌کنیم. ($2 - \frac{1}{2}$)

(د) اگر مخرج‌های دو کسر، مساوی باشند، کسری بزرگ‌تر است که صورتش _____ باشد. (بزرگ‌تر - کوچک‌تر)

جای خالی را با عدد یا کلمه‌ی مناسب کامل کنید.

(الف) اگر کسری روی محور اعداد بین صفر و یک باشد، آن کسر _____ است.

(ب) عدد مخلوط $2\frac{3}{7}$ با کسر _____ برابر است.

(ج) کوچک‌ترین مخرج مشترک دو کسر $\frac{3}{8}$ و $\frac{5}{6}$ ، عدد _____ است.

(د) کسر $\frac{5}{5}$ مساوی _____ است.

ریاضی ششم - تکلیف

هفته ی اول مهر - 4

دبستان شهدای بسیج

☆ نجفی ☆

عددهای زیر را از کوچک به بزرگ و از چپ به راست مشخص کنید.

-۷۵, +۳, ۷, ۰, -۴۱, ۱۹, -۱۰۱

گسترده ی عددی به صورت زیر است. این عدد را با رقم و حروف بنویسید.

$$۷ \times ۱۰۰۰۰۰ + ۶ \times ۱۰۰۰ + ۹ \times ۱۰۰$$

با رقم های کوچک تر از ۷، کوچک ترین عدد پنج رقمی فرد و بزرگ ترین عدد هفت رقمی فرد را بنویسید
(بدون تکرار رقم ها).

سه عدد بعدی الگوهای عددی زیر را بنویسید.

الف) $۱/۲۳, ۲/۳۴, ۳/۴۵, ۴/۵۶, \dots, \dots, \dots$

ب) $۷, ۱۶, ۲۵, ۳۴, ۴۳, \dots, \dots, \dots$

ج) $-۱۱, -۶, -۱, \dots, \dots, \dots$

$۴, ۱۱, ۱۸, ۲۵, ۳۲, ۳۹, \dots, \dots, \dots$

با توجه به الگوی عددی مقابل:

الف) عدد بیست و نهم این الگو چه عددی است؟

ب) رابطه ی ریاضی برای یافتن عددهای الگو را بنویسید.

۱- حاصل ضرب های زیر را حساب کنید.

الف $\frac{4}{9} \times \frac{18}{16} =$

ب $2\frac{1}{7} \times 4\frac{2}{3} =$

۲- نصف عدد $4\frac{1}{5}$ و $1/2$ برابر عدد $\frac{6}{5}$ را حساب کنید.

۳- محیط و مساحت مستطیلی به ابعاد $4\frac{2}{5}$ و $3\frac{1}{4}$ سانتی متر را حساب کنید.

۴- اندازه ی ضلع مربعی $2\frac{3}{4}$ متر است. محیط و مساحت این مربع را حساب کنید.

۵- $3\frac{2}{5} \times \square < 1$

۳-۵ عدد مثال بزنید که اگر به جای \square قرار دهیم، رابطه درست باشد:

جمله های زیر را با عدد یا کلمه ی مناسب کامل کنید.

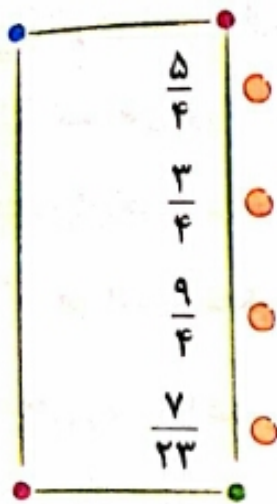
الف حاصل $\frac{7}{2} \div \frac{1}{2}$ برابر است با _____

ب حاصل $25 \div 5$ برابر است با _____

ج حاصل $1 \div \frac{3}{5}$ برابر است با _____

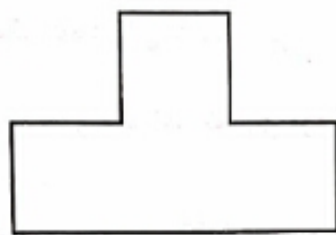
د برای تقسیم دو کسر، کافی است که کسر اول را در _____ کسر دوم ضرب کنیم.

هر یک از عبارات های ستون سمت راست را فقط به یک عبارت مناسب در ستون سمت چپ وصل کنید.

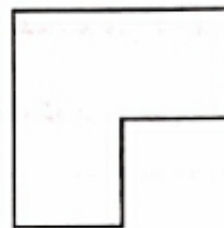


- کسر مربوط به عدد مخلوط $2\frac{1}{4}$
- نصف عدد $\frac{5}{2}$ برابر است با:
- حاصل ضرب $3\frac{2}{7}$ در این عدد می شود ۱
- این کسر با $\frac{6}{8}$ مساوی است.

با تقسیم هر شکل به قسمت های مساوی، کسر مورد نظر را نشان دهید.



$$\frac{3}{8}$$



$$\frac{5}{6}$$

الف) کسر $\frac{8}{5}$ را به عدد مخلوط تبدیل کنید و آن را با شکل نشان دهید.

ب) در جاهای خالی عدد مناسب بنویسید.

$$\frac{7}{5} \times \square = \frac{2}{2} \times \square = 4 \times 0 / 25$$

چهار کسر بعدی الگوی عددی زیر را بنویسید.

$$\frac{3}{10}, \frac{5}{16}, \frac{7}{22}, \frac{9}{28}, \quad _, \quad _, \quad _, \quad _$$

چهار کسر مساوی با $\frac{9}{6}$ بنویسید.

$$\frac{9}{6} = \quad = \quad = \quad = \quad = \quad =$$

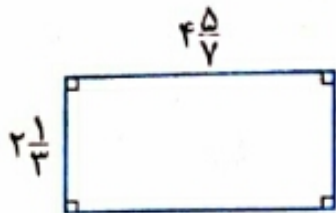
حاصل عبارت های زیر را به ساده ترین صورت بنویسید.

الف) $\frac{24}{36} \times \frac{15}{10} =$

ب) $3\frac{1}{7} \div 2\frac{1}{5} =$

سارا با $\frac{1}{3}$ پولش دفتر و با $\frac{1}{4}$ آن خودکار خرید و ۶۰۰۰ تومان برایش باقی ماند. کل پول او چند تومان بوده است؟

مساحت مستطیل شکل زیر را حساب کنید.



حاصل تقسیم زیر را به کمک شکل حساب کنید.

$$\frac{10}{11} \div \frac{2}{11} =$$

$$\frac{3}{4} + \frac{1}{3} - \frac{5}{6} =$$

حاصل عبارت مقابل را با استفاده از محور به دست آورید.



مقایسه کنید. (علامت $< = >$ قرار دهید.)

$$3\frac{7}{7} \bigcirc \frac{28}{7}$$

$$2\frac{8}{4} \bigcirc 4\frac{0}{11}$$

$$\frac{12}{7} \bigcirc 2\frac{3}{4}$$

$$2\frac{5}{2} \bigcirc 4\frac{1}{3}$$

۱۰۰۲۰۰۰۶ ، ۷۶۳۱۰۰ ، ۱۸۵۲ ، ۲۰۰۰۱۳ ، ۱۲۳۴۵

۱۰۰۰۹۹۹ ، ۴۸۱۴۲ ، ۳۰۱۵۱ ، ۲۰۰۰۷۱۸ ، ۱۲۳۳

۱۲۳۴۲ ، ۱۰۰۹۸ ، ۹۷۲۰۰ ، ۱۲۴۵

۲۰۰۴۱۲ ، ۳۰۰۳۳ ، ۴۵۰۰۱۲ ، ۸۰۰۱۳

اعدادی را که بر ۳ بخش پذیرند، مشخص کنید.

اعدادی که بر ۹ بخش پذیرند، کدامند؟

کدامیک از اعداد مقابل هم بر ۳ و هم بر ۹ بخش پذیرند؟

کدامیک از اعداد مقابل بر ۶ بخش پذیرند؟

با توجه به موارد خواسته شده در رقم مناسب قرار دهید.

بر ۵ بخش پذیر باشد. ۴۶

عددی بین ۱۲۰ و ۱۳۰ که بر ۳ بخش پذیر باشد. ۱۲

بر ۳ بخش پذیر باشد. ۱۴

بر ۶ بخش پذیر باشد. ۵۲

عددی که بر هیچ یک از اعداد ۲، ۳، ۵ و ۹ بخش پذیر نباشد. ۷

سه عدد کوچک تر از ۳۰ بنویسید که بر هیچ یک از اعداد ۲، ۳، ۵ و ۹ بخش پذیر نباشند.

۳۰ مهره داریم. آن ها را در دسته های چندتایی تقسیم بندی کنیم تا همه ی مهره ها در دسته هایی با تعداد مساوی قرار گیرند؟

اگر تعداد مهره ها ۲۰ تا باشد، آن ها را در دسته های چندتایی می توان دسته بندی کرد؟

اگر تعداد مهره ها بین ۲۰ تا ۳۰ تا باشد، در چه حالت هایی نمی توان آن ها را به هیچ یک از دسته های ۲، ۳، ۵ و ۹ تایی با تعداد مساوی

تقسیم بندی کرد؟

یک گالن ۴۰ لیتری داریم. با کدامیک از پیمانه های ۲ یا ۳ یا ۵ یا ۹ لیتری می توان آن را پر کرد؟

۱۵۶۸۵ ، ۲۳۴۶۰ ، ۷۸۴۳۲ ، ۱۲۳۴۰ ، ۴۵۶۵۷۵

کدام یک از اعداد مقابل بر ۲ بخش پذیر هستند؟

کدام یک از اعداد مقابل هم بر ۲ و هم بر ۵ بخش پذیر هستند؟

با کارت های ۴، ۵ و ۵ عددی سه رقمی و بدون تکرار ارقام بنویسید که:

👉 بر ۲ بخش پذیر باشد.

👉 بر ۵ بخش پذیر باشد.

👉 بر ۱۰ بخش پذیر باشد.

👉 بر ۵ بخش پذیر باشد ولی بر ۲ بخش پذیر نباشد.

👉 کوچک ترین عدد سه رقمی بخش پذیر بر ۲ کدام است؟ (با تکرار و بدون تکرار ارقام)

👉 بزرگ ترین عدد سه رقمی بخش پذیر بر ۵ کدام است؟ (با تکرار و بدون تکرار ارقام)

👉 کوچک ترین عدد سه رقمی بخش پذیر بر ۱۰ کدام است؟ (با تکرار و بدون تکرار ارقام)

۵۶۳۲۰۲ ، ۱۳۴۴۵ ، ۱۰۰۰۴۳۱ ، ۲۸۳۸۰۲ ، ۳۴۲۹۹۱

کدام یک از اعداد مقابل بر ۳ بخش پذیرند؟

۱۲۳۴۵۳ ، ۱۰۰۰۹۸ ، ۲۳۴۷۰۱ ، ۲۹۹۷ ، ۱۳۵۰۰۸

کدام یک از اعداد مقابل بر ۹ بخش پذیرند؟

۸۷۳۰۲۱۰ ، ۷۸۰۰۲۴۳ ، ۵۶۴۰۳۲۴ ، ۱۰۰۰۹۳ ، ۴۸۷۳۸

کدام یک از اعداد مقابل بر ۶ بخش پذیرند؟

با توجه به موارد خواسته شده، در رقم مناسب قرار دهید.

👉 بر ۲ بخش پذیر باشد. ۵۸

👉 عددی بین ۳۰ تا ۴۰ که بر ۳ بخش پذیر باشد. ۳

👉 بر ۹ بخش پذیر باشد. ۸۵

👉 بر ۶ بخش پذیر باشد. ۳۴

ریاضی ششم - تکلیف

هفته ی دوم مهر - 4

دبستان شهدای بسیج

☆ نجفی ☆

مریم در طبقه ی همکف یک ساختمان قرار دارد. او ابتدا با آسانسور ۶ طبقه بالا می رود، سپس از راه پله ۳ طبقه بالاتر می رود. بعد از آن با آسانسور ۵ طبقه پایین آمده و در آخر از راه پله ۳ طبقه ی دیگر پایین می آید. با رسم شکل نشان دهید، مریم در کدام طبقه قرار دارد؟

دمای هوای تهران ۶ درجه بالای صفر، دمای هوای تبریز ۱۵ درجه سردتر از تهران و دمای هوای اهواز ۲۳ درجه گرم تر از هوای تبریز می باشد. با رسم محور، دمای هر یک از شهرها را با یک عدد صحیح بیان کنید.

ساعت ۱۲ ظهر را مبدأ در نظر بگیرید. هر یک از زمان های زیر را با یک عدد صحیح بیان کنید. (هر دقیقه را یک واحد در نظر بگیرید).

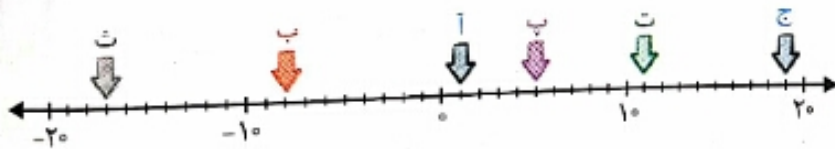
۱۱:۳۲' 🕒

۱۲:۰۹' 🕒

۱۲ دقیقه بعد از ظهر 🕒

۸ دقیقه پیش از ظهر 🕒

نقاط مشخص شده روی محور چه اعدادی را نشان می دهند؟



اعداد زیر را با هم مقایسه کنید.

🕒 $+8 \square 6$

🕒 $0 \square -4$

🕒 $-7 \square +3$

🕒 $-2 \square -18$

فاصله ی بین نقاط زیر روی محور اعداد، چند واحد است؟

🕒 بین نقاط -4 و -10

🕒 بین نقاط -2 و $+3$

دمای هوای شیراز ۱۷ درجه بالای صفر، دمای هوای اردبیل ۲۵ درجه سردتر از شیراز و دمای هوای بندرعباس ۳۳ درجه گرم تر از هوای اردبیل می باشد. با رسم محور، دمای هر یک از شهرها را با یک عدد صحیح بیان کنید.


ریاضی ششم - تکلیف


هفته ی دوم مهر_5

دبستان شهدای بسیج

☆ نجفی ☆


جاهای خالی را با عدد یا عبارت مناسب پر کنید.


عدد صفر از تمام اعداد صحیح مثبت، است. 

هر عدد صحیح از هر عدد صحیح بزرگ تر است. 


درستی یا نادرستی عبارات زیر را مشخص کنید.


هر عدد مثبت از صفر بزرگ تر است. 

عدد $2\frac{3}{4}$ - یک عدد صحیح منفی است. 


هر چه بر روی محور اعداد صحیح به سمت راست پیش برویم، عددها بزرگ تر می شوند. 

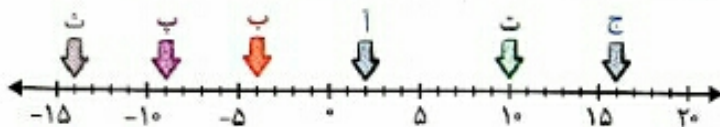
ساعت ۱۲ ظهر را مبدأ در نظر بگیرید. هر یک از زمان های زیر را با یک عدد صحیح بیان کنید. (هر دقیقه را یک واحد در نظر بگیرید.)

۱۲:۰۷' 

۱۱:۴۵' 

۱۰ دقیقه بعد از ظهر 

۵ دقیقه پیش از ظهر 



نقاط مشخص شده روی محور چه اعدادی را نشان می دهند؟

اعداد زیر را با هم مقایسه کنید.

 $+5 \square 4$


 $0 \square -3$

 $-4 \square +2$

 $-5 \square -17$

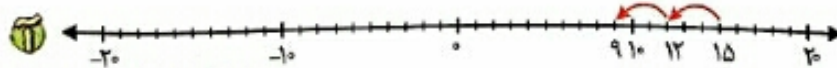
فاصله ی بین نقاط زیر روی محور اعداد، چند واحد است؟

 بین نقاط -2 و -5

 بین نقاط -3 و $+4$


اعداد روبه رو را از کوچک به بزرگ مرتب کنید.

$-72, -81, +12, 0, +3, -2, +81$



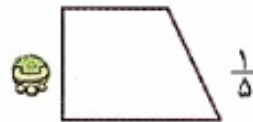
با استفاده از محور، هر یک از الگوهای زیر را ادامه دهید.

$+15, +12, +9, +6, \dots$



$-20, -16, -12, \dots$

- جاهای خالی را با عدد یا عبارت مناسب پر کنید.
- 🍌 برای هم مخرج کردن دو کسر بهترین روش پیدا کردن بین دو کسر است.
- 🍌 کوچک ترین مخرج مشترک بین دو کسر $\frac{1}{12}$ و $\frac{5}{18}$ برابر است با
- 🍌 برای مقایسه ی دو کسر به کمک محور ابتدا باید و هر واحد محور را به اندازه ی تقسیم بندی کرد.
- 🍌 درستی یا نادرستی هر عبارت را مشخص کنید.
- 🍌 در جمع و تفریق کسرها صورت ها را با هم و مخرج ها را با هم جمع و تفریق می کنیم.
- 🍌 حاصل عبارت $3\frac{2}{3} - 4$ برابر $1\frac{1}{3}$ است.
- 🍌 عدد مخلوط $5\frac{2}{3}$ از کسر $\frac{24}{4}$ کوچک تر است.
- 🍌 با تقسیم هر شکل به قسمت های مساوی، کسر مورد نظر را نشان دهید.



کسرهای بزرگ تر از واحد را به عدد مخلوط و عددهای مخلوط را به کسر تبدیل کنید.

🍌 $\frac{8}{7}$

🍌 $7\frac{2}{6}$

🍌 $\frac{110}{17}$

🍌 $1\frac{3}{4}$

🍌 $3\frac{0}{7}$

🍌 $0\frac{6}{11}$

🍌 $9\frac{9}{8}$

🍌 $2\frac{7}{3}$

🍌 $4\frac{7}{2}$

عدد مخلوط عبارت های زیر را بیابید.

🍌 $11\frac{3}{2}$

۴_ برای کلمه های داده شده هم خانواده بنویسید.

حضور	-----
------	-------

لفظ	-----
-----	-------

۵_ برای صفت های زیر، یک موصوف (اسم) بنویسید.



پرتوان



دلنشین

۶_ با هر دو کلمه یک جمله بسازید.

شگفت زده، هد هد:

جالب، اندیشه:

۷_ در درس سوم اگر جای ملک بود چگونه با باز برخورد می کردید در یک بند توضیح دهید.

۸_ معنی ابیات زیر را بنویسید.

تا ز اندک، تو جهان شود پر

کم گوی گزیده گوی چون در

از خرمن صد گیاه، بهتر

یک دسته گل دماغ پرور

هدیه‌های آسمان ششم دبستان

سوالات درس چهارم : باغ سری

کامل کنید...

- ۱- رادین به دوست خود می‌گوید: «به نماز نگو کار دارم؛ به کار گو وقت نماز است.» این کار رادین یک نوع است.
- ۲- امیرعلی دوست خود را از دخالت در کار دیگران باز می‌دارد. به این کار امیرعلی می‌گویند.
- ۳- در اصطلاح دینی، تشویق به کارهای خوب را و تذکر در مورد کارهای بد را می‌نامند.

درست یا نادرست...

- ۴- امر به معروف ممکن است با یک لبخند زدن به کسی که کار خوبی انجام داده اتفاق بیفتد.
- ۵- ما نباید به دوستان خود که کار ناشایسته‌ای انجام می‌دهند، تذکر دهیم.
- ۶- جمله‌ی «مدرسه، خانه‌ی دوم ماست؛ در حفظ تمیزی و زیبایی آن بکوشیم»، یک امر به معروف است.

پاسخ کامل دهید...

- ۷- امر به معروف یعنی چه؟ مثالی بزنید.
- ۸- نهی از منکر یعنی چه؟ مثالی بزنید.
- ۹- آیه‌ی زیر را ترجمه کرده و بنویسید این آیه در رابطه با چه موضوعی است؟
«وَلْتَكُنْ مِنْكُمْ أُمَّهَاتٌ يَدْعُونَ إِلَى الْخَيْرِ وَيَأْمُرُونَ بِالْمَعْرُوفِ وَيَنْهَوْنَ عَنِ الْمُنْكَرِ وَأُولَئِكَ هُمُ الْمُفْلِحُونَ»
- ۱۰- تذکر دادن در مورد کارهای بد به دیگران چه ضرورتی دارد؟
- ۱۱- در آیه‌ی ۱۰۴ سوره‌ی آل عمران خداوند چه کسانی را جزء رستگاران برمی‌شمرد؟
- ۱۲- در امر به معروف و نهی از منکر، به چه نکته‌ای باید توجه داشته باشیم؟

بر اساس تفاوت در به طرز بی تفاوتی و بی تفاوتی
می شود در وسایل ترها کمتر. مثل جدا کردن گاه از گندم

۷- تقطیر ساده : محصولی که از دو چیز ساخته شده اند و اختلاف تقطیر جوش آنها زیاد است مثل آب و اسل
اول عمل بخیتر را انجام داد ، بخارهای خارج شده را سرد می کنند تا فایده را جدا کنند .

۸- تقطیر چیز به چیز : محلولی که بیس از دو چیز ساخته شده اند مثل اجزای نفت خام و باز بر اساس
اختلاف نقطه جوش و جرمی هر کدام از اجزای آن و نسبت های مختلف برنج تقطیر جدا می شوند .

۹- کروماتوگرافی : جداسازی محلولی که اجزای آن صاف و یکدیگر جدا می باشد یا صاف است ، محلول
بسیار در ابتدا کمتر جا می گیرند ، طول جداسازی را در طول جداسازی می کنند و اضافی در جداسازی
۱۰- رسقا در فیلتر : رسقا همی است که عمل جداسازی مواد رسمی مانند آوره ، سونیاک از خون را انجام

می دهد (جازین کلید) و دارای دیواره ای فیلتر دار است با منافذی بسیار ریز . در این روش از عصاره ای
سلولزی استفاده می شود . با شلی لوله یا کبیه یا نوری دارد . حرکت اجزای آن محیط با توجه اختلاف خلقت صورت می گیرد .
سطل قیف د کانور



❖ عبارات‌های مناسب را به هم وصل کنید.

خان هفتم

خان ششم

خان پنجم

خان چهارم

خان سوم

خان دوم

خان اول

اولاد

جاودان

بیابان سخت

دبو

شیر فوی

دبو سپید

ازدها

❖ با کلمه‌های «فریب، چیرگی، جادوگری، سرانجام، متن زیر را کامل کنید.

در خان چهارم، رستم با روبه رو شد، جادوگر نخست با قصد و نیرنگ نزد رستم می‌آید. پس از کمی گفت و گو، رستم به حيله گری او پی می‌برد و برای او، از خدایان یاری می‌خواهد و او را از پا در می‌آورد.

❖ هر یک از عبارات سمت راست را به معنایش در سمت چپ وصل کنید.

از پس کار دشوار برآمدن

از پای درآوردن

تندی کردن

تیمار کردن

از دست دادن طاقت و تحمل

به فرجام بردن

به پایان رساندن

به تنگ آمدن

کشتن

پرخاش کردن

مراقبت کردن

از هفت خان گذشتن

❖ در ابیات و جمله‌های زیر از مبالغه استفاده شده است، شما تعیین کنید که این مبالغه درباره‌ی چه چیزی است.

نبرد مرا دست، چرخ بلند!

که گفت برو دست رستم ببند؟

باز به گردون رسید ناله‌ی هر مرغ زار

باد بهاری وزید از طرف مرغزار

بچه جان چه خبرت شده؟ چرا این قدر داد و فریاد می‌کنی؟ گوشم کر شد از بس جیغ کشیدی!

❖ عبارات‌های مناسب را به هم وصل کنید.

خان هفتم

خان ششم

خان پنجم

خان چهارم

خان سوم

خان دوم

خان اول

اولاد

جاودان

بیابان سخت

دبو

شیر فوی

دبو سپید

ازدها

❖ با کلمه‌های «فریب، چیرگی، جادوگری، سرانجام، متن زیر را کامل کنید.

در خان چهارم، رستم با روبه رو شد، جادوگر نخست با قصد و نیرنگ نزد رستم می‌آید. پس از کمی گفت و گو، رستم به حيله گری او پی می‌برد و برای او، از خدایان یاری می‌خواهد و او را از پا در می‌آورد.

❖ هر یک از عبارات سمت راست را به معنایش در سمت چپ وصل کنید.

از پس کار دشوار برآمدن

از پای درآوردن

تندی کردن

تیمار کردن

از دست دادن طاقت و تحمل

به فرجام بردن

به پایان رساندن

به تنگ آمدن

کشتن

پرخاش کردن

مراقبت کردن

از هفت خان گذشتن

❖ در ابیات و جمله‌های زیر از مبالغه استفاده شده است، شما تعیین کنید که این مبالغه درباره‌ی چه چیزی است.

نبرد مرا دست، چرخ بلند!

که گفت برو دست رستم ببند؟

باد بهاری وزید از طرف مرغزار

باز به گردون رسید ناله‌ی هر مرغ زار

بچه جان چه خبرت شده؟ چرا این قدر داد و فریاد می‌کنی؟ گوشم کر شد از بس جیغ کشیدی!

❖ مفهوم هر یک از ابیات زیر را بنویسید:

بدو تاخت مانند آذر گشسب

چو رستم بدیدش بر انگیخت اسب

چنین گفت: کای داور دادگرا!

از آن پس نهاد از بر خاک، سر

به پیش جهان آفرین شد نخست

ز بهر نیایش سر و تن بشت

سر از تن بکنندش به کردار شیر

سر و گوش بگرفت و یالش دلیر

❖ با معنای واژه «بر» را در دو بیت زیر بنویسید.

فرو ریخت چون رود، خون از برش

بزد تیغ و بنداخت از بر، سرش

چنین گفت: کای داور دادگر

از آن پس نهاد از بر خاک، سر

❖ مفهوم هر یک از ابیات زیر را بنویسید:

بدو تاخت مانند آذر گشسب

چو رستم بدیدش بر انگیخت اسب

چنین گفت: کای داور دادگرا!

از آن پس نهاد از بر خاک، سر

به پیش جهان آفرین شد نخست

ز بهر نیایش سر و تن بشت

سر از تن بکنندش به کردار شیر

سر و گوش بگرفت و یالش دلیر

❖ با معنای واژه «بر» را در دو بیت زیر بنویسید.

فرو ریخت چون رود، خون از برش

بزد تیغ و بنداخت از بر، سرش

چنین گفت: کای داور دادگر

از آن پس نهاد از بر خاک، سر

هریه‌های آسمان ششم دبستان

درس ششم: سیمای فوہان

کامل کنید...

- ۱- سوره‌ی احزاب، آیه‌ی ۳۳ می‌فرماید: «همانا خدا اراده کرده است که همه‌ی پلیدی‌ها و ناپاکی‌ها را از شما دور سازد و شما را پاک و مطہر گرداند.»
- ۲- امامان از هرگونه و به دور بودند و مردم را با آگاهی کامل از دستورات دین، هدایت و راهنمایی می‌کردند.

درست یا نادرست...

- ۳- امام موسی کاظم (ع) در آمد کشاورزی خود را در اختیار فقیران قرار می‌داد.
- ۴- امام کاظم (ع) هیچ‌گاه به خاطر خرمت کارگران سر سقره با آنان غذا نخوردند.
- ۵- امام هفتم شیعیان هیچ‌گاه با کارگران مشورت نمی‌کرد، زیرا علم و مقام ایشان از آنان بالاتر بود.
- ۶- اهل بیت پیامبر با رفتار نیک و دوری از کارهای زشت و ناپسند پاک شده‌اند و می‌توانند الگوی مسلمانان باشند.

پاسخ کوتاه دهید...

- ۷- این حدیث از کیست؟ «هر کس ما را دوست دارد، پس شبیه ما عمل کند.»
- ۸- هر یک از امامان قبل از شهادت، چه کسی را به مردم معرفی می‌کردند تا مردم در تشخیص دچار سردرگمی نباشند؟
- ۹- این اعتقاد را که خداوند جانشینان پس از حضرت محمد (ص) را نیز تعیین و از طریق او معرفی نموده است، در اصطلاح چه می‌گویند؟
- ۱۰- به کسی که به فرمان الهی و با آگاهی کامل از آموزه‌های دین، بعد از پیامبر، رهبری جامعه‌ی اسلامی را بر عهده می‌گیرد، چه می‌گویند؟

پاسخ کامل دهید...

۱۱- امامان (ع) چه ویژگی‌هایی داشتند که خداوند ایشان را پیشوای ما قرار داده است؟ (۴ مورد)

۱۲- معنی آیهی ۳۳ سورهی احزاب «إِنَّمَا يُرِيدُ اللَّهُ لِيُذْهِبَ عَنْكُمُ الرِّجْسَ أَهْلَ الْبَيْتِ وَيُطَهِّرَكُمْ تَطْهِيراً» چیست؟ و در رابطه با چه موضوعی تأکید می‌کند؟

۱۳- پیامبر (ص) در خصوص معرفی جانشینان و پیشوایان پس از خود چه می‌فرمایند؟

۱۴- حضرت علی (ع) دربارهی الگوپذیری از اهل بیت (ع) چه می‌فرمایند؟

۱۵- ما مسلمانان چه وظایفی نسبت به امامان خود داریم؟

انتخاب کنید...

۱۶- آیهی تطهیر (آیهی ۳۳ سورهی احزاب) در مورد چه کسانی نازل شده است؟

- (۱) در مورد امام علی (ع)
 (۲) در مورد پیامبر (ص) و اهل بیت ایشان (ع)
 (۳) در مورد کافرانی که توبه کردند.
 (۴) در مورد غیبت امام زمان (عج)

۱۷- حدیث «مَنْ أَحَبَّنَا فَلْيَعْمَلْ بِعَمَلِنَا» توسط چه کسی و در رابطه با چه موضوعی بیان شده است؟

- (۱) پیامبر اکرم (ص) - الگوپذیری از اهل بیت (ع)
 (۲) حضرت علی (ع) - الگوپذیری از اهل بیت (ع)
 (۳) پیامبر اکرم (ص) - دوست داشتن اهل بیت (ع)
 (۴) حضرت علی (ع) - دوست داشتن اهل بیت (ع)

۱۸- کدام یک از موارد زیر جزء سیمای خوبان (صفات اهل بیت) نیست؟

- (۱) با هیچ کس مغرورانه سخن نمی‌گفتند و کسی را با القاب زشت صدا نمی‌زدند.
 (۲) به بهانه‌ی شوخی کسی را مسخره نمی‌کردند.
 (۳) خطای دیگران را به راحتی نمی‌بخشیدند و آنان را سرزنش می‌کردند.
 (۴) ایشان دانشمندترین و باایمان‌ترین مردم زمان خود بودند.

۱۹- عبارت زیر به کدام یک از اصول دینی مسلمانان اشاره دارد؟

- «ما معتقدیم که خداوند، جانشینان پس از حضرت محمد (ص) را نیز تعیین و از طریق پیامبر به مردم معرفی نموده است.»
 (۱) امامت (۲) نبوت (۳) عدل (۴) معاد

❖ کلمه های هم معنی را به هم وصل کنید.

- | | |
|------------|--------------|
| • ایستادگی | • آسوده خاطر |
| • مطمئن | • هدف |
| • همدم | • شوکت |
| • مقصود | • مونس |
| • شکوه | • پایداری |

❖ در جملات زیر منظور از بخشی را که زیر آن خط کشیده شده، بنویسید.

۱- شما به کمک چشم و از راه دیدن با خط آشنا می شوید و آن را درک می کنید.۲- همان گونه که گفتم، عمر و زندگی پر ماجرایی دارم.۳- من هم موجودی زنده هستم و زندگی من، فراز و فرودها و داستانی طولانی دارد.


❖ جاهای خالی را در جملات زیر با حروف پیوند ، که، ولی، یا، کامل کنید.

گاهی کسانی دیگر، دوستی کرده ایم و پیمان محبت بسته ایم.

شجاعت و دلیری، صفتهای پسندیده ای هستند باید احتیاط را هم فراموش نکنیم.

افتخارهایی شما فرزندان مهربان می آفرینید، باعث سربلندی و اعتبار من است.

❖ با سه حرف اصلی نوشته شده، سه واژه ی هم خانواده بنویسید.



❖ جاهای خالی را با توجه به معنای داده شده کامل کنید.

۱- ات.....اد: همسبستگی (ح-ه)

۲- تلف.....: به زبان آوردن، گفتن (ز،ذ،ض،ظ)


۳-.....ا.....ر: آشکار، پیدا (ز،ذ،ض،ظ)(ه-ح)

۴- ا..... تبار: ارزش (ع-ث و)

❖ دو واژه بنویسید که دو شکل نوشتاری داشته باشد و هر دو شکل آن صحیح باشد.



❖ دو واژه بنویسید که پایان آن‌ها مانند واژه‌ی «اتفاقاً» تئوین دار باشد.



❖ جمله های درست را با علامت ✓ و جمله های نادرست را با علامت × مشخص کنید.

درست نادرست

۱- ریشه‌ی کلمه‌ی «صادق» و «صداقت» واژه‌ی صدق است.

درست نادرست

۲- مترادف کلمه‌ی «آوا» واژه‌ی «آوار» است.

درست نادرست

۳- حروف ربط برای برقراری پیوند بین دو یا چند کلمه و جمله به کار می‌رود.

درست نادرست

۴- کلمه‌ای که عیناً در آخر دو مصراع تکرار شود «ردیف» نام دارد.

❖ جدول زیر را کامل کنید.

کلمه	جمع با «ان»	جمع با «ها»	صفت
درخت			
سخن			

هدیه‌های آسمان ششم دبستان

سؤالات درس پنجم : شتریان با ایمان

کامل کنید...

- ۱- خداوند در قرآن، همه‌ی ما مسلمانان را یکدیگر شمرده است.
- ۲- یکی از وظایف دینی ما مسلمانان، و است.
- ۳- هنگامی که ابراهیم (ع) فهمید سرپرستش دشمن بت پرست است، از او جست.
- ۴- امام کاظم (ع) در زمان حکومت زندگی می‌کرد.

درست یا نادرست...

- ۵- مسلمانان به خاطر «تبری» در مراسم برائت از مشرکین در حج شرکت می‌کنند.
- ۶- آیه‌ی ۱۰ سوره‌ی حجرات که می‌فرماید: «أِنَّمَا الْمُؤْمِنُونَ إِخْوَةٌ» به موضوع تبری اشاره دارد.
- ۷- «تولی» یعنی ما باید مؤمنان را که دوستان خدا هستند، دوست بداریم.

پاسخ کوتاه دهید...

- ۸- در ایران چه روزی «روز مبارزه با استکبار جهانی» نام‌گذاری شده است؟
- ۹- دشمنی کردن با دشمنان خدا و بیزاری جستن از آنان را در اصطلاح چه می‌گویند؟
- ۱۰- دوست داشتن مؤمنان خدا و حمایت کردن از آن‌ها را در اصطلاح چه می‌گویند؟
- ۱۱- در زمان امام موسی کاظم (ع) کدام حاکم ستمگر عباسی حکومت می‌کرد؟

پاسخ کامل دهید...

۱۲- چهار مورد از ویژگی‌های دوستان خدا و دو مورد از ویژگی‌های دشمنان خدا را در بنویسید.

۱۳- چه ارتباطی میان «تولی و تبری» و «امر به معروف و نهی از منکر» وجود دارد؟

۱۴- امام کاظم (ع) در مورد ستمگران چه فرمودند؟

۱۵- دو وظیفه‌ی مهم مسلمانان، یعنی «تولی» و «تبری» را تعریف کنید.

۱۶- خداوند در قرآن درباره‌ی رفتار با یکدیگر چه سفارشی کرده است؟

۱۷- براساس آیه‌ی ۲۹ سوره‌ی فتح، حضرت محمد (ص) و یارانش در برابر دشمنان کافر و با یکدیگر چگونه بوده‌اند؟

انتخاب کنید...

۱۸- کدام پادشاه در زمان امام موسی کاظم (ع) حکومت می‌کرد؟

(۱) نمرود (۲) فرعون (۳) هارون (۴) متوکل

۱۹- آیه‌ی ۲۹ سوره‌ی فتح که می‌فرماید: «مُحَمَّدٌ رَسُولُ اللَّهِ وَالَّذِينَ مَعَهُ أَشِدَّاءُ عَلَى الْكُفَّارِ رُحَمَاءُ بَيْنَهُمْ» کدام وظیفه‌ی مسلمانان را بیان می‌کند؟

(۱) زکات و خمس (۲) نماز و روزه (۳) حج و جهاد (۴) تولی و تبری

۲۰- در کشور ما ایران، مردم در چه روزهایی برای بیزاری از دشمنان (تبری) راهپیمایی می‌کنند؟

(۱) ۲۲ بهمن - روز قدس - ۱۳ آبان (۲) ۱۲ بهمن - روز قدس - ۱۲ اردیبهشت

(۳) ۲۲ بهمن - ۱۲ بهمن - ۱۳ آبان (۴) ۱۲ بهمن - ۱۳ آبان - ۱۲ اردیبهشت

۲۱- آیه‌ی مقابل در رابطه با چه کسی است و به کدام کار ایشان اشاره دارد؟ «فَلَمَّا تَبَيَّنَ لَهُ أَنَّهُ عَدُوٌّ لِلَّهِ تَبَرَّأَ مِنْهُ»

(۱) حضرت موسی (ع) - تولی (۲) حضرت ابراهیم (ع) - تبری

(۳) حضرت موسی (ع) - تبری (۴) حضرت ابراهیم (ع) - تولی

۲۲- کدام یک از آیه‌های زیر در خصوص موضوع «تولی» نیست؟

(۱) (ای پیامبر به مؤمنان) بگو «اگر خدا را دوست دارید، از من پیروی کنید.»

(۲) «إِنَّمَا الْمُؤْمِنُونَ إِخْوَةٌ»

(۳) «لَا يَتَّخِذِ الْمُؤْمِنُونَ الْكَافِرِينَ أَوْلِيَاءَ»

(۴) (ای پیامبر به مؤمنان) بگو به خاطر رسالتم از شما پاداشی جز دوست داشتن اهل بیتم نمی‌خواهم.

درس هوشیاری

۱- معنی واژگان زیر را بنویسید.

کمند: هلاک: چیره: ملک:

درنگ: ملال: صواب: مالا مال:

مجال: آزرده خاطر: رکاب دار:

۲- با تک تک حرف های کلمه زیر یه کلمه جدید بسازید

معلوم

۳- برای کلمه های چند هجایی دو جمله متفاوت بنویسید.

آبادی

کاری

نام و نام خانوادگی:

به نام خدا

تاریخ:

شماره:

ارزشیابی پایانی فصل دوم ریاضی ششم

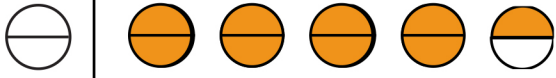
مدت: ۴۵ دقیقه

نام معلم:

صفحه ی ۱

سطح آسان

۱- شکل مقابل چه کسری را نشان می دهد؟



(د) $\frac{2}{8} \times 9$

(ج) $\frac{2}{8} \times 4$

(ب) $\frac{1}{2} \times 8$

(الف) $\frac{1}{2} \times 4$

۲- یکی از کسرهای زیر با بقیه برابر نیست. آن را مشخص کنید

(د) $\frac{12}{24}$

(ج) $\frac{8}{12}$

(ب) $\frac{4}{6}$

(الف) $\frac{24}{36}$

۳- حاصل ضرب $\frac{3}{4} \times \frac{4}{12}$ با حاصل ضرب کدام عبارت های زیر برابر است؟

(د) $\frac{5}{4} \times \frac{3}{5}$

(ج) $\frac{12}{8} \times \frac{1}{6}$

(ب) $\frac{4}{12} \times \frac{5}{3}$

(الف) $\frac{5}{16} \times \frac{1}{3}$

۴- حاصل $(1 - \frac{2}{4})$ به کدام یک از عددهای زیر نزدیک تر است؟

(د) $\frac{6}{6}$

(ج) $\frac{3}{14}$

(ب) $\frac{4}{9}$

(الف) ۲

۵- حاصل عبارت های زیر را به دست آورید.

$$1 \frac{1}{6} - \frac{1}{9} = \frac{1 + \frac{3}{5}}{\frac{1}{2} + \frac{3}{5}}$$

$$\frac{2 \frac{3}{5} \times 1 \frac{3}{12}}{\frac{25}{36} \div \frac{15}{48}} =$$

۶- اعداد زیر را از کوچک به بزرگ (و از چپ به راست) مرتب کنید:

$\frac{1}{7}$ ، 187 ، $\frac{17}{19}$ ، $1/5$ ، $\frac{5}{14}$ ، $0/4$

۷- معکوس هریک از عددهای زیر را به صورت کسر بنویسید.

$\frac{2}{5}$

$\frac{1}{9}$

۱۶

۰/۸

$\frac{2}{11} \bigcirc \frac{2}{8}$

$10 \bigcirc 8 \frac{1}{9}$

$\frac{1}{2} \bigcirc \frac{4}{8}$

$\frac{18}{18} \bigcirc \frac{5}{5}$

۸- مقایسه کنید:

نام و نام خانوادگی:

به نام خدا

تاریخ:

شماره:

ارزشیابی پایانی فصل دوم ریاضی ششم

نام معلم:

مدت: ۴۵ دقیقه

صفحه ی ۲

۹ - حدود $\frac{1}{5}$ دانش آموزان ایرانی در دوره ی ابتدایی تحصیل می کنند. اگر $\frac{1}{6}$ آنها در کلاس ششم تحصیل کنند، چه کسری از کل دانش آموزان کلاس ششمی هستند؟

۱۰ - در جاهای خالی چه عددی را باید نوشت؟

$$\frac{12}{36} = \frac{\bigcirc}{48} = \frac{8}{\bigcirc}$$

۱۱ - نقاط مشخص شده چه کسری را نشان می دهند؟



۱۲ - سه کسر بین $\frac{1}{3}$ و $\frac{1}{4}$ بنویسید

۱۳ - راحله با نصف پول خود یک کتاب خرید و با $\frac{3}{5}$ باقیمانده ی پولش یک دفتر خرید. اگر پس از خرید کتاب و دفتر ۲۰۰۰ تومان برای راحله باقی مانده باشد، پول راحله چقدر بوده است؟ راه حل خود را شرح دهید

۱۴ - برای تقسیم مقابل یک مسئله طرح و آن را حل کنید.

$$\frac{1}{2} \div 6$$

علوم

- ۱ - پیشنهاد راه حل یا پاسخ های احتمالی برای حل یک مسأله یا مشکل نامیده می شود.
- الف (مشاهده) ب (فرضیه) ج (جمع آوری اطلاعات) د (نظریه)
- ۲ - کدام یک از موارد زیر جزء مواد مصنوعی است؟
- الف (پلاستیک) ب (سنگ) ج (پنبه) د (نفث خام)
- ۳ - جملات صحیح یا غلط را مشخص کنید.
- الف) مشاهده کردن باید همیشه دقیق باشد. ص غ
- ب) فرضیه ها باید منطقی و قابل آزمایش کردن باشند. ص غ
- ج) بازیافت ، باعث کاهش هزینه ها می شود. ص غ
- د) بیشتر مواد و وسایلی که امروزه از آن ها استفاده می کنیم ، طبیعی هستند. ص غ
- ۴ - کاغذ یک ماده ی است که ماده ی اصلی و خام مورد نیاز برای ساخت آن است.
- ۵ - تغییر رنگ پتاسیم پر منگنات در سرکه و آب اکسیژنه یک تغییر است.
- ۶ - به عمل آوردن و تغییر مواد مصرف شده به گونه ای که دوباره قابل استفاده باشند نام دارد.
- ۷ - به فرضیه ای که از راه های گوناگون و آزمایش کردن درست درآمده است ، می گویند.

مطالعات اجتماعی

۱. با کدام یک از موارد زیر نمی توان دوست شد؟
- الف) افراد شجاع ب) انسان سخن چین ج) افراد خوش اخلاق د) هیچ کدام
۲. هرکس ادب ندارد.....هم ندارد.
- الف) فکر ب) مال ج) عقل د) هوش
۳. مهم ترین موضوع بعد از انتخاب دوست چیست؟
- الف) حفظ دوستی ب) کمک به دوست ج) نه گفتن به دوست د) ناراحتی دوست

۴. با نیکان همدلی و کن تا از آنان باشی و از بدان شو تا از آنان نباشی.
۵. به دوست باشیم و در غیاب دوستان هم از او دفاع کنیم.
۶. اگر خطایی از دوستان دیدیم نکنیم.

۷. دوستی حد و مرز مشخصی دارد. ص غ
۸. وقتی ما تصمیم می گیریم، از بین دو یا چند چیز مواردی را انتخاب می کنیم. ص غ
۹. همه ی تصمیماتی که ما می گیریم آثار و نتایج خوبی دارند. ص غ
۱۰. نه گفتن به دوست همیشه خوب است. ص غ

علوم

درستی و نادرستی هر یک از عبارات های زیر را مشخص کنید ؟

- ۱ - سرعت برخورد شهاب سنگ ها تاثیری بر اندازه گودال ایجاد شده در سطح زمین ندارد.
- ۲ - وزن اجسام تاثیری در رسیدن آن ها به سطح زمین ندارد.
- ۳ - پشم و پوست از مواد مصنوعی هستند.
- ۴ - خواص آب اکسیژنه در مقابل نور تغییر می کند.
- ۵ - برای تهیه کاغذ ضد آب از پلاستیک استفاده می کنند.
- ۶ - آب اکسیژنه رنگ پتاسیوم پرمنگنات را تغییر می دهد.

گزینه درست را انتخاب کنید .

۷ - کدام مرحله از مراحل تبدیل چوب به کاغذ شیمیایی است ؟

- الف - بریدن درخت و حمل آن به کارخانه ب- تبدیل چوب به چیپس چوب
ج - خشک کردن خمیر و تهیه کاغذ د-تبدیل تکه های چوب به خمیر و ازبین بردن رنگ آن
۸ - کدام ماده خاصیت رنگ بری ندارد ؟
الف - پتاسیوم پرمنگنات ب - آب ژاول ج - آب اکسیژنه د - کلر

مطالعات اجتماعی

پاسخ صحیح را انتخاب کنید .

- ۱ - تاثیر متقابل رفتار و اخلاق دوستان با یکدیگر به کدام یک از موضوعات زیر بستگی دارد؟
الف) نیاز به دوستی ب) حد و مرز دوستی ج) انتخاب دوست د) حفظ و نگهداری دوستی
- ۲ - کدام یک از گزینه های زیر از ویژگیهای دوست خوب است ؟
الف) عاقل بودن ، بخیل بودن ، با ایمان بودن ب) نیکوکار بودن ، صبور بودن ، راستگو بودن
ج) نیکوکار بودن ، صبور بودن ، سخن چین بودن د) نیکوکار بودن، صبور بودن ، بخیل بودن
- ۳ - کدام گزینه بیانگر مفهوم بیت زیر است؟
تو اول بگو با کیان زیستی من آن چه بگویم که تو کیستی
الف) تاثیر دوست بر حل مشکلات ب) تاثیر دوست بر هویت
ج) تاثیر دوست بر شخصیت و اخلاق د) تاثیر دوست بر افزایش آرامش
- ۴ - اینکه ما با دوستانمان چه رفتارهایی داشته باشیم تا دوستی ما ادامه پیدا کند "مربوط به کدام گزینه است؟
الف) حفظ و نگهداری دوستی ب) وفاداری دوستان ج) حد و مرز دوستی د) احترام به دوستان
- ۵ - انسان موجودیاست و نمی تواند تنهایی زندگی کند.
- ۶ - یکی از موضوعات مهم در روابط دوستیاست.

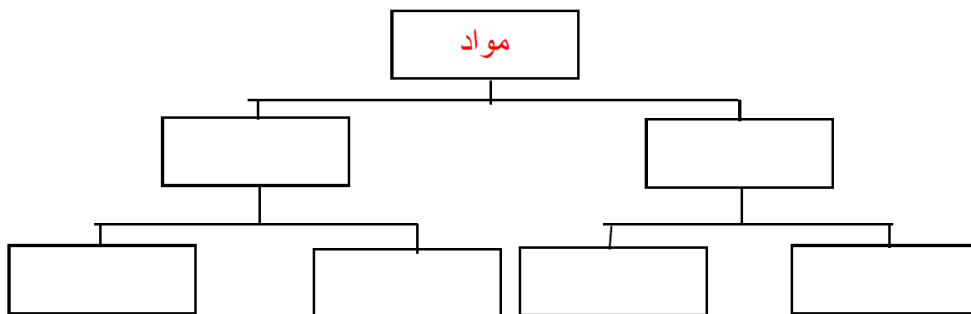
علوم

۱ - به چه موادی ، مواد مصنوعی گفته می شود ؟ دو مورد از مواد مصنوعی را مثال بزنید .

۲ - اندازه ی سطح یک جسم چه تاثیری بر زمان رسیدن آن به زمین دارد ؟

۳ - با توجه به طرح مقابل ، جاهای خالی را با کلمات مناسب داده شده کامل کنید .

(خاک - گوشت قرمز - طبیعی - کیف - مصنوعی - پول)



۴ - با رها کردن یک جسم از ارتفاع ۳ متری بر روی ماسه ، گودالی به عمق ۵ سانتی متر ایجاد می شود . چه تعداد

عوامل زیر می تواند بر روی عمق گودال ایجاد شده موثر باشد ؟

الف (ارتفاع رها شدن) ب (سطح جسم) ج (نوع خاک محل برخورد) د (شکل جسم)

۵ - دانش آموزی می خواهد تاثیر اندازه ی دانه های خاک را بر میزان نفوذ آب در خاک بررسی کند . به همین

علت آزمایشی را طراحی می کند . به نظر شما او برای این کار کدام مورد را باید تغییر دهد ؟

الف (نوع خاک) ب (نوع آب) ج (زمان عبور آب از خاک) د (مقدار خاک)

مطالعات اجتماعی

۱ - جاهای خالی را با دقت پر کن .

الف (----- یکی از مهم ترین نیازهای ما به شمار می رود .

ب (یکی از موضوعات مهم در روابط دوستی ، ----- است .

ج (وقتی ما ----- می گیریم ، از بین دو یا چند چیز، مواردی را انتخاب می کنیم و مواردی را کنار

می گذاریم .

این جمله از کدام معصوم بزرگوار است ؟ ((بدترین افراد کسانی هستند که میان مردم سخن چینی می کنند و بین

دوستان جدایی می اندازند .))

ب (امام علی علیه السلام

الف (حضرت محمد صلی ...علیه و آله وسلم

د (امام حسین علیه السلام

ج (امام حسن علیه السلام

علوم

- ۱ - کدام مورد ، مراحل روش علمی را به ترتیب و درستی نشان می دهد ؟
- الف (طرح مسئله - مشاهده - فرضیه - آزمایش - نتیجه - نظریه
ب (مشاهده - طرح مسئله - فرضیه - آزمایش - نتیجه - نظریه
ج (فرضیه - مشاهده - طرح مسئله - آزمایش - نتیجه - نظریه
د (مشاهده - طرح مسئله - نظریه - آزمایش - نتیجه - فرضیه
- ۲ - با توجه به مراحل تحقیق علمی کدام گزینه درست است ؟
- الف (همیشه در کارهای علمی از آزمایش استفاده می کنیم .
ب (در آزمایش های مقایسه ای همه ی عوامل بجز یکی متغیرند .
ج (یکی از مراحل آزمایش علمی تعمیم دادن به موضوع است .
د (نتیجه گیری از آزمایش همان نظریه است .
- ۳ - کدام یک از جملات زیر نادرست است ؟
- الف (مشاهده ی ما در همه ی مراحل علمی باید دقیق باشد .
ب (نظریه همان فرضیه است که پس از آزمایش اثبات شده است .
ج (به استفاده از اندام های مختلف مشاهده می گویند .
د (فرضیه همان نظریه است که اثبات شده است .

مطالعات اجتماعی

- ۱ - چرا گاهی موقع نمی توانیم به دوستانمان ((نه)) بگوییم.
- الف (چون نباید به دوستانمان ((نه)) بگوییم ب (چون دوستانمان خیلی خوب هستند.
ج (شاید دیگر دوستی پیدا نکنیم. د (احساس می کنیم که با ((نه)) گفتن ، آنها از دست ما ناراحت می شوند.
۲ - دو مورد از اهمیت دوستی را بنویس.
- ۳ - چه کارهایی کنیم که دوستی ما به هم نخورد و محکم تر شود؟(دو مورد)

- ۴ - چرا باید در دوستی ها حد و مرز را رعایت کنیم؟

تست فارسی

۱- شعر «همه از خاک پاک ایرانیم» سروده چه کسی است؟

- ۱) محمود حکیمی ۳) نادر ابراهیمی
۲) محمد رضا ترکی ۴) ایرج میرزا

۲- کدام دسته از کلمه های زیر، هم خانواده نیستند؟

- ۱) اخبار- مخبر ۳) حقیقت- محقق
۲) کتاب- مکتوب ۴) معلومات- عملیات

۳- در مصراع «اشرف و آنجب تمام ملل»، «اشرف» و «آنجب» به ترتیب به چه معنا هستند؟

- ۱) شریف- نجیب ۲) شریف تر- نجیب
۳) شریف ترین- نجیب ترین ۴) شریف- نجیب ترین

۴- نشانه ی «ندا» در عبارت «سعدیا» چیست؟

- ۱) سعدی ۳) ا
۲) یا ۴) سعدیا

۵- مانند کردن کسی یا چیزی، به کسی یا چیز دیگر، چه نامیده می شود؟

- ۱) تشبیه ۳) کنایه
۲) توصیف ۴) جان بخشی

۶- در پایان «ندا و منادا» کدام نشانه ی نگارشی قرار می گیرد؟

- ۱) نقطه ۳) درنگ نما
۲) علامت تعجب ۴) سه نقطه

۷- در جمله ی «برخی دیگر مانند بیماری هستند» چه آرایه ای وجود دارد؟

- ۱) کنایه ۳) مبالغه
۲) تشبیه ۴) تضاد

۸- در جمله های زیر، کدام کلمه «مفعول» است؟

«مینا، شاخه گل زیبایی خرید.»

- ۱) شاخه ی گل زیبا ۳) گل
۲) مینا ۴) خرید

۱۴- پس از شهادت امام حسن عسکری (ع) چه اتفاقی برای حضرت مهدی (عج) افتاد؟

۱۵- در زمان غیبت امام عصر (عج) وظیفه‌ی ما مسلمانان چیست؟

۱۶- امام مهدی (عج) در دوران غیبت کبری، به مردم چه سفارشی کردند؟

۱۷- ولی فقیه چگونه جامعه را اداره می‌کند؟

انتخاب کنید...

۱۸- در دوران غیبت کبری، از طرف امام زمان (عج)، چند نفر به عنوان جانشین خاص ایشان تعیین شده‌اند؟

(۱) چهار نفر (۲) شش نفر (۳) دو نفر (۴) جانشین خاص ندارند.

۱۹- در زمان غیبت امام زمان (عج) با آگاهی کامل از دستورهای دینی و شرایط سیاسی - اجتماعی به

اداره‌ی امور جامعه می‌پردازد.

(۱) مراجع تقلید (۲) ولی فقیه (۳) رئیس جمهور (۴) روحانیون

۲۰- مردم ایران به رهبری توانستند حکومت شاه را سرنگون کنند.

(۱) امام خمینی (ره) (۲) آیت‌الله خامنه‌ای (۳) آیت‌الله بهشتی (۴) آیت‌الله مدرس

تست فارسی

۹- کدام یک از کلمه های زیر، مفرد است؟

- ۱) حکما ۲) ایران ۳) شیران ۴) مساجد

۱۰- حکایت «انواع مردم» نوشته ی چه کسی است؟

- ۱) سعدی ۳) ملا ادهم عزلتی خلخالی

- ۲) سلمان هراتی ۴) امام محمد عزالی

۱۱- در مصراع «چشم انتظار هفت تو دین و مبین است» کدام آرایه ی ادبی به کار رفته است؟

- ۱) تشبیه ۲) مبالغه ۳) کنایه ۴) جان بخشی

۱۲- در بیت «از راه اگر مانی روشن شود هوا / تکلیف شهر خاطره ی های تو، روشن است» چند جمله وجود دارد؟

- ۱) دو جمله ۳) یک جمله

- ۲) سه جمله ۴) چهار جمله

۱۳- کدام یک از گزینه های زیر، مترادف کلمه ی «تحقق» است؟

- ۱) جمع حق ۲) حق داشتن ۳) به حقیقت پیوستن ۴) تحقیق کردن

۱۴- کدام یک از گزینه های زیر، یک «ترکیب وصفی» است؟

- ۱) دوران کودکی ۲) غرّش شیر ۳) فرزندان شجاع ۴) جمهوری اسلامی

۱۵- کدام یک از کلمه های زیر، به ترتیب سه هجایی و دو هجایی هستند؟

- ۱) تندگویان- خانه شان ۲) محبت- بعضی ۳) متدین- جواد ۴) تحصیل- حکومت

۱۶- قبل از نقل قول، از کدام نشانه ی نگارشی استفاده می شود؟

- ۱) درنگ نما ۲) دو نقطه ۳) نقطه ۴) علامت تعجب

۱۷- مفرد کدام یک از کلمه های زیر با «ان» جمع بسته نمی شود؟

- ۱) فصول ۲) درخت ها ۳) شهدا ۴) فقرا

۱۸- ویژگی هایی مانند «رنگ، بو، فاصله و ...» از ویژگی های کدام نوع نوشته است؟

- ۱) گزارش ۳) شرح حال

- ۲) زندگی نامه ۴) توصیف

۱۹- با توجه به جمله ی «شغل دریاقلی اوراق فروشی بود»، «اوراق فروشی» به چه معناست؟

- ۱) خرید و فروش کاغذ ۳) جمع آوری کاغذ

- ۲) جمع آوری قطعات کهنه ی اتومبیل ۴) خرید و فروش قطعات کهنه ی اتومبیل

۲۰- در مصراع «دریاقلی! به وسعت دریاست نام تو» کدام یک از موارد زیر وجود دارد؟

- ۱) جان بخشی- مبالغه ۳) ندا و منادا- مبالغه

- ۲) ندا و منادا- جان بخشی ۴) کنایه- مبالغه

سؤالات درس هشتم : دوران غیبت

کامل کنید...

- ۱- خلفای عباسی به ویژه از زمان امام به بعد با شدت بیشتری از روش آزار و اذیت امامان استفاده می کردند.
- ۲- بعد از شهادت امام حسن عسکری (ع)، امام یثوای مردم شد.
- ۳- اولین غیبت امام مهدی (عج) غیبت یا نامیده می شود.
- ۴- غیبت صغری امام عصر (عج) سال طول کشید.
- ۵- جانشینان امام عصر در دوران غیبت صغری نفر بودند.

درست و نادرست...

- ۶- خلفای بنی امیه به تمام جاسوسان و مأموران دستور داده بودند هر جا امام مهدی (عج) را دیدند، دستگیر کنند.
- ۷- جانشینان خاص امام زمان (ع) انسان هایی بسیار دانا، با ایمان و مورد اعتماد امام بودند.
- ۸- امام مهدی (عج) به فرمان خداوند از دید مردم پنهان شد تا کسی نتواند به ایشان دسترسی پیدا کند.

پاسخ کامل دهید...

- ۹- دوران غیبت کبری امام زمان (عج) از چه زمانی آغاز شد؟
- ۱۰- مقاهیم زیر را تعریف کنید.
الف) غیبت صغری:
ب) غیبت کبری:
- ۱۱- وظیفه اصلی جانشینان خاص امام مهدی (عج) در دوران غیبت صغری چه بود؟
- ۱۲- در جامعه اسلامی، ولی فقیه کیست و چه وظیفه ای دارد؟
- ۱۳- چرا نیروهای خلفای عباسی خانه ی امام حسن عسکری (ع) را زیر نظر داشتند؟

دریاقلی

واژه های زیر را با «ان» جمع بنیدید.

- ۱- بیگانه ←
 ۲- جوان ←
 ۳- دانا ←
 ۴- باوفا ←

معنای کلمات زیر را در مکان مناسب بنویسید.

نفوذ	حادثه
اشرف	آنکن

نوع جمله های زیر را با علامت × مشخص کنید.

جمله	امری	عاطفی	خبری	پرسشی
آرش، جان خود را در راه ایران فدا کرد				
شجاعانه در مقابل دشمن ایستادگی کنید				
از او پرسیدند که کدام عمل فاضل تر است				
عجب هوای دلپذیر و مطبوعی است				

جمله های درست را با علامت ✓ و جمله های نادرست را با علامت × مشخص کنید.

- ۱- برای نشان دادن شک و تردید در پایان جمله علامت «؟» می گذاریم. درست نادرست
- ۲- بعد از نقل قول علامت «:» می گذاریم. درست نادرست
- ۳- بعد از جمله‌ی عاطفی علامت «!» قرار می گیرد. درست نادرست
- ۴- برای مکث کوتاه در جمله از علامت «،» استفاده می شود. درست نادرست

بیت های زیر را به فارسی روان و امروزی برگردانید.

فردا اگر درنگ کنی، کوچه های شهر میدان جنگ تن به تن و تانک با تن است

دریاقلی! به وسعت دریاست نام تو تاریخ در تلفظ نام تو الکن است

سؤالات درس هفتم : دست در دستِ دوست

کامل کنید...

- ۱- در درس «دست در دستِ دوست» کسی که موفق به زیارت امام عصر (عج) می شود نام دارد.
- ۲- اگر جایی آب نداشته باشیم برای نماز خواندن به جای وضو انجام می دهیم.
- ۳- با گرفتن و نماز آیات بر ما واجب می شود.

پاسخ کامل دهید...

- ۴- ما چگونه می توانیم از توجه امام زمان (عج) و دعاهاى ایشان بهره مند شویم؟
- ۵- علامه حلی چه ویژگی هایی داشتند که به دیدار امام زمان (عج) موفق شدند؟

انتخاب کنید...

- ۶- این حدیث بیشتر به کدام امام نسبت داده می شود؟
«من به یاد همه‌ی شما هستم و از احوال شما آگاه هستم.»
(۱) امام علی (ع) (۲) امام حسین (ع) (۳) امام رضا (ع) (۴) امام عصر (عج)
- ۷- داستان «دست در دستِ دوست» با کدام یک از موضوعات درسی زیر ارتباط نزدیک دارد؟
(۱) شتریان باایمان (۲) خورشید پشت ابر (۳) سرور آزادگان (۴) آداب زندگی
- ۸- در راه سفر به کربلا، علامه حلی چرا در لحظات اول دیدار با امام عصر (عج) نام ایشان را نمی پرسد؟
(۱) شکوه و عظمت امام مانع می شود نامش از ببرد.
(۲) علامه از قبل امام را می شناختند و چندین بار ایشان را دیده بودند.
(۳) در دیدار با امام عصر نباید نام ایشان را پرسید.
(۴) امام در همان لحظه‌ی اول خودشان را معرفی کرده بودند.

دریاقله

در هر یک از دسته ها دور واژه‌ای که با واژه های دیگر هم خانواده نیست خط بکشید.

انتقال - تقلب - منتقل - ناقل - نقل

مجمع - جوامع - جمعیت - تجمع - معجون

مقابله - تقابل - مقبول - القاب - قبول

جدول زیر را مانند نمونه پر کنید:

واژه‌ی اصلی	بخش افزوده	واژه‌ی تازه	معنای واژه تازه
گور	+ استان	گورستان	جایی که گور، فراوان باشد.
گل			
کوه			
تاجیک			
دلاور	+ انه	دلاورانه	همراه با دلاوری و بی باکی
دلیر			
شجاع			

کلمه مناسب را برای هر عبارت از میان کمانک‌ها انتخاب و دور آن خط بکشید.

۱- دریاقلی، با فداکاری شگفت انگیز خود مانع (سقوط، سقوط) شهر آبادان شد.

۲- با دوستان نیکویی و سازگاری کن و در هر نیک و بد، به ایشان (مشفق، مشفق) باش.

با توجه به معنی هر واژه، جای خالی را با حرف مناسب از میان حروف داده شده کامل کنید.

۲- نفو..... : فرو رفتن و رخنه کردن در چیزی (ز-ذ-ظ)

۱- تلف.....: به زبان آوردن چیزی (ذ-ظ-ض)

۴- جب.....ه: میدان نبرد با دشمن (ه-ح)

۳- ک..... ن: قدیمی (ه-ح)

متن زیر را بخوانید و علامت‌های «،» «()» «:» «؟» در جای مناسب قرار دهید.

سعدی می گوید وقتی به جهل جوانی بانگ بر مادرم زدم دل آزرده به کنجی نشست و گریان همی گفت مگر خردی فراموشی کردی که درشتی می کنی
خدای تعالی با حضرت رسول ص می گوید ای محمد ما از قصه‌های رسولان و خبرهای پیغمبران بر تو می خوانیم آنچه بدان دل را ثابت گردانیم و فایده‌های کلی تو را حاصل گردد

ای وطن

معنای کلمات زیر را در مکان مناسب بنویسید.

	غرور		تهی مغز
	جان پناه		مایه

جدول زیر را کامل کنید.

کلمه	غرور	دلیل	عطر	صادق
هم خانواده				

در هر دسته با توجه به نمونه، معنای هر واژه را روبه روی آن بنویسید.

..... ← چرخش ← رویش	کوشش ← تلاش کردن
..... ← پژوهش ← پرورش	
..... ← شامگاهان ← بامدادان	بهاران ← هنگام بهار

با واژه های زیر، جمله هایی در وصف وطن بنویسید.

۱- دلاوری:

۲- نگهبان:

ای وطن

در عبارت های زیر، کلمه ای منادا کدام اند؟

منادا	عبارت
	خداوندا، به فریاد دلم رس
	خنده کنان گفت که ای بی خبر
	خواهر خوبم، قدر خانواده را بدان

با توجه به معنای هر واژه بهترین حرف را از میان حروف ص:ق:ظ:س:ض:ع، انتخاب کنید و در جای خالی بنویسید.

- ۱- ق.....ه: داستان
۲- عاش.....: شیفته، دوستدار
۳- حاف.....: نگهبان، نگهدار
۴-ادقانه: همراه با راستی و راستگویی

هر یک از بیت های زیر، از چند جمله تشکیل شده است؟

تعداد جملات	بیت
	رو که در خانه‌ی خود بسته ایم نیست گه کار، بسی خسته ایم
	خدایا! جهان پادشاهی تو راست ز ما خدمت آید، خدایی تو راست
	خنده کنان گفت که ای بی خبر مور ندیدم چو تو کوتاه نظر
	گفت یکی روز مرا دیده‌ای نیک بیندیش کجا دیده‌ای

فعل‌ها را طبقه بندی کنید.

نوشت، خواهم گفت، خوردیم، می‌پردازیم، پاسخ دادند، خواهیم بخشید، خواهند رفت، می‌برد، بدائید

گذشته	حال	آینده

در هر مورد نشانه‌های ندا را پیدا کرده و دور آن خط بکشید، سپس واژه‌های منادا را در جای خالی بنویسید.

نمونه‌ها	واژه‌هایی که منادا هستند
ای زبان فارسی، ای درّ دریای دری	ای تو میراث نیاکان، ای زبان مادری
سعدی، اگر عاشقی کنی و جوانی	عشق محمد بس است و آل محمد
ای دیو بلند پای در بند	ای گنبد گیتی، ای دماوند

۱۴- اعتقاد به «اصل معاد» یعنی چه؟ توضیح دهید.

۱۵- مراحل زندگی انسان را به ترتیب نام ببرید.

۱۶- بین زندگی دنیوی و جهان آخرت چه تفاوت‌هایی وجود دارد؟

۱۷- آیهی «وَالْآخِرَةُ خَيْرٌ وَأَبْقَى» اشاره به چه موضوعی دارد؟

انتخاب کنید...

۱۸- بیت «مرگ بوته هرگز نیست / عمر بوته را پایان» به کدام اصل اعتقادی مسلمانان اشاره دارد؟

(۱) توحید (۲) معاد (۳) نبوت (۴) امامت

۱۹- کدام یک از موارد زیر صحیح نیست؟

(۱) زندگی واقعی و اصلی ما در جهان آخرت خواهد بود.

(۲) در جهان آخرت، نیکوکاران و مؤمنان همیشه در بهشت خواهند بود.

(۳) پس از مرگ وارد دوره‌ای از زندگی می‌شویم که شگفتانگیز اما محدود است.

(۴) زندگی دنیوی فرصتی است تا تلاش کنیم و جهان آخرت خود را آباد کنیم.

۲۰- کدام یک از آیات زیر به «اصل معاد» اشاره‌ای نمی‌کند؟

(۱) «وَلَا أَنْتُمْ عَابِدُونَ مَا أَعْبُدُ»

(۲) «وَالْآخِرَةُ خَيْرٌ وَأَبْقَى»

(۳) «أَنْتُمْ أَشَدُّ خَلْقًا أَمِ السَّمَاءِ بِنَاهَا»

(۴) «الْيَوْمَ تُجْزَى كُلُّ نَفْسٍ بِمَا كَسَبَتْ لَا ظُلْمَ الْيَوْمَ، إِنَّ اللَّهَ سَرِيعُ الْحِسَابِ»

۲۱- کدام یک از موارد زیر مراحل زندگی انسان در این دنیا را به درستی بیان می‌کند؟

(۱) نه ماهگی درون شکم مادر - کودکی - نوجوانی - بزرگسالی - پیری

(۲) نه ماهگی درون شکم مادر - کودکی - نوجوانی - جوانی - بزرگسالی

(۳) نه ماهگی درون شکم مادر - کودکی - نوجوانی - جوانی - بزرگسالی - پیری

(۴) نه ماهگی درون شکم مادر - کودکی - نوجوانی - بزرگسالی - جوانی - کهنسالی

سوالات درس نهم : جهان دیگر

کامل کنید...

- ۱- اولین مرحله‌ی زندگی، مرحله‌ی است که در شکم مادر به سر می‌بریم.
- ۲- خداوند در قرآن کریم می‌فرماید: «مرگ زندگی نیست.»
- ۳- زندگی اصلی ما انسان‌ها در جهان خواهد بود.
- ۴- زندگی دنیا است و روزی به پایان می‌رسد، اما زندگی در جهان آخرت، دائمی و است.
- ۵- کسانی که نسبت به شک دارند، قدرت خدا را خیلی کم می‌شمارند.
- ۶- نیکوکاران در جای می‌گیرند و از همیشگی پروردگار بهره‌مند می‌گردند.

درست و نادرست...

- ۷- جهان آخرت بسیار بزرگ‌تر و شگفت‌انگیزتر از این جهان است.
- ۸- زندگی در جهان آخرت محدود است و روزی به پایان می‌رسد.
- ۹- خداوند در سوره‌ی حمد از قیامت با نام «یوم‌الدین» یاد کرده است.

پاسخ کامل دهید...

- ۱۰- قرآن کریم در پاسخ به این سوال که «آیا زندگی ما با مرگ پایان می‌پذیرد؟» چه می‌فرماید؟
- ۱۱- چرا به زندگی پس از مرگ «زندگی برتر» گفته می‌شود؟
- ۱۲- خداوند در سوره‌ی «یس» در پاسخ به یکی از کافران که استخوان‌های پوسیده‌ای را نزد پیامبر (ص) خرد کرد و سوالی درباره‌ی زنده شدن پس از مرگ مطرح کرد، چه می‌فرمایند؟
- ۱۳- خداوند در آیه‌ی ۲۷ سوره‌ی نازعات در پاسخ به کسانی که به قیامت و قدرت خدا شک دارند، چی می‌فرماید؟

۱ حاصل عبارت های زیر را به دست آورید .

$$3 + \frac{1}{3} =$$

$$3 + \frac{3}{3} =$$

$$3 - \frac{1}{3} =$$

$$3\frac{2}{5} \div 51 =$$

$$\frac{25}{10} \times \frac{2}{75} =$$

$$2\frac{1}{2} + 2\frac{1}{5} =$$

$$2\frac{1}{2} - 2\frac{1}{5} =$$

حل مسأله با رسم شکل

زهرا با $\frac{3}{5}$ پولش کتاب و با $\frac{1}{2}$ باقی مانده ی آن دفتر خرید . اگر ۸۰۰ تومان برایش باقی مانده باشد . کل پول زهرا چقدر است ؟

$\frac{2}{5} \times \frac{1}{3} =$	$\frac{2}{7} \times \frac{1}{4} =$	<p>۱ حاصل ضرب های زیر را با رسم شکل به دست آورید .</p> $\frac{2}{5} \times \frac{3}{4} =$
<p>۲ حاصل ضرب های زیر را به دست آورید .</p> $3\frac{1}{4} \times 2\frac{2}{5} =$ $7 \times \frac{3}{35} =$ $\frac{88}{35} \times \frac{42}{66} =$ $\frac{18}{20} \times \frac{56}{24} \times \frac{25}{14} =$		
<p>۳ سن فاطمه ۶ سال می باشد . سن فاطمه چند سال است ؟ $\frac{2}{5}$ از $\frac{3}{4}$</p>		
<p>۴ الف) $\frac{2}{5}$ برابر $\frac{4}{5}$ چند است ؟ ب) خمس ۶۰ چند است ؟ ج) $\frac{1}{4}$ از $\frac{3}{5}$ عددی ۳۳ می باشد . آن عدد چیست ؟</p>		
<p>۵ در تساوی های زیر در جای خالی عدد مناسب قرار دهید .</p> $\frac{3}{4} = \frac{36}{\square}$ $\frac{49}{\square} = \frac{21}{15}$ $\frac{\square}{51} = \frac{14}{17}$ $\frac{24}{56} = \frac{\square}{35}$ $\frac{\square}{27} = \frac{8}{36}$		

۱- به حروف و به رقم بنویسید.

۴۲/۰۱۵ :

نود و سه و هفت صدم :

۲- عدد اعشاری ۴۷۵/۲۶ را در جدول ارزش مکانی قرار دهید و آن را به حروف بنویسید.

صدگان	دهگان	یکان	دهم	صدم

به حروف:

۳- گسترده عدد زیر را به صورت اعشار و کسر بنویسید.

۳/۹۸

کسری:

اعشاری:

۴- کسرهای زیر را به عدد اعشاری تبدیل کنید. (در صورت لزوم ابتدا یک کسر بنویسید که مخرج آن ۱۰، ۱۰۰، یا ... باشد)

$$\frac{۲۳}{۱۰} =$$

$$\frac{۴۵}{۱۰۰۰} =$$

$$\frac{۸}{۵} =$$

۵- حاصل جمع و تفریق های زیر را بدست آورید.

$$\begin{array}{r} ۱۲/۳۰۷ \\ + ۱۷/۵۱۴ \\ \hline \end{array}$$

$$\begin{array}{r} ۴/۲۷۹ \\ - ۱/۳۵۸ \\ \hline \end{array}$$

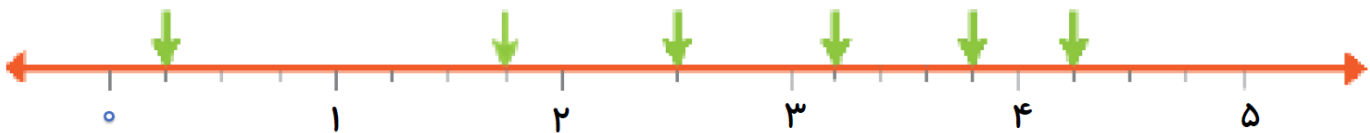
۶- اعداد اعشاری زیر را مقایسه کنید. ($< = >$)

$$۲۳/۵۹۸ \bigcirc ۲۳/۶۷$$

$$۱/۰۵ \bigcirc ۱/۰۵۰$$

$$۵/۹۸ \bigcirc ۴/۸۵$$

۷- نقطه های مشخص شده روی محور کدام عددهای اعشاری را نشان می دهند؟



۸- حاصل ضرب و تقسیم های زیر را بنویسید؟

$$۱/۷$$

$$۳/۱ \times ۱۰ =$$

$$۶/۲۴ \div ۱۰ =$$

$$\times ۱/۶$$

$$۴/۲۳ \times ۱۰۰۰ =$$

$$۴/۷۹۶ \div ۱۰۰ =$$

$$۳/۷ - ۱/۹ =$$

۹- تفریق روبه رو را روی محور نمایش دهید.



محیط مستطیلی $۸۰/۵۶$ سانتی متر و عرض آن $۱۶/۶$ سانتی متر است. طول مستطیل چند سانتی متر است؟

جاهای خالی را با عدد مناسب پر کنید.

$$۱۷/۹۳ \div \square = ۰/۱۷۹۳$$

$$۴/۷۳ \times ۱۰ = \square$$

$$\square \times ۱۰۰ = ۱/۸$$

$$۲/۳ \div \square = ۰/۰۰۲۳$$

حاصل جمع و تفریق های اعشاری زیر را به دست آورید. (بدون استفاده از ماشین حساب)

$$۱) ۳/۷۵ + ۱/۴۴ =$$

$$۲) ۳/۶۵ + ۱۲/۷۲ =$$

$$۳) ۶/۹۲ - ۱/۱۸ =$$

$$۴) ۵/۰۲ - ۲/۸۸ =$$

محیط یک چرخ $۲/۱۸$ است. اگر این چرخ ۱۱۶ دور بزند، چه مسافتی را طی می کند؟

مسافت طی شده = دور تعداد \times محیط چرخ

علوم

الف) پاسخ صحیح را با علامت (*) انتخاب کنید.

۱ کدام قسمت زیر، برای تهیه کاغذ به کار می رود؟

- الف) ریشه ب) گل
ج) پوست درخت د) تنه درخت

۲ در تهیه کاغذ، از کلر چه استفاده ای می شود؟

- الف) برای استحکام ب) ایجاد سطح صاف
ج) برای سفید کردن د) رنگی کردن

۳ کدامیک از اسیدهای زیر صنعتی می باشد؟

- الف) آب لیمو ب) جوهر نمک
ج) سرکه د) جوهر لیمو

۴ منشاء بیشتر آتشفشان ها مربوط به کدام لایه زمین می باشد؟

- الف) گوشته ب) پوسته
ج) هسته د) هیچ کدام

۵ گرم ترین قسمت زمین کدام قسمت آن است؟

- الف) هسته درونی ب) گوشته
ج) هسته بیرونی د) پوسته

۶ کدام لایه زمین به ترتیب (جامد - خمیری - ذوب) هستند؟

- الف) پوسته - گوشته - هسته درونی
ب) پوسته - گوشته - هسته بیرونی
ج) هسته درونی - هسته بیرونی - گوشته
د) هسته درونی - پوسته - گوشته

اجتماعی

۱ کدامیک جزء عوامل طبیعی مؤثر بر کشاورزی است؟

- الف) نیروی کار ب) ابزار و وسایل
ج) آب و هوا د) سرمایه

۲ بیشترین منابع گازی ایران در ناحیه‌ی شمال شرقی مربوط به کدام منطقه است؟

- الف) استان خوزستان ب) عسلویه و کنگان در استان بوشهر
ج) سرخون در استان هرمزگان د) خانگیران سرخس در خراسان رضوی

۳ انرژی هسته‌ای از شکستن هسته‌ی چه عنصری به وجود می آید؟

- الف) طلا ب) آلومینیوم
ج) اورانیوم د) آهن

علوم

جملات صحیح و غلط را با علامت (*) مشخص کنید.

- | | | | | | |
|--------------------------|-----|--------------------------|------|---|---|
| <input type="checkbox"/> | غلط | <input type="checkbox"/> | صحیح | ۱ | هسته خارجی حالت مایع دارد. |
| <input type="checkbox"/> | غلط | <input type="checkbox"/> | صحیح | ۲ | نازک ترین لایه زمین پوسته می باشد. |
| <input type="checkbox"/> | غلط | <input type="checkbox"/> | صحیح | ۳ | برای تهیه خمیر کاغذ فقط از آب اکسیژنه استفاده می شود. |
| <input type="checkbox"/> | غلط | <input type="checkbox"/> | صحیح | ۴ | یکی از راه های کاهش آلودگی هوا، بازیافت می باشد. |
| <input type="checkbox"/> | غلط | <input type="checkbox"/> | صحیح | ۵ | موادی مانند کاغذ، جزو مواد طبیعی می باشند. |
| <input type="checkbox"/> | غلط | <input type="checkbox"/> | صحیح | ۶ | از میان همه ی قسمت های گیاه، از پوست برای تهیه کاغذ استفاده می شود. |

اجتماعی

جواب صحیح را با علامت (×) مشخص کنید:

جواب صحیح را با علامت (×) مشخص کنید:		
۱	کدامیک از عوامل انسانی در کشاورزی است؟ الف) آب ب) خاک ج) آب و هوا د) بذر	
۲	کدام یک مرحله ی کاشت کشاورزی است؟ الف) شخم زدن زمین ب) کندن علف های هرز ج) جدا کردن کاه از گندم د) چیدن میوه از درخت	
۳	اولین کار در هنگام تصمیم گیری چیست؟ الف) انتخاب بهترین راه ب) خوب فکر کردن ج) به روز بعد موکول کردن د) بی تفاوت شدن	
۴	کدام یک سوخت فسیلی نیست؟ الف) زغال سنگ ب) برق ج) نفت د) گاز	
۵	بیشترین منابع گازی در شمال شرق ایران در استان قرار دارد؟ الف) خراسان شمالی ب) کرمانشاه ج) بوشهر د) خراسان رضوی	
۶	کدامیک از مراحل تصمیم گیری صحیح نیست؟ الف) جمع آوری اطلاعات ب) تفکر مناسب ج) پیش بینی د) تصمیم ناگهانی	
۷	کدام یک از منابع گازی در استان خراسان رضوی قرار دارد؟ الف) عسلویه ب) سرخون ج) خانگیران و سرخس د) کنگان	
۸	کدام زمین برای کشاورزی مناسب نیست؟ الف) زمین های کوهپایه ب) زمین های سنگلاخ ج) جلگه ها د) دشت هموار	
۹	مراحل کشاورزی به ترتیب عبارتند از: الف) برداشت - کاشت - داشت ب) کاشت - برداشت - داشت ج) داشت - کاشت - برداشت د) کاشت - داشت - برداشت	

علوم

به موادی که آنها را از مواد موجود در طبیعت میسازند، مواد می گویند.

فلز ها جریان الکتریسیته هستند.

برای شناسایی اسید ها از استفاده می شود.

به مجموع پوسته و قسمت جامد بالایی گوشته ، می گویند.

اجتماعی

به پرسش های زیر پاسخ دهید :

در موقع تصمیم گیری به چه نکاتی باید توجه کرد؟

چرا انتخاب دوست یک موضوع مهم است؟

دو فعالیت مهم کشاورزی چیست؟

عوامل انسانی موثر در کشاورزی را نام ببرید.

یک مزیت کشت گلخانه ای نسبت به سایر کشت ها در چیست؟

سه گروه عمده ی انرژی را نام ببرید

سوخت فسیلی را تعریف کنید؟

برای حفظ محیط زیست استفاده از برق حرارتی بهتر است یا برق آبی؟ چرا؟

به پرسش های زیر پاسخ دهید :

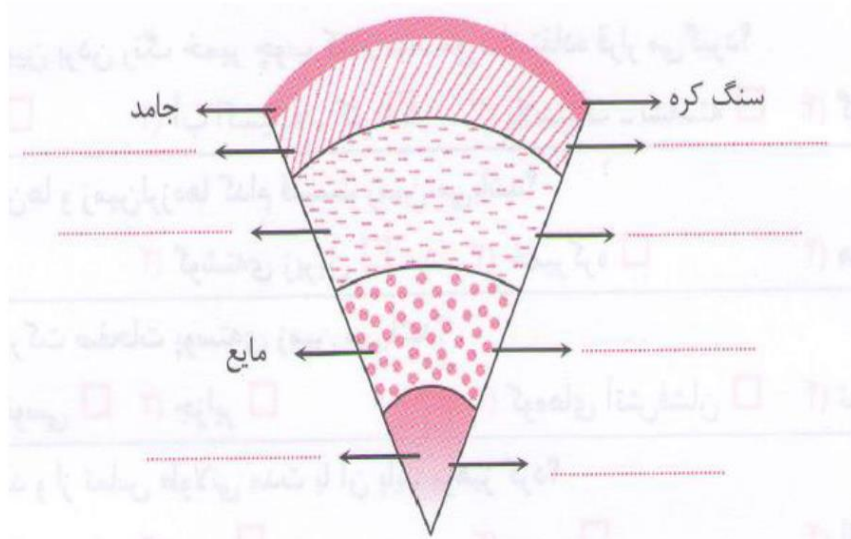
حرکت قطعات سنگ کره بر روی خمیر کره باعث پیدایش کدام پدیده ها می شود ؟

شکل زیر لایه های زمین را نشان می دهد. با توجه به اطلاعات داده شده به سوالات زیر پاسخ دهید.


الف) نام لایه های زمین را در جای خالی بنویسید.

ب) جنس هر لایه را در جای خالی بنویسید.

ب



الف



- ۱ منابع گاز سرخون در کدام استان قرار دارد؟
 الف) بوشهر ب) هرمزگان ج) خوزستان د) خراسان رضوی
- ۲ کدام انرژی قابل تجدید نیست؟
 الف) آب ب) باد ج) نفت د) خورشید
- ۳ آخرین مرحله ی تصمیم گیری است؟
 الف) خوب فکر کردن ب) انتخاب بهترین راه ج) بررسی راه حل و پیش بینی نتایج د) هیچکدام
- ۴ کدامیک از زمین های زیر برای کشاورزی مناسب است؟
 الف) زمین آهکی و نمکی ب) زمین سنگلاخ ج) زمین آبرفتی د) زمین پر شیب
- ۵ در وسیله ای که می خریم هر چه فلش آن به سمت نزدیکتر باشد انرژی کمتری مصرف می کند.
 الف) زرد ب) قرمز پر رنگ ج) سبز کم رنگ د) سبز پر رنگ
- ۶ با کدامیک از گزینه های زیر می توان انرژی الکتریکی تولید کرد؟
 الف) سوخت فسیلی ب) باد ج) انرژی هسته ای د) هر سه مورد

سوالات درس دهم : آداب زندگی

کامل کنید...

- ۱- به رفتارهایی که ما هنگام روبه‌رو شدن با دیگران و برای رعایت ادب در برابر آن‌ها انجام می‌دهیم، می‌گویند.
- ۲- «فَاصْلِحُوا بَيْنَ أَخْوَيْكُمْ»: پس میان برادرانتان کنید.
- ۳- «اجْتَنِبُوا كَثِيرًا مِنَ الظَّنِّ»: از زیاد بپرهیزید.

درست یا نادرست ...

- ۴- عمل کردن به دستورات قرآن درباره‌ی «آداب معاشرت»، مهربانی و صمیمیت را افزایش می‌دهد. × √
- ۵- پیامبر (ص) همیشه لبخند بر لب داشت و با صدای بلند می‌خندید. × √
- ۶- پیامبر (ص) با هر کسی روبه‌رو می‌شد، از بزرگ و کوچک، همه به او سلام می‌دادند و ایشان هم به آرامی پاسخ می‌دادند. × √

پاسخ دهید...

- ۷- در هر سطر عبارت سمت راست را به یکی از عبارتهای مربوط در سمت چپ وصل کنید.

۱ آشتی دادن بین دو نفر	•	رفتار شایسته
۲ عیب‌جویی از دیگران	•	رفتار ناشایسته
۳ تجسس در کار دیگران	•	گزارش پستریده
۴ غیبت‌کردن	•	گزارش ناپستریده
		رفتار خوب
		رفتار بد
		رفتار ناشایسته
		رفتار شایسته

سوالات درس دوازدهم : سفرهای با برکت

کامل کنید...

- ۱- نماز مسافر در شرایطی شکسته می شود، یعنی باید نماز چهار رکعتی را بخوانند.
- ۲- در مسافرت، نمازهای و هیچ گاه شکسته خوانده نمی شوند.
- ۳- مسافری که نمازش را می خواند باید در سفر هم روزه بگیرد.
- ۴- اگر در ماه مبارک رمضان، قبل از اذان ظهر حرکت کنیم روزه ی ما می شود؛ اما اگر بعد از ظهر مسافرت کنیم، روزه ی آن روز ما است.

درست یا نادرست ...

- ۵- در سفر مکان هایی هست که می توان نماز را کامل خواند؛ حتی اگر کم تر از ده روز آن جا بمانیم. × ✓
- ۶- سنایش از تهران به مشهد مسافرت کرده و قصد دارد ۳ روز آن جا بماند. در این حالت نمازش کامل است. × ✓
- ۷- اگر در ماه مبارک رمضان، مسافر بعد از ظهر به شهرش برسد، روزه ی آن روز او باطل است. × ✓
- ۸- نماز و روزه در مسجدالحرام، مسجدالنبی و مسجد کوفه کامل و صحیح است. × ✓

پاسخ دهید...

- ۸- در هر سطر عبارت سمت راست را به یکی از عبارت های مربوط در سمت چپ وصل کنید.

<input type="checkbox"/> نماز شکسته است. <input type="checkbox"/> نماز کامل است.	<input type="checkbox"/> اگر مسافت طی شده کم تر از ۲۲۱۵ کیلومتر باشد.
<input type="checkbox"/> روزه صحیح است. <input type="checkbox"/> روزه باطل است.	<input type="checkbox"/> اگر مسافت طی شده بیشتر از ۲۲۱۵ کیلومتر باشد و ده روز آن جا بمانیم.
<input type="checkbox"/> نماز شکسته است. <input type="checkbox"/> نماز کامل است.	<input type="checkbox"/> اگر مسافت طی شده بیشتر از ۲۲۱۵ کیلومتر باشد و کم تر از ده روز آن جا بمانیم.

- ۹- مسافر در چه حالتی باید نماز خود را کامل بخواند؟

- ۱۰- اگر کسی به خاطر مسافرت نتوانست چند روز، روزه بگیرد، باید چه کار کند؟

۲

۸- آداب معاشرت چیست؟

۹- رعایت آداب معاشرت در برخورد با دیگران نشانه‌ی چیست؟

۱۰- رعایت آداب معاشرت در ارتباط با دیگران چه فایده‌ای دارد؟

۱۱- خداوند در سوره‌ی حجرات در خصوص آداب معاشرت چه دستوراتی داده‌اند؟ (۴ مورد)

۱۲- خداوند در آیات ۱۰ تا ۱۲ سوره‌ی حجرات ما را به انجام دادن چه رفتارهای شایسته‌ای سفارش و از انجام دادن چه رفتارهای ناشایسته‌ای نهی می‌کند؟

انتخاب کنید...

۱۳- خداوند در آیه‌ی ۱۲ سوره‌ی حجرات کدام عمل ناپسند را به «خوردن گوشت برادر مرده» تشبیه کرده‌اند؟

- (۱) عیب‌جویی کردن
(۲) دادن القاب زشت به یکدیگر
(۳) غیبت کردن
(۴) مسخره کردن همدیگر

۱۴- کدام یک از آیه‌های زیر، «آشتی و اصلاح بین همدیگر» را سفارش می‌کند؟

- (۱) «جَنَّبُوا كَثِيرًا مِّنَ الظَّنِّ»
(۲) «وَلَا تَلْمِزُوا أَنفُسَكُمْ»
(۳) «وَلَا تَنَابَزُوا بِاللُقَابِ»
(۴) «فَاصْلِحُوا بَيْنَ أَخْوَابِكُمْ»

۱۵- کدام یک از موارد زیر درباره‌ی «عیب‌جویی از دیگران» است؟

- (۱) «وَلَا تَلْمِزُوا أَنفُسَكُمْ»
(۲) «وَلَا تَنَابَزُوا بِاللُقَابِ»
(۳) «جَنَّبُوا كَثِيرًا مِّنَ الظَّنِّ»
(۴) «وَلَا يَغْتَابَ بَعْضُكُم بَعْضًا»

۱۶- کدام یک از موارد زیر نادرست است؟

- (۱) عیب‌جویی کردن و مسخره کردن دیگران از رفتارهای ناشایسته محسوب می‌شوند.
(۲) ما نباید دیگران را مسخره کنیم، چرا که ممکن است دیگران از ما بهتر باشند.
(۳) نام کفرآمیز گذاشتن بر کسی بعد از ایمان، کار شایسته‌ای محسوب می‌شود.
(۴) رعایت آداب معاشرت نشان‌دهنده‌ی احترامی است که ما به دیگران می‌گذاریم.

- ۸- پیشوایان دینی ما به انجام چه ورزش هایی سفارش می کردند؟
- ۹- برای حفظ سلامت خود چه کارهایی باید انجام داد؟
- ۱۰- چرا نباید به هر یک از سه موضوع ورزش، تغذیه و خواب کافی پی توجه بود؟
- ۱۱- در دین اسلام در خصوص حفظ سلامتی، چه موضوعی نکوهش و بر چه موضوعی تأکید و توصیه شده است؟
- ۱۲- امام حسین (ع) درباره ی تندرستی و سلامت بدن چه می فرمایند؟
- ۱۳- چرا دین اسلام همیشه ما را به حفظ سلامت و تندرستی تشویق می کند؟
- ۱۴- چگونه می توان شکرانه ی سلامتی را به جا آورد؟ (۴ مورد)
- ۱۵- پیامبر اکرم (ص) در خصوص سلامتی و اهمیت آن چه می فرمایند؟

انتخاب کنید...

- ۱۶- حدیث «قُوْ عَلٰی خِدْمَتِكَ جَوَارِحِي» به چه معنی است و توسط کدام امام بیان شده است؟
- (۱) خدایا! به اعضای بدنم برای خدمت در راه خودت توانایی بده - امام علی (ع)
- (۲) خدایا! به اعضای بدنم برای خدمت در راه خودت توانایی بده - امام حسین (ع)
- (۳) در تمام عمر برای تندرستی و سلامت بدنتان تلاش کنید - امام علی (ع)
- (۴) در تمام عمر برای تندرستی و سلامت بدنتان تلاش کنید - امام حسین (ع)
- ۱۷- دعای معروف «خدایا! به من سلامت و توانایی جسمی بده» از طرف کدام امام بیان شده است؟
- (۱) امام علی (ع) (۲) امام حسن (ع) (۳) امام حسین (ع) (۴) امام سجاد (ع)
- ۱۸- کدام یک از موارد زیر نادرست است؟
- (۱) در دین اسلام، ضعف، ناتوانی، سستی و تیلی نکوهش شده است.
- (۲) پی توجهی به سلامت خودمان باعث می شود بدن ما مقاومت خود را در برابر بیماری های مختلف از دست بدهد.
- (۳) دین اسلام به تندرستی افراد ارزش داده است ولی پیشوایان دینی ما درباره ی آن سفارش نکرده اند.
- (۴) انسان بیمار می تواند در کارهای خیری که به توانمندی نیاز ندارند، شرکت کند.

درس ۹ فارسی

مفرد کلمه‌های زیر را بنویسید.

کتاب	اوائل	اسرار	بازوان	اواسط	خطوط	جمع
						مفرد

گزینه صحیح را انتخاب کرده و علامت بزنیید.

۱- اگر واژه‌های زیر را به ترتیب حروف الفبا مرتب کنیم، آخرین واژه کدام است؟

- الف) مهم ب) مهارت ج) منظور د) مجبور

۲- به کتابی بزرگ که درباره‌ی هر چیزی می‌توان در آن اطلاعاتی را پیدا کرد چه می‌گویند؟

- الف) لغت نامه ب) دایره‌المعارف ج) فرهنگ نامه د) اطلس فرهنگی

۳- جمع مکسر در کدام گزینه به درستی نوشته نشده است؟

- الف) عالم: علم ب) افق: آفاق ج) مثل: امثال د) زمان: ازمنه

مترادف یا هم معنی هر یک از کلمات زیر را بنویسید.

کلمه	غفلت	مسلح	ضعف	تأخیر	حجره	غروب
معنی						

از بین ترکیب‌های زیر، موصوف و صفت‌ها، و مضاف و مضاف الیه‌ها، را به یکدیگر متصل کنید.

موصوف و
صفت‌هامضاف و
مضاف الیه‌ها

زهر حجر

نمدن جدید

درد عشق

رنج سنگین

بهشت جاویدان

باغ خنده

با توجه به کلمه‌های زیر جدول را کامل کنید.

جفا، راز، خشمگین، جمع، پازشان، عدد، سهمگین، رموز، مجموع، وفاد، اعداد، کارشان

هم قافیه	هم خانواده

درس ۹ فارسی

در جملات زیر عبارتهایی هم معنی با چشم از جهان فرو بستن، هست آنها را یافته و در کادر مشخص بنویسید.

۱- در نه سالگی من، پدرم درگذشت و مادرم مرا در تربیت خود گرفت.

۲- تنها دو روز برای رحلت مادرم، این شغل تعطیل شد.

۳- زحمت سالها مطالعه و سرانجام بیماری، دهخدا را از پای درآورده بود.

۴- دهخدا بیهوش شد و روز بعد، به دیدار پروردگارش شتافت.

در هر دسته با توجه به نمونه، معنای هر واژه را روبه روی آن بنویسید.

سازندگی ←	زندگی ←	همسایگی ← همسایه بودن
درماندگی ←	بیچارگی ←	
جوینده ←	گوینده ←	خواننده ← کسی که میخواند
یابنده ←	شنونده ←	

با استفاده از «از، را، در، به» متن زیر را کامل کنید.

در میان دانشمندان ایران، باید علامه دهخدا بزرگ مرد فرهنگ ایران دانست، او سرشار عشق فرهنگ وطن بود و نامی بلند..... میان دانشمندان ایرانی داشت و آثار با ارزشی از خود به یادگار گذاشته است.

از ترکیب واژه های زیر چهار واژه ی تازه بسازید.

اسرار	سار	حیرت	خوانی	نامه	کُنه	تنگیز	فصه
-------	-----	------	-------	------	------	-------	-----

جمله زیر را در یک بند ادامه بدهید.

اگر به جای دوستان دهخدا بودم،

سوالات درس یازدهم : راه تندرستی

کامل کنید...

- ۱- پیامبر اکرم (ص) می فرمایند: «دو نعمت است که ارزش آن ها نزد مردم ناشناخته است: و امنیت».
- ۲- برای حفظ سلامتی باید در کنار ورزش، و مناسب هم داشته باشیم.
- ۳- حضرت علی (ع) می فرمایند: خدایا به اعضای بدنم برای در راه خودت توانایی بده.

درست یا نادرست ...

- ۴- در دین ما، ضعف، ناتوانی، سستی و تنبلی نکوهش و به مسلمانان توصیه شده تا بر توانمندی خود بیفزایند. × √
- ۵- اگر به ورزش، تغذیه و خواب مناسب بی توجهی کنیم، بدن ما توان مقاومت در برابر بیماری های مختلف را از دست می دهد. × √
- ۶- پیشوایان دینی ما هیچ گاه برای سلامت و توانمندی خود دعا نمی کردند. × √

پاسخ دهید...

- ۷- در هر سطر عبارت سمت راست را به یکی از عبارات های مربوط در سمت چپ وصل کنید.

قنوت	۱ یکی از واجبات نماز که بعد از رکوع می آید.
سجده	۲ قبل از نماز گفته می شود و اعلام کننده ی وقت نماز است.
ازان	۳ یکی از فرزندان حضرت یعقوب (ع) که مورد حسادت برادرانش قرار گرفت.
اقامه	۴ در تمام عمر برای تندرستی و سلامت بدنشان تلاش کنید.
بنیامین	
یوسف (ع)	
امام حسین (ع)	
امام علی (ع)	

درس ۱۱ فارسی

۹) درستی یا نادرستی جمله ی زیر را با ذکر دلیل مشخص کنید .

« هر دو چیز متفاوت را می توان به هم تشبیه کرد . »

۱۰) آیا وجود هر سه دسته ی « مردم » برای ما لازم و ضروری است ؟

۱۱) به چه دلیل مصطفی ، شهید را به نمره ی بیست تشبیه کرد ؟

۱۲) با هر کدام از کلمات زیر یک تشبیه بسازید :

..... معلم :

..... پروانه :

۱۳) چرا معلم شهدا را به « خورشید » تشبیه کرده است ؟

۱۴) یکی از آثار امام محمد غزالی نام دارد .

درس ۱۰ فارسی

واژه های درون جدول را ترکیب کن و واژه‌ی جدید را در جای مخصوص بنویسید.

واژه اصلی	شناس	آمد	رسید	ساز
سر				
کار				
چاره				

در داخل کمانک‌ها شکل مورد نظر را که نماد قافیه در شعر مثنوی است قرار دهید.

* _____

* _____

() _____

+ _____

= _____

() _____

۱۱- رضا در ماه مبارک رمضان از ساری به شیراز سفر کرده و قرار است ۱۰ روز در آنجا بماند. حکم نماز و روزه اش چگونه است؟

- (۱) نمازش شکسته نیست، روزه اش را باید بگیرد.
(۲) بر شخص مسافر نماز و روزه واجب نیست.
(۳) نمازش شکسته است، روزه اش را باید بگیرد.
(۴) نمازش شکسته است، روزه اش را نباید بگیرد.

۱۲- کدام یک از گزینه های زیر صحیح است؟

- (۱) مسافری که نمازش را شکسته می خواند، روزه اش درست است.
(۲) اگر روزه دار بعد از ظهر مسافرت کند، روزه اش صحیح است.
(۳) اگر روزه دار قبل از ظهر حرکت کند، روزه اش صحیح است.
(۴) اگر کسی از محل سکونتش ۲۵ کیلومتر فاصله بگیرد، می تواند نمازش را کامل بخواند.

۱۳- علیرضا در سفری که کم تر از ۱۰ روز طول می کشد، در کدام محل نمی تواند نماز خود را کامل بخواند؟

- (۱) مسجدالحرام (۲) مسجدالنبی (۳) مسجد کوفه (۴) مسجدالاقصی

۱۴- مبین و مبینا به همراه خانواده ی خود به مدت یک هفته به کربلا سفر کرده اند. آن ها در این مدت در کدام یک از مکان های زیر نماز را باید کامل بخوانند؟

- (۱) حرم امام حسین (ع)
(۲) بین حرم امام حسین (ع) و حضرت عباس (ع)
(۳) کنار ضریح حضرت عباس (ع)
(۴) کنار ضریح امام حسین (ع)

۱۵- کدام یک از احکام زیر درباره ی نماز و روزه ی مسافر صحیح نیست؟

- (۱) اگر کسی هنگام سفر نمازش را کامل می خواند باید روزه هم بگیرد.
(۲) اگر روزه دار بعد از ظهر سفر کند روزه اش درست و اگر پیش از ظهر سفر کند، روزه اش باطل است.
(۳) اگر کسی به جایی برود که از محل سکونتش بیش از ۲۲/۵ کیلومتر فاصله دارد، نمازش شکسته است.
(۴) اگر مسافر بعد از ظهر به محل سکونتش برسد و کاری که روزه را باطل می کند انجام نداده باشد، روزه اش صحیح است.

۱۶- اگر روزه دار بعد از ظهر مسافرت کند، روزه اش چگونه است؟

- (۱) روزه اش مکروه است. (۲) روزه اش درست است. (۳) روزه اش باطل است. (۴) روزه اش مستحب است.

۱۷- حکم کسی که به خاطر مسافرت روزه نگرفته است، چیست؟

- (۱) باید قضای آن را به جا آورد.
(۲) لازم نیست قضای آن را به جا آورد.
(۳) به تعداد روزهایی که روزه نگرفته است، روزه بگیرد.
(۴) گزینه های (الف) و (ج) صحیح است.

۱۸- در چه وضعیتی مسافر باید نمازهای روزانه ی خود را شکسته بخواند؟

- (۱) مسافت بیش از ۲۲/۵ کیلومتر و ماندن بیشتر از ۱۰ روز در سفر
(۲) مسافت کم تر از ۲۲/۵ کیلومتر و ماندن کم تر از ۱۰ روز در سفر
(۳) مسافت بیشتر از ۲۲/۵ کیلومتر و ماندن کم تر از ۱۰ روز در سفر
(۴) مسافت کم تر از ۲۲/۵ کیلومتر و ماندن بیشتر از ۱۰ روز در سفر

درس ۱۰ فارسی

واژه های سمت چپ را به جملات سمت راست ارتباط دهید.

- | | |
|---------------------------------------|---|
| <input type="radio"/> بها الدین | <input type="radio"/> شاکرد معروف این سینا که پیوسته همراه او بود |
| <input type="radio"/> نیشابور | <input type="radio"/> یکی از شاعران بزرگ ایران در سده‌ی ششم |
| <input type="radio"/> جلال الدین محمد | <input type="radio"/> نام اصلی مولوی که او را در کودکی به آن می‌خواندند |
| <input type="radio"/> ابوعلی سینا | <input type="radio"/> یکی از دانشمندان بزرگ ایران در سده‌ی چهارم |
| <input type="radio"/> مثنوی معنوی | <input type="radio"/> شهری که مولوی در آن به دنیا آمده است |
| <input type="radio"/> بلخ | <input type="radio"/> نام یکی از کتاب‌هایی که عطار سروده است |
| <input type="radio"/> اسرار نامه | <input type="radio"/> پدر مولوی را به این نام می‌شناختند |
| <input type="radio"/> بهمنیار | <input type="radio"/> شهر محل زندگی و وفات عطار است |
| <input type="radio"/> عطار | <input type="radio"/> نام کتاب معروف مولوی که به شعر است |

در متن زیر غلط‌های املائی را پیدا کرده و شکل صحیح آن را بنویسید.

شیخ به پدر گفت: «مراقب محمد باش، به خاست خدا، آینده درخشانی خواهد داشت. این نخستین صفر طولانی او بود، در تول راه، همه از زیبایی نیشابور و آب و هوای دل‌پذیرش می‌گفتند، او حصایی خسته شده

معنای کلمات را در جای مناسب بنویسید.

<input type="text"/>	بدرقه	<input type="text"/>	تمسخر
<input type="text"/>	مقام	<input type="text"/>	مشغول
<input type="text"/>	سلیم	<input type="text"/>	سحاب

برای هر یک از کلمات زیر دو هم خانواده بنویسید.

	حاکم		سلیم
	علیم		غربت

در بیت‌های زیر، کلمه‌های مخالف را پیدا کرده و روبروی آن بنویسید.

عمر گران مایه در این صرف شد	تا چه خورم صیف و چه پوشم شنا
عارف از معروف بس درخواست کرد	کای رقیب ما تو اندر گرم و سرد
فجر تا سینه‌ی آفاق، شکافت	چشم بیدار علی خفته نیافت

درس ۱۱ فارسی

۱) مشخص کنید در هر یک از جمله های زیر چه چیزی به چه چیزی تشبیه شده است ؟

« مرتضی گفت : شهید چون شقایق سرخ است »

« روزهای زندگی همچون باد سپری می شوند »

۲) هم خانواده ی کلمات زیر را بنویسید ؟

غریب : شهید : اتحاد : عجیب :

۳) جمع مکسر (بدون قاعده) کلمات زیر را بنویسید ؟

حادثه : دین : مدرسه :

۴) تشبیه یعنی :

۵) یکی از آثار سلمان هراتی را نام ببرید ؟

۶) درستی یا نادرستی جمله ی زیر را مشخص کنید ؟

« حکایت انواع مردم » از امام محمد غزالی است . درست نادرست

۷) عبارت های زیر را با دو کلمه ی « حیات » و « حیاط » کامل کنید ؟

پدر بزرگ هر روز گلدان های داخل خانه را آبیاری می کند .

او معتقد است که گل ها وابسته به مراقبت ماست .

۸) امام محمد غزالی از دانشمندان کدام دوره بود و آثار وی را نام ببرید ؟

ردیف	شرح سوال
۱	<p>حاصل ضرب های زیر را به دست آورید.</p> $\begin{array}{r} 6 \ 3 \ 2 \ 7 \\ \times 2 \ 2 \ 4 \ 0 \\ \hline \end{array}$ $\begin{array}{r} 5 \ 5 \ 3 \ 0 \\ \times 3 \ 9 \ 4 \ 8 \\ \hline \end{array}$
۲	<p>حاصل جمع و تفریق های زیر را به صورت ذهنی محاسبه کنید.</p> $9 - 0/8 =$ $0/3 + 0/07 =$ $2/7 - 0/8 =$ $4 + 0/3 =$
۳	<p>عددهای اعشاری زیر را روی محور نشان دهید.</p> $\frac{2}{4} = 0/5$ $2\frac{3}{4} = 2/75$ $3\frac{1}{4} = 3/25$

۴ حاصل عبارت های زیر را به دست آورید.

$$\text{الف) } \frac{1\frac{1}{2} - 1\frac{1}{3}}{1\frac{1}{2} + 1\frac{1}{3}} =$$

$$\text{ب) } 8\frac{2}{5} + 1\frac{3}{4} - 2\frac{1}{10} =$$

۵ حاصل جمع و تفریق های زیر را بنویسید.

$$\begin{array}{r} 13/408 \\ + 16/617 \\ \hline \end{array}$$

$$\begin{array}{r} 0/8542 \\ + 0/5241 \\ \hline \end{array}$$

$$\begin{array}{r} 6/379 \\ - 2/583 \\ \hline \end{array}$$

۶ مقایسه کنید. ($< = >$)

$$3/8 \bigcirc 3/81$$

$$0/008 \bigcirc 0/08$$

$$4/03 \bigcirc 3/87$$

$$6/09 \bigcirc 6/90$$

گزینه ی درست را انتخاب کنید و در مربع علامت (x) بزنید

۱- در عدد $۳/۰۷۵$ ارزش مکانی عدد ۷ چیست؟الف) یکان ب) دهم ج) صدم د) هزارم ۲- گسترده ی عدد $۸/۱۳۳$ کدام گزینه استالف) $۸۰+۱+۳+۳$ ب) $۸۰+۱+۳۰+۳$ ج) $۸۰+۰/۱+۰/۰۳+۰/۰۰۳$ د) $۸+۰/۱+۰/۰۳+۰/۰۰۳$ ۳) حاصل ضرب $۰/۰۵ \times ۰/۳$ کدام است؟الف) $۰/۰۱۵$ ب) $۰/۰۵۳$ ج) $۰/۱۵$ د) ۱۵۰

جاهای خالی را با کلمات و اعداد مناسب کامل کنید

۴- حاصل جمع $۳/۱+۱/۸$ برابر ----- است.

۵- به اعدادی که در هم ضرب می شوند ----- و به حاصل آن ها ----- می گوئیم

۶- حاصل تفریق $۳-۰/۳$ برابر ----- است

درست یا نادرست بودن جملات زیر را مشخص کنید

۷- در جدول ارزش مکانی هر چه به سمت راست حرکت کنیم ارزش رقم ها کمتر می شود. درست غلط۸- شکل کسری $۳/۰۵$ برابر $\frac{۳۰۵}{۱۰۰}$ می باشد. درست غلط۹- در جدول ارزش مکانی می توان رقم دهم را با هزارم جمع ببندیم. درست غلط۱۰- عدد $۴/۰۶۱$ را در جدول ارزش مکانی قرار داده و سپس آن را بخوانید و به صورت گسترده بنویسید؟

هزارم	صدم	دهم	یکان	دهگان

به حروف: -----
= گسترده -----

۱۱- الگوهای زیر را ادامه دهید.

----- ، ----- ، ----- ، $۳/۱۳۷$ ، $۳/۱۳۸$ ، $۳/۱۳۹$ ،----- ، ----- ، ----- ، $۰/۲۸$ ، $۰/۲۶$ ، $۰/۲۴$ ،۱۲- فاصله ی خانه ی احمد تا مدرسه $۳/۹$ کیلومتر است. او هر روز این مسافت را پیاده می رود. اگر احمد از مدرسه حرکت کرده و $۱/۳$ کیلومتر را پیموده باشد چند کیلومتر دیگر باید برود تا به خانه برسد؟

۴- محیط دایره‌ای $۱۲۵/۶$ سانتی‌متر است. قطر دایره چند سانتی‌متر است. (عدد پی را $۳/۱۴$ در نظر بگیرید).

۵- گنجایش حوضی ۲۳۵۲ لیتر است. اگر در هر دقیقه $۴/۹$ لیتر آب وارد حوض شود، بعد از چه مدت نصف حوض پُر از آب می‌شود؟

۶- کسرهای زیر را تا حد امکان ساده کنید.

$$\frac{۳/۶}{۰/۰۹} =$$

$$\frac{۷۲}{۰/۸} =$$

۷- تقسیم‌های زیر را تا یک رقم اعشار در خارج قسمت انجام دهید و باقی‌مانده را مشخص کنید.

$$۴۵/۲ \left| \begin{array}{l} ۰/۷ \\ \hline \end{array} \right.$$

$$۷۶/۸۴ \left| \begin{array}{l} ۱/۷ \\ \hline \end{array} \right.$$

علوم

پاسخ صحیح را با علامت * مشخص کنید.

۱. جنس سنگ های هسته ی زمین از چیست؟

الف) آهن ب) نیکل ج) مس د) موارد الف و ب

۲. منشا بیشتر آتش فشان ها و زمین لرزه ها مربوط به کدام لایه زمین است؟

الف) پوسته ب) گوشته ج) خمیر کره د) هسته ی خارجی

۳. کدام لایه ی زمین حالت جامد دارد؟

الف) خمیر کره - سنگ کره ب) گوشته ی زیرین - هسته ی خارجی

ج) هسته داخلی - سنگ کره د) هسته داخلی - گوشته زیرین - سنگ کره

۴. به خمیر کره و بخش جامد بالای گوشته مجموعاً می گویند.

الف) هسته خارجی ب) گوشته بالایی ج) گوشته زیرین د) سنگ کره

اجتماعی

الف: پاسخ صحیح را مشخص کنید.

۱- مهم ترین علت پیشرفت علمی مسلمانان بود.

الف: نیازهای جدید مسلمانان ب: تجارت و بازرگانی ج: تعالیم دین اسلام د: ترجمه

۲- این گفته از کیست؟ «به دنبال کسب علم باشید، حتی اگر مجبور شوید تا چین بروید.»

الف: امام حسین (ع) ب: امام علی (ع) ج: پیامبر اکرم (ص) د: امام سجاد (ع)

۳- مسلمانان با اسطرلاب موقعیت چه چیزی را مطالعه می کردند؟

الف: خورشید ب: ستاره ها ج: ماه د: سیاره ها

۴- اوج شکوفایی شهر اصفهان مربوط به کدام دوره می باشد؟

الف: صفویه ب: قاجاریه ج: سامانیان د: هخامنشی

۵- مسلمانان فن کاغذسازی را از چه کسانی آموختند؟

الف: رومی ها ب: چینی ها ج: یونانی ها د: ایرانی ها

۶- معروف ترین بیمارستان دوره ی اسلامی را عضالدوله در کجا بنا کرده بود؟

الف: اهواز ب: مشهد ج: بغداد د: سمنان

علوم

۶. زمین لرزه ها در کدام قسمت خسارت بیشتری ایجاد می کنند؟
 الف) دریاها
 ب) آتش فشان ها
 ج) محل شکستگی ها
 د) زمین های هموار
۷. کدام آتش فشان ها خاموش هستند؟
 الف) دماوند - تفتان
 ج) هاوایی - سهند
 ب) سبلان - تفتان
 د) سبلان - سهند
۸. مواد تشکیل دهنده ی زمین در برخی از قسمت ها حالت شکننده دارند.
 صحیح غلط
۹. همه ی زمین لرزه ها باعث خرابی در سطح زمین می شوند.
 صحیح غلط
۱۰. مواد خارج شده از دهانه ی آتش فشان فقط به صورت جامد و مایع هستند.
 صحیح غلط
- جاهای خالی را با کلمه مناسب کامل کنید.
۱۱. زمین لرزه های خفیف باعث جلوگیری از وقوع می شوند.
۱۲. به محل آزاد شدن انرژی درون زمین می گویند.
۱۳. دو گاز مهم خارج شده از دهانه آتش فشان و می باشند.
۱۴. سرعت امواج لرزه ای درون زمین از سنگ های سخت و متراکم و سنگ های نرم و کم تراکم می باشد.

اجتماعی

ب) صحیح یا غلط بودن عبارات زیر را مشخص کنید.

غلط

صحیح



۷- مبدأ تاریخ مسلمانان هجرت پیامبر اکرم (ص) از مکه به مدینه است.



۸- میدان نقش جهان اصفهان به فرمان شاه اسماعیل ساخته شد.



۹- خواجه نظام الملک مدارس دارالفنون را تأسیس کرد.



۱۰- از سال یکم تا صدم را قرن یکم هجری می گویند.



۱۱- تجارت و بازرگانی مسلمانان در دوره ی اسلامی تنها از راه خشکی انجام می شد.

علوم

ج) به سوالات زیر پاسخ کامل دهید.
۱۶. امواج لرزه ای را تعریف کنید.

۱۷. چرا پوسته ی زمین برای انسان ها اهمیت زیادی دارد؟

۱۸. حرکت قطعات زمین بر روی خمیرکره باعث پیدایش کدام پدیده ها می شود. (۴ مورد)

۱۹. زمین لرزه چیست و چگونه به وجود می آید؟

۲۰. ۲ مورد از فواید و ۲ مورد از ضررهای آتش فشان را بنویسید.

اجتماعی

ج) جاهای خالی را با کلمات مناسب کامل کنید.

۱۲- در دوره ی اسلامی به دانشمندان ، می گفتند. چون در چند علم استاد بودند.

۱۳- پیامبر اکرم (ص) پس از هجرت از مکه به مدینه ، تشکیل دادند.

۱۴- صفویان ، مذهب را مذهب رسمی کشور اعلام کردند.

۱۵- بسیاری از جهانگردان خاطراتشان را از سفرهای خود می نوشتند، به این نوشته ها می گویند.

۱۶- برخی کتیبه های مسجد امام به قلم استاد خطاط مشهور نوشته شده است.

پ) پاسخ صحیح را از موارد روبرو پیدا کنید (یک کلمه اضافی است)

رصدخانه

عالی قاپو

۱۷- شاه عباس در این مکان به امور کشور می پرداخت ()

۱۸- محل تحقیق درباره ی ستارگان ()

جندی شاپور

کتیبه

۱۹- یکی از مهم ترین مراکز علمی کشور در دوره ی اسلامی ()

علوم

به سوالات زیر با دقت پاسخ کامل دهید.

۱- زمین لرزه چه زمانی اتفاق می افتد؟

۲- سه اثر اجتماعی برای زمین لرزه بنویسید.

۳- در هنگام وقوع زمین لرزه چه نکات ایمنی را باید رعایت کنیم؟ (سه مورد)

اجتماعی

د) به سوالات زیر پاسخ دهید.

۲۰- دو قاره نام ببرید که اسلام در آنها گسترش یافت؟ برای هر قاره یک کشور مثال بزنید.

۲۱- دردوره اسلامی در کدام شهرها رصد خانه وجود داشت؟

۲۲- خانواده آقای احمدی به شیراز سفر کرده و یک نقشه ی گردشگری خریده اند. این نقشه چه کمکی می تواند به آنها بکند؟

۲۳- مسجد شیخ لطف الله به چه دلیل وبه فرمان چه کسی ساخته شد؟

۲۴- به چه جاهایی کاروانسرا می گویند؟

۲۵- مسلمانان برای چه کارهایی به علم ریاضیات و ستاره شناسی نیاز داشتند؟

۸- «معصومه» به چه معناست؟ چرا به حضرت معصومه این لقب را داده‌اند؟

۹- چرا مرقد مطهر حضرت معصومه (س) در شهر قم قرار دارد؟

۱۰- سه ویژگی مشترک حضرت معصومه (س) و شاهچراغ را بنویسید.

۱۱- شاهچراغ چگونه شخصیتی داشتند؟

۱۲- شاهچراغ چگونه و در کجا به شهادت رسیدند؟

انتخاب کنید...

۱۳- حرم حضرت معصومه (س) و شاهچراغ (ع) به ترتیب در کدام شهرها قرار دارند؟

(۱) قم - شیراز (۲) شیراز - قم (۳) قم - مشهد (۴) مشهد - قم

۱۴- نام‌های حضرت معصومه (س) و شاهچراغ (ع) به ترتیب کدام است؟

(۱) زهرا - حسین (۲) زهرا - احمد (۳) فاطمه - حسین (۴) فاطمه - احمد

۱۵- سرپرستی حضرت معصومه (س) در سن ۱۰ سالگی بر عهده‌ی چه کسی بود؟

(۱) امام کاظم (ع) (۲) امام رضا (ع) (۳) امام جواد (ع) (۴) امام هادی (ع)

۱۶- کدام‌یک از موارد زیر در خصوص زندگی حضرت معصومه (س) صحیح نیست؟

(۱) او عقاید و احکام دین اسلام را خیلی خوب می‌دانست و بانوان شهر مکه را راهنمایی می‌کرد.

(۲) حضرت معصومه (س) در مدینه زندگی می‌کرد ولی در اواخر عمر خود عازم ایران شد.

(۳) به دلیل دوری از کارهای زشت و پرهیز از گناهان به او لقب معصومه داده‌اند.

(۴) زیارت حضرت معصومه (س) آدابی دارد. بهتر است آرام و با احترام وارد حرم بشویم.

۱۷- عبارت زیر در توصیف زندگی کدام‌یک از شخصیت‌های بزرگ دینی است؟

«او مسائل دینی را خیلی خوب برای مردم بیان می‌کرد، خط زیبایی داشت. قرآن کریم را با خط خوش می‌نوشت و در

اختیار مردم می‌گذاشت. بسیار نیز بخشنده بود. در ضمن برادر امام هشتم (ع) نیز بود.»

(۱) علامه حلی (۲) شاهچراغ (۳) حضرت معصومه (س) (۴) علامه مجلسی

۱۸- حضرت معصومه (س) عمه‌ی کدام امام بزرگوار است؟

(۱) امام کاظم (ع) (۲) امام رضا (ع) (۳) امام هادی (ع) (۴) امام جواد (ع)

درس دوستی و مشاوره

برای هر یک از کلمات زیر یک کلمه هم معنی بنویسید.

متفق
نیکو نیاید
مشاورت کردن

جهان دیده
قوی رأیی
مثل

معنای درست عبارت های زیر را از بین گزینه ها انتخاب و علامت بزنید.

۱- دوستان کهن را بر جای همی دار.

 دوستان قدیمی‌ات را معطل کن
 دوستان قدیمی‌ات را بشناس و فراموش نکن
 دوستان قدیمی‌ات را ننگه دار و از دست نده

۲- برادر نیز، دوست به.

 دوست بهتر از برادر است.
 برادر هم اگر دوست باشد بهتر است.
 برادر نیز همانند دوست خوب است.

۳- پشت بر دوستان کهن مکن.

 به دوستان قدیمی اعتماد نکن
 دوستان قدیمی را رها نکن
 به دوستان قدیمی بی احترامی نکن

۴- تدبیر ده تنه چون زور ده مرده باشد.

 ده تن می‌توانند زور بگویند
 قدرت فیزیکی موجب قدرت فکر است
 ده نفر متفکر بهتر از ده نفر زورمند است

گزینه صحیح را انتخاب کرده و علامت بزنید.

۱- قابوس نامه اثر کدام یک از نام آوران زیر است؟

 محمد بلخی
 شهریار
 (ج) امام محمد غزالی
 (د) عنصرالعمالی کیکاووس

۲- خواجه نظام الملک طوسی مؤلف کدام یک از آثار زیر است؟

 لف) سند باد نامه
 (ب) لطائف المواقف
 (ج) سیاست نامه
 (د) مرزبان نامه

۳- معنای کدام واژه در مقابل آن درست آمده است؟

 لف) رای: خرد
 (ب) فضیلت: مشورت
 (ج) گیتی: عقل
 (د) نیاکان: خانه و کاشانه

۴- کدام واژه هم زمان دو جزء از میان «سَندِه، مند، بی، گی» را می‌پذیرد و واژه‌ای معنا دار می‌سازد؟

 لف) تاب
 (ب) آهسته
 (ج) هنر
 (د) پرچانه

جمله‌های زیر را به نثر ساده بنویسید.

۱- دو چندان که می‌گویی می‌شنو.

۲- مردمان تا زنده‌اند از دوستان ناگزیرند.

شکل امروزی فعل‌های زیر را بنویسید.

همی انداختیم
همی دار

نوشتمی
همی طلب

درس دوستی و مشاوره

در هر جمله منظور از بخشی که زیر آن خط کشیده شده، چیست؟

- ۱- با مردمانی که با تو به راه دوستی روند و نیم دوست باشند، نیکویی و سازگاری کن.
- ۲- یکی باشد که بسیار سفرها کرده باشد و جهان بسیار دیده و سرد و گرم چشیده.
- ۳- آن که بسیار سفرها کرده باشد و در میان کارها بوده، با آن کس برابر نتوان کرد که هرگز سفر نکرده باشد.
- ۴- تدبیر ده تنه چون زور ده مرده باشد.

مصراع‌های مربوط به هر بیت را به یک دیگر وصل کنید.

که بنیاد گیتی به کوشندگی است

به سختی دهد مرد آزاده تن

اگر در سرت شور سر زندگی است

ز ورزش میاسای و کوشنده باش

که پایان تن پروری، بندگی است

تو نیز از نیاکان، بیاموز کار

واژه‌های درون جدول را ترکیب کن و واژه‌ی جدید را در جای مخصوص بنویسید.

واژه اصلی	اخلاق	صدا	دل
خوش			
بد			
صاحب			
یک			

کلمه مناسب را برای هر عبارت از میان کمانک‌ها انتخاب و دور آن خط بکشید.

- ۱- با مردمانی که با تو به راه دوستی روند و نیم دوست باشند، (مشورت / نیکویی) کن.
- ۲- چون دوست نو گیری، پشت بر دوستان (کهن / کحن) مکن.
- ۳- مشورت ناکردن در کارها (نشان قدرت / ضعیف رای) باشد.
- ۴- دلم (رازی / راضی) نمی‌شود بی مشورت تو کاری انجام دهم.

در متن زیر غلط‌های املایی را پیدا کرده و شکل صحیح آن را بنویسید.

همه‌ی جهانیان معتقدند که هیچ آفریده، داناتر از پیغامبر نبوده است و با این همه فطیلت و معجزات، خدای
طعالی او را می‌فرماید: ای محمد، چون کاری کنی یا محمی تو را پیش آید، با یاران خیش تدبیر کن.

درس راز زندگی

واژه های هم خانواده را در جدول زیر مرتب کنید.

مقطع، عامل، متفکر، مجموع، عملیات، قاطع، جامعه، فکر

عمل	مقطع	جماعت	افکار

گزینه صحیح را انتخاب کرده و علامت بزنید.

۱- عبارت «گاهی شاعر یا نویسنده برای اثر بخشیدن بیشتر، زیباتر ساختن و ساده تر کردن مفاهیم شعر،

از زبان موجودات و اشیا سخن می گوید.» مربوط به کدام یک از گزینه هاست؟

الف) تشبیه ب) شخصیت بخشی ج) کنایه د) مبالغه

۲- همه گزینه ها به جز به نثر هستند.

الف) بوستان ب) کلیله و دمنه ج) گلستان د) اخلاق ناصری

۳- کدام بیت فاقد آرایه ی تشخیص است؟

الف) دست در دامن مولا زد در

ب) فجر تا سینه ی آفاق شکافت

ج) ناشناسی که به تاریکی شب

د) شب شنفته است مناجات علی

که علی بگذر و از ما مگذر

چشم بیدار علی خفته نیافت

می برد شام یتیمان عرب

جوشش چشمه ی عشق ازلی

۴- با به کار بردن کدام صفت برای «باغ» از «شخصیت بخشی» استفاده کرده ایم؟

الف) زیبا ب) سرسبز ج) بیکار د) پر بار

۵- در کدام گزینه آرایه ی «جان بخشی به اشیاء» آمده است؟

الف) گوشه ای درون خود، نشستن است

ب) هر چه باشد او گل نیست

ج) من به راز زندگی اشاره کرده ام

د) گل، یکی دو پیرهن بیشتر از غنچه پاره کرده است.

۶- «گاهی در یک نوشته یا شعر، شخصیت های انسانی یا غیر انسانی به صورت پرسش و پاسخ و یا بحث و

مجادله به گفت و گو می پردازند.» این تعریف کدام یک از گزینه های زیر است.

الف) تشبیه ب) کنایه ج) مناظره د) تلمیح

هر کدام از نمونه های زیر کنایه از چیست؟

۱- غنچه با دل گرفته گفت.

۲- گل یکی دو پیرهن بیشتر ز غنچه پاره کرده است.

۳- زندگی، گوشه ای درون خود نشستن است.

درس میوه هنر

بیت های زیر را با جابجایی واژه ها تبدیل به جمله های معمولی کنید. (سر راست کنید)

تا شام، نیفتاد صدای تیر از گوش شد توده در آن باغ، سحر، هیمه ی بسیار

آسان گذرد گر شب و روز و مه و سالت روز عمل و مزد، بود کار تو دشوار

معنای کلمات زیر را در مکان مناسب بنویسید.

<input type="text"/>	ادبار	<input type="text"/>	توده
<input type="text"/>	خوار	<input type="text"/>	هیمه

معنای واژه هایی را که زیر آن خط کشیده شده است از میان واژه های پایین پیدا کرده و روبروی آن بنویسید.

بدبختی - هماهنگی - سرانجام - ستم - هیزم - محموله - هنگام

تعداد جملات	بیت
	جور و بیداد کند عمر جوانان کوتاه
	چون موسم حج رسید، برخاست
	به یزدان گراییم، فرجام کار
	ای بزرگان وطن، بهر خدا داد کنید
	اشتر طلپید و مَحْمَل آراست
	که روزی ده اوی است و پروردگار

هر یک از کلمه های زیر، مخفف چه واژه ای هستند.

سپه	پادشه	دگر	ارچه	شهنامه	فتاده	پار
<input type="text"/>	<input type="text"/>	<input type="text"/>	<input type="text"/>	<input type="text"/>	<input type="text"/>	<input type="text"/>

در هر نمونه نقش دستوری واژه هایی را که زیر آنها خط کشیده شده است، پیدا کنید و در جای خالی بنویسید.

۱- تا شام نیفتاد صدای تیر از گوش

۲- از جور تیر، زار بنالید سپیدار

۳- اندام مرا سوخت چنین ز آتش ادبار

درس کتاب و کتابخوانی

معنای کلمات زیر را در مکان مناسب بنویسید.

<input type="text"/>	اعتدال	<input type="text"/>	حکایت	<input type="text"/>	زوال
<input type="text"/>	محنت	<input type="text"/>	تسلی	<input type="text"/>	مُلک

در جدول زیر مفرد هر یک از کلماتی که در ردیف اول نوشته شده اند را بنویسید.

سلاطین	گذشتگان	حکایات	سرعت	بزرگان	آداب
<input type="text"/>	<input type="text"/>	<input type="text"/>	<input type="text"/>	<input type="text"/>	<input type="text"/>

عبارت های زیر را به نثر روان و امروزی بازگردانی کنید.

<input type="text"/>
<input type="text"/>
<input type="text"/>
<input type="text"/>

۱- چون عجایب بشنود، نظر او به قدرت الهی گشاده گردد.

۲- چنان نکند که مُستمع، ملول گردد.

۳- چُست و چالاک به سخن در آید و خام نباشد.

۴- سخنان محال و گزاف نگویند که در چشم مردم، سبک شود.

روبروی هر کدام از واژه‌های نوشته شده، دو واژه‌ی «هم خانواده» بنویسید.



کلمه‌های داده شده را با توجه به معنای آن با حروف مناسب کامل کنید.

۱- مو.....ون: هماهنگ

۲- طا.....ت: توانایی

۳- من.....دم: ویران شده

۴- سلا.....ین: پادشاهان

در متن زیر غلط‌های املائی را پیدا کرده و شکل صحیح آن را بنویسید.

در آداب حکایت گویان باید که داند که جماعت لایغ چه نوع سخن است و سخنان محال و گزاف نگوید که در چشم مردم، سبک شود. هر که بر معسیت، مسر بود از خدای تعالی نترسید.



تمرین دوره ای

۱_ متضاد واژه های زیر را بنویسید.

جذب ≠ نحس ≠ سهل ≠ عالم ≠

۲- بیت زیر را معنی کنید و به سوالات بعد پاسخ دهید.

تو به صورت رفته‌ای ، ای بی خبر زان ز شاخ معنی ای ، بی بار و بر

معنی :

قافیه ها : ردیف : شاعر : کتاب :

تعداد جمله‌های دو بیت : یک ترکیب اضافی : یک منادا :

دو واژه‌ی مخفف : نهاد جمله‌ی اول :

۳_ در حکایت « درختِ علم » ، دانش به چه چیزهایی تشبیه شده است؟

.....

۴_ برای هر واژه ، یک هم خانواده بنویسید.

افراد ⇨ طولانی ⇨ مساجد ⇨ عطار ⇨
مراقب ⇨ مقام ⇨ جلال ⇨ آذان ⇨

۵_ مفرد جمع های مکسر زیر را بنویسید.

مساجد ⇨ افراد ⇨ شیوخ ⇨
مدارس ⇨ أعصار ⇨ هدایا ⇨

۶- مترادف کلمه های زیر را بنویسید.

فرصت :	مقام :	بدرقه :
علیم :	سلیم :	سحاب :

سؤالات درس سیزدهم : عید مسلمانان

کامل کنید...

- ۱- هاجر برای یافتن آب، هفت بار بین دو کوه و دویده بود.
- ۲- حضرت ابراهیم (ع) به کمک خانه‌ی کعبه را تجدید بنا کرد.
- ۳- مسلمانان پیش از ورود به مکه لباس یکسانی به نام می‌پوشند.
- ۴- طواف یعنی بار دور خانه‌ی خدا گشتن.

درست یا نادرست ...

- ۵- پس از حضرت ابراهیم (ع) مردم کم‌کم به جای پرستش خدای یکتا به بت‌پرستی روی آوردند. × √
- ۶- سرانجام، حضرت محمد (ص) که از نسل حضرت موسی (ع) بود در شهر مکه به دنیا آمد. × √
- ۷- حضرت محمد (ص) به فرمان خدای مهربان با بت‌پرستی مبارزه کرد و تمام بت‌های سرزمین مکه را نابود کرد. × √
- ۸- عید مسلمانان روزی است که فقیران و نیازمندان نیز در آن روز شاد و خوشحال شوند. × √

پاسخ دهید...

- ۹- مراسم حج چه فایده‌هایی برای مسلمانان دارد؟
- ۱۰- ویژگی مهم عیدهای مسلمانان چیست؟
- ۱۱- کدام پیامبر مأمور به تجدید بنای خانه‌ی خدا در مکه شد؟
- ۱۲- پنج مورد از آداب زیارت خانه‌ی خدا را بنویسید.
- ۱۳- عید واقعی ما مسلمانان چه زمانی است؟
- ۱۴- به مسلمانان در عیدهای اسلامی انجام چه کارهایی توصیه شده است؟
- ۱۵- زکات را با ذکر مثال تعریف کنید.

۲

انتخاب کنید...

۱۶- در پایان ماه رمضان، عید فرامی‌رسد و مسلمانان در آن روز به عنوان پولی به نیازمندان
(۱) فطر - خمس (۲) فطر - زکات (۳) غدیر - خمس (۴) غدیر - زکات

۱۷- زائران خانه‌ی خدا چه زمانی لباس احرام می‌پوشند؟

(۱) قبل از ورود به مدینه (۲) بعد از ورود به مدینه (۳) بعد از ورود به مکه (۴) قبل از ورود به مکه

۱۸- کدام‌یک از موارد زیر صحیح نیست؟

- (۱) پس از حضرت ابراهیم (ع) مردم کم‌کم به جای پرستش خدای یکتا به بت‌پرستی روی آوردند.
- (۲) مراسم حج، یکی از باشکوه‌ترین و بی‌نظیرترین مراسم مسلمانان است.
- (۳) حضرت ابراهیم (ع) سومین کسی است که در سرزمین مکه، گوسفندی را به فرمان خدا قربانی کرد.
- (۴) عمل طواف از زمان حضرت ابراهیم (ع) به فرمان خداوند انجام می‌شده است.

۱۹- در کدام‌یک از موارد زیر، ترتیب اعمال حج به درستی بیان شده است؟

- (۱) پوشیدن لباس احرام - طواف - خواندن دو رکعت نماز - حرکت بین صفا و مروه
- (۲) پوشیدن لباس احرام - طواف - حرکت بین صفا و مروه - خواندن دو رکعت نماز
- (۳) پوشیدن لباس احرام - خواندن دو رکعت نماز - طواف - حرکت بین صفا و مروه
- (۴) پوشیدن لباس احرام - حرکت بین صفا و مروه - طواف - خواندن دو رکعت نماز

۲۰- کدام‌یک از گزینه‌های زیر درباره‌ی اعمال حج صحیح است؟

- (۱) قبل از ورود به مکه، لباس احرام بپوشیم و با لباسی یکسان وارد مسجدالنبی شویم.
- (۲) دور خانه‌ی خدا هشت دور طواف کنیم و به سمت کعبه نماز بخوانیم.
- (۳) روز عید فطر به فرمان خدا گوسفندی را قربانی کنیم.
- (۴) پیش از ورود به مکه، لباس احرام بپوشیم و با لباسی یکسان وارد مسجدالحرام شویم.

سؤالات درس چهاردهم : (از موفقیت

کامل کنید...

- ۱- امام علی (ع) در نامه‌ی ۴۷ نهج البلاغه می‌فرماید: «شما را به رعایت در کارهایتان سفارش می‌کنم.»
 ۲- در هر کاری اگر می‌خواهی موفق شوی باید از نترسی.
 ۳- خدا در آیه‌ی ۳۹ سوره‌ی نجم می‌فرماید: «برای انسان جز آن چه کرده است (هیچ نصیب و بهره‌ای) نیست.»

درست یا نادرست ...

- ۴- افراد موفق کسانی هستند که یا راهی خواهند یافت یا راهی خواهند ساخت. × √
 ۵- بین خود و علاقه‌مان فاصله‌ی زیادی داریم و هیچ‌گاه نمی‌توانیم این فاصله را کم کنیم. × √
 ۶- در هر کاری اگر می‌خواهی موفق شوی، باید صبر داشته باشی، تلاش کنی و از شکست نترسی. × √

پاسخ دهید ...

- ۷- امام علی (ع) در خصوص داشتن نظم در کارها چه می‌فرماید؟
 ۸- پنج گام موفقیت را نام برده و بنویسید چرا برای رسیدن به موفقیت باید همه‌ی پنج گام را طی کرد؟
 ۹- خداوند در آیه‌ی ۳۹ سوره‌ی نجم درباره‌ی سعی و تلاش چه فرموده است؟

انتخاب کنید ...

- ۱۰- کدام بیت با مفهوم آیه‌ی «وَأَنْ لَيْسَ لِلْإِنْسَانِ إِلَّا مَا سَعَى» اشاره دارد؟
 (۱) هر چه کنی به خود کنی / گر همه نیک و بد کنی
 (۲) نابرده رنج گنج میسر نمی‌شود / مزد آن گرفت جان برادر که کار کرد
 (۳) شکرانه‌ی بازوی توانا / بگرفتن دست ناتوان است
 (۴) تو نیکی می‌کن و در دجله انداز / که ایزد در بیابانت دهد باز
- ۱۱- در چه صورتی تلاش و کوشش، موفقیت بهتری را به دنبال خواهد داشت؟
 (۱) با نظم و برنامه‌ریزی همراه باشد.
 (۲) فقط با برنامه‌ریزی همراه باشد.
 (۳) فقط با نظم همراه باشد.
 (۴) داشتن هدف در کارها کافی است.

۱۲- عبارت «عاقبت جوینده یابنده است» به کدام یک از موارد زیر اشاره دارد؟

- (۱) تلاش و کوشش
(۲) نظم و برنامه‌ریزی
(۳) انجام کارها
(۴) انتخاب هدف

۱۳- کدام یک از آیات زیر به «تلاش» به عنوان یک گام در موفقیت اشاره دارد؟

- (۱) «وَلَا يَغْتَبِ بَعْضُكُم بَعْضًا»
(۲) «وَلَا نِسَاءٌ مِّنْ نِّسَاءٍ»
(۳) «أَأَنْتُمْ أَشَدُّ خَلْقًا أَمْ السَّمَاءُ بَنَاهَا»
(۴) «وَأَنْ لَّيْسَ لِلْإِنْسَانِ إِلَّا مَا سَعَى»

۱۴- کدام یک از موارد زیر نادرست است؟

- (۱) کسی که برای رسیدن به چیزی تلاش کند به مقدار تلاشش به آن دست خواهد یافت.
(۲) آیه‌ی ۳۹ سوره‌ی نجم به میزان موفقیت براساس سعی و تلاش اشاره دارد.
(۳) تلاش و کوشش، انسان را به تنهایی به موفقیت می‌رساند.
(۴) در هر کاری اگر می‌خواهی موفق شوی نباید از شکست بترسی.

سوالات درس پانزدهم : سرزمین‌های همیشه سبز

کامل کنید...

- ۱- سرزمین به سرزمین شقایق‌های پرپر و گلستان همیشه بهار معروف است.
- ۲- پیامبر (ص) فرمودند: « در راه خدا بالاترین نیکی است.»
- ۳- جانبازان کسانی هستند که به زنده معروف هستند.

درست یا نادرست ...

- ۴- تعدادی از بزرگ‌ترین عملیات‌های دفاع مقدس در پادگان دو کوهه اتفاق افتاد. × √
- ۵- اسیران کشور در دوران دفاع مقدس به شهیدان زنده معروف هستند. × √
- ۶- شهدا پیرو راه امام حسین (ع) بودند و تا آخرین قطره‌ی خون خود از کشور ما دفاع کردند. × √

پاسخ دهید...

- ۷- خداوند در آیه‌ی ۷۴ سوره‌ی مبارکه‌ی نساء درباره‌ی جهاد در راه خدا و پاداش آن، چه می‌فرماید؟
- ۸- چرا برخی از شهیدان دفاع مقدس به شهدای گمنام معروف هستند؟
- ۹- چرا مردم همه ساله برای بازدید از مناطق جنگی به این سرزمین‌ها سفر می‌کنند؟
- ۱۰- پیامبر اکرم (ص) درباره‌ی «شهادت در راه خدا» چه می‌فرمایند؟
- ۱۱- شما دانش‌آموزان چه درس‌هایی از شهدا می‌توانید بگیرید؟ (سه مورد)
- ۱۲- اگر فداکاری‌های شهدا و رزمندگان در دوران دفاع مقدس نبود چه شرایطی برای ما پیش می‌آمد؟
- ۱۳- چرا به مناطق جنگی بازمانده از دوران دفاع مقدس، عنوان «سرزمین‌های همیشه سبز» داده شده است؟

۲
انتخاب کنید...

۱۴- این سخن از کیست؟

«بالتر از هر کار نیک، نیکی دیگری است و شهادت در راه خدا، بالاترین نیکی است.»

(۱) حضرت محمد (ص) (۲) امام علی (ع) (۳) امام صادق (ع) (۴) امام کاظم (ع)

۱۵- براساس آیه‌ی ۷۴ سوره‌ی نساء خدا به چه کسانی پاداش بزرگ می‌دهد؟ (صحیح‌ترین پاسخ را انتخاب کنید.)

(۱) هر کس در راه خدا بجنگد و کشته شود.
(۲) هر کس در راه خدا بجنگد و پیروز شود.
(۳) هر کس در برابر دشمن بجنگد و کشته یا پیروز شود.
(۴) هر کس در راه خدا بجنگد و کشته یا پیروز شود.

۱۶- شهیدان زنده به چه کسانی گفته می‌شود؟

(۱) شهدای گمنام (۲) جانبازان (۳) شهدای جنگ تحمیلی (۴) شهدای انقلاب اسلامی

سؤالات درس شانزدهم : (زیارت)

کامل کنید...

- ۱- نام حضرت معصومه (س) است و لقبش
 ۲- نام پدر حضرت معصومه (س) امام است و برادر ایشان امام هستند.
 ۳- نام شاهچراغ است و حرم ایشان در شهر قرار دارد.

درست یا نادرست...

- ۴- امام موسی کاظم (ع) توسط خلیفه‌ی ستمگر عباسی به شهادت رسید. × ✓
 ۵- وقتی ما به زیارت امامان یا یکی از فرزندان پاک ایشان می‌رویم به آن‌ها احترام گذاشته‌ایم. × ✓
 ۶- حضرت معصومه (س) برای دیدن برادرش شاهچراغ از مکه عازم ایران شد. × ✓

پاسخ دهید...

- ۷- در هر سطر عبارت سمت راست را به یکی از عبارتهای مربوط در سمت چپ وصل کنید.

۱ ده سال بیشتر نداشت که پدر گرامی‌اش را به شهادت رساندند.	• حضرت معصومه (س) • شاهچراغ (ع)
۲ زمین بزرگی داشت، آن را فروخت و پولش را به نیازمندان داد.	• حضرت معصومه (س) • شاهچراغ (ع)
۳ حاکم فارس با سپاهی در برابر او و یارانش ایستاد.	• حضرت معصومه (س) • شاهچراغ (ع)
۴ ایشان پس از سفری طولانی و دشوار بر اثر بیماری از دنیا رفتند.	• حضرت معصومه (س) • شاهچراغ (ع)

علوم

الف - جملات درست و نادرست را مشخص کنید.

- | | | |
|----------------------------|------------------------------|---|
| <input type="radio"/> درست | <input type="radio"/> نادرست | ۱) فتو به معنای نور و سنتز به معنای ساختن است . |
| <input type="radio"/> درست | <input type="radio"/> نادرست | ۲) سبز بودن برگ ها و ساقه های گیاه به دلیل وجود کلروفیل (سبزینه) است. |
| <input type="radio"/> درست | <input type="radio"/> نادرست | ۳) در آزمایش کتاب درسی الکل شناساگر نشاسته ی برگ است . |
| <input type="radio"/> درست | <input type="radio"/> نادرست | ۴) سیب زمینی ریشه ی نشاسته دار است . |

اجتماعی

چ (جاهای خالی را با کلمات مناسب کامل کنید.

- ۱- به سرزمین هایی که استقلال سیاسی و اقتصادی نداشته و تابع حکومت استعمارگر باشند می گویند.
- ۲- پیشگامان کشف سرزمین های جدید و بودند.

ریاضی

۱- علی ۷ هکتار و محمد ۵ هکتار زمین دارند نسبت زمین محمد به کل زمین ها چیست؟

۲- محیط یک مربع ۱۲ سانتی متر است نسبت اندازه ضلع مربع محیط آن برابر با به

۳- نسبت طول به عرض مستطیلی $\frac{5}{4}$ است و مجموع طول و عرض آن ۴۵ سانتی متر است.

الف- طول چند سانتی متر است؟

ب- عرض چند سانتی متر است؟

علوم

ب- جاهای خالی را کلمات مناسب پر کنید .

- ۵) شناساگر نشاسته در برگ است .
- ۶) محلول آب و مواد غذایی پس از جذب از ریشه ، توسط به برگ ها می رسند.
- ۷) یک میوه روغن دار و ساقه ی قند دار است .
- ۸) محل اصلی غذاسازی گیاهان است .

اجتماعی

۴- چرا به منطقه‌ی خلیج فارس، انبار نفت جهان می گویند؟

۵- کدام پدیده طبیعی مرز ایران و ترکیه است؟

- الف) رودخانه ب) کوه ج) بیابان د) دریاچه

ریاضی

۳- مجموع سن پدر و پسر ۷۵ سال است اگر نسبت سن پدر به پسر مثل ۴ به ۱ باشد. سن هر کدام چقدر است؟


۴- اگر ۳۵۰۰ تومان را به نسبت به ۲ و ۵ بین دو نفر تقسیم کنیم به هر نفر چند تومان می رسد؟

۵- محیط مستطیلی ۶۴ سانتی متر است اگر نسبت طول و عرض آن مثل ۵ به ۳ باشد اندازه :

الف- طول و عرض مستطیل چند سانتی متر است؟

ب- مساحت مستطیل چند سانتی متر مربع است؟

علوم

پ - گزینه مناسب را انتخاب کنید. 

۹) در فتوسنتز علاوه بر غذاسازی ، کدامیک از موارد زیر نیز تولید می شود ؟

۱- نیتروژن ۲- اکسیژن ۳- کربن دی اکسید ۴- هیدروژن

۱۰) کدام اندام گیاه گوشتخوار برای غذاسازی تغییر شکل یافته است ؟

۱- ساقه ۲- گل ها ۳- برگ ۴- ریشه

۱۱) پیاز و سیب زمینی کدام بخش گیاه محسوب می شوند ؟

۱- ریشه ۲- ساقه ی زیر زمینی ۳- گل ۴- برگ

۱۲) در گیاه لوبیا ، عمل غذاسازی در کدام اندام صورت می گیرد؟

۱- ساقه - ریشه ۲- ریشه - برگ ۳- برگ - آوند ۴- ساقه - برگ

ریاضی

۷ نسبت آهو به گوزن $\frac{1}{4}$ به $\frac{4}{5}$ می باشد . الف) نسبت ها را ساده کنید .

ب) اگر وزن آهو ۱۵۰ کیلوگرم باشد وزن گوزن را به دست آورید .

۱۰ برای تهیه ی نوعی کیک ، ۱۰ پیمانه آرد ، ۶ پیمانه شکر و ۸ پیمانه آب را مخلوط می کنیم . اگر بخواهیم با ۶۰ پیمانه کیک درست کنیم از هر ماده چند پیمانه لازم است ؟

۱۱ الف) $\frac{3}{7}$ تن چند کیلوگرم است ؟ ب) ۱۲۰ دسی متر چند کیلومتر است ؟

۱۲ کسری مساوی $\frac{7}{9}$ بنویسید که مجموع صورت و مخرج آن ۱۱۲ باشد .

۱۳ کسری مساوی $\frac{3}{11}$ بنویسید که اختلاف صورت و مخرج آن ۱۰۴ باشد .

۱- قارچ‌ها را می‌نامند.

۲- قارچ‌ها، گروهی از جانداران هستند که را تجزیه می‌کنند.

۳- رابطه‌ی غذایی انگلی چگونه است؟ با ذکر مثال توضیح بده

۴- چه عواملی سبب از بین رفتن همه‌ی افراد یک نوع (جانور یا گیاه) می‌شود؟

ریاضی

۳ نسبت درآمد رضا و حسن ۳ به ۷ می‌باشد. اگر مجموع درآمد آنها ۳۸۰۰۰ تومان باشد سهم هر کدام چقدر است؟

۴ برای تهیه‌ی رنگ نارنجی، رنگ قرمز و زرد را به نسبت ۵ به ۲ مخلوط می‌کنیم. برای تهیه‌ی ۴۹ کیلوگرم رنگ نارنجی، چند کیلوگرم رنگ قرمز و زرد نیاز داریم؟

۵ اگر وزن ۴ ساچمه‌ی کوچک ۳۷۰ گرم باشد وزن ۱۰ ساچمه‌ی کوچک چند گرم است؟

۶ در یک مدرسه از بین ۳۲۰ دانش‌آموز ۸۰ نفر شناگر هستند و در یک کلاس از بین ۲۵ نفر ۵ نفر شناگر هستند. نسبت شناگران در مدرسه بیش‌تر است یا کلاس؟

ستاره روشن

در عبارات زیر، کلمه‌های متضاد را پیدا کنید.

کلمه های متضاد	بیت
	همه راستی کن که از راستی
	گریه‌ی ابر و خنده‌ی خورشید
	در نومیدی بسی امید است
	نه شاخش خشک گردد روز سرما
	نباید به کار اندرون، کاستی
	نور باران ماهتاب از اوست
	پایان شب سیه، سپید است
	نه برگش زرد گردد روز گرما

مصراع‌های مربوط به هر بیت را به یک دیگر وصل کنید.

- | | |
|--|--|
| <input type="radio"/> همان نیز با مرد ناپاک رای | <input type="radio"/> به گیتی به از راستی پشه نیست |
| <input type="radio"/> ز کزای بترا، هیچ اندیشه نیست | <input type="radio"/> هر آن کو که گردد به گرد دروغ |
| <input type="radio"/> ستم کاره خوانیمش و بی فروغ | <input type="radio"/> مکن دوستی با دروغ آزمای |

در هر کدام از نمونه‌های زیر با توجه به معنای حرف اضافه‌ی «را»، گزینه‌ی درست را انتخاب کنید.

- ۱- تو را دادم اکنون نگین و کلاه خیر بله
- ۲- لقمان را گفتند: ادب از که آموختی؟ خیر بله
- ۳- استاد را پرسیدم و پاسخ شنیدم. خیر بله
- ۴- تو را می‌بینم و دردم زیادت می‌شود هر دم خیر بله

در عبارات‌های سمت راست، معنی بخشی را که زیر آن خط کشیده شده از گزینه‌های سمت چپ پیدا کنید.

- | | |
|--|--|
| <input type="radio"/> ناپود نشود. | <input type="radio"/> وی را اطاعت دارید. |
| <input type="radio"/> از آن تو است. | <input type="radio"/> راست گوی هلاکت نشود. |
| <input type="radio"/> انجام دادی. | <input type="radio"/> ما را راه راست نمودی. |
| <input type="radio"/> فرمان برداری کنید. | <input type="radio"/> خدایا، جهان پادشاهی تو راست. |
| <input type="radio"/> نشان دادی. | |
| <input type="radio"/> احترام بگذارید. | |

برای هر کدام از واژه‌های نوشته شده، یک واژه‌ی «هم خانواده» بنویسید.

- | | | | | | |
|----------------------|-------|----------------------|------|----------------------|-------|
| <input type="text"/> | توصیه | <input type="text"/> | عظیم | <input type="text"/> | عجایب |
|----------------------|-------|----------------------|------|----------------------|-------|

۱- ابیات و عبارات زیر را به زبان ساده بنویسید.

الف) باد بهاری وزید از طرف مرغزار / باز به گردون رسید ناله ی هر مرغ زار

ب) کم گوی و گزیده گوی چون در / تا زاندک تو جهان شود پر

ج) دو کس رنج بیهوده برند و سعی بی فایده کردند : یکی آن که اندوخت و نخورد و دیگر آن که آموخت و نکرد.

د) چو رستم بدیدش برانگیخت اسب / بدو تاخت مانند آذر گشسب

۲- موصوف و صفت را در ترکیب های زیر مشخص کنید.

برگ درختان - بوی خوش - پرچم سیاه - ناله ی موزون - اسب رستم

۳- با جمله های زیر ، یک جمله ی خبری، یک جمله ی پرسشی ، یک جمله ی عاطفی و یک جمله ی امری بسازید.

(دعا)

جمله خبری :

جمله پرسشی :

جمله عاطفی :

جمله امری :

۴- مترادف کلماتی که زیر آن ها خط کشیده شده ، بنویسید.

الف) نامه ای که آقا معلم برای بابا نوشته بود به من جُرئت می داد.

ب) ز هر بد ، تویی بندگان را پناه / تو دادی مرا ، گردی و دستگاه

ج) اشرف و آنچب تمام ملل / یادگار قدیم دورانیم

د) ماشاء الله . خدا نگهش دارد

۵- به عنوان یک ایرانی برای حفظ زبان فارسی چه وظایفی دارید ؟ در چند جمله بنویسید.

.....

.....

.....

ستاره روشن

معنای کلمات زیر را در مکان مناسب بنویسید.

<input type="text"/>	اعتدال	<input type="text"/>	حکایت	<input type="text"/>	زوال
<input type="text"/>	محنت	<input type="text"/>	تسلی	<input type="text"/>	ملک

جملات زیر را به نثر روان، بازنویسی کنید.

۱- وصیت کنم شما را که خدای عزوجل، به یگانگی شناسید.

۲- هر که از عیب خود ناپینا شد، نادان تر مردم باشد.

۳- زینهار تا بدی نکنید و از بدان دور باشید که بد کننده را زندگانی، کوتاه باشد.

۴- هر که از شما به زاد بزرگ تر باشد، وی را بزرگ تر دارید و حرمت او نگاه دارید.

نگارش

یکی از زیباترین خاطرات خود را از این سال تحصیلی که گذشت، در دو بند بنویسید.

۱) معنی و مفهوم بیت ها و عبارت های زیر را بنویسید.

الف) گفتش تبر آهسته که جرم تو همین بس
کاین موسم حاصل بُود و نیست تو را بار

ب) در آداب نظم خوانی، خواننده چنان نکند که مستمع، ملول گردد.

پ) ثواب خاموشی و فواید آن بی نهایت بُود.

ت) به دست آهن تفته کردن خمیر به از دست بر سینه، پیش امیر

۲) معنی کلمه های مشخص شده را بنویسید.

علی اکبر دهخدا در حجره های مختلف، علوم قدیم را فراگرفت.

همه ی جهانیان متفق اند که هیچ آفریده، داناتر از پیغامبر (ص) نبوده است.

راست گفتن پیشه گیرید که روی را روشن دارد.

۳) ارزش و عظمت لغت نامه ی دهخدا را با چه کتابی برابر نهاده اند؟

۴) عطار نیشابوری، کدام اثر خود را به جلال الدین محمد، معروف به مولوی داد؟

۵) اگر بخواهید قصه ای برای خواندن انتخاب کنید، چه ویژگی هایی را برای آن در نظر می گیرید؟ (۲ مورد)

۶) سه مورد از آداب سخن گفتن بنویسید.

۷) جاهای خالی بیت های زیر را با واژه های مناسب پر کنید.

الف - با اینکه سخن به لطف است

کم گفتن هر سخن است

ب - مکن دوستی با دروغ آزمای

.....

پ -
حلقه ی دره شد از او دامن گیر

.....

ت - در خاک طلب، بذر کاشته ام

باران اجابت تو را می طلبم

۶- مفرد یا جمع کلمات زیر را بنویسید.

خلق ←	بحث ←	حاکم ←	ملک ←
وصیت ←	ادب ←	سلطان ←	حال ←
نجیب ←	دیوان ←	متون ←	امرا ←

۷- برداشت خود را از ضرب المثل « کار نیکو کردن از بر کردن است »، در یک بند بنویسید.

.....

.....

.....

.....

۸- جمله ی زیر را در یک بند کامل کنید.

شهید همچون

.....

.....

۹- پیام حکایت محبت را بنویسید.

.....

.....

.....

۱۰- از سه موضوع زیر یکی را انتخاب کنید و با توجه به موارد بند نویسی درباره ی آن بنویسید.

۱- خلاصه ی داستان یکی از درس های کتاب فارسی خود را بنویسید.

۲- اگر شما به جای فردوسی بودید خان هشتم را چگونه می نوشتید ؟

۳- شهید را توصیف کنید.

.....

.....

.....

.....

.....

.....

.....

.....

.....

۱- عبارت و بیت شعر زیر را به زبان ساده بازنویس کنید .

خیز و غنیمت شمار جنبش باد رعب ناله ی موزون مرغ ، بوی خوش لاله زار

۲ - با استفاده از کلمات زیر ، یک بند بنویسید .

جمع آوری ، اندیشمندان ، آثار ، تأثیرگذار ، تحقیق ، پایداری ، جاودانگی

۳ - آرایه های موجود در بیت شعر زیر را بنویسید .

دریا قلی ا به وسعت دریاست نام تو تاریخ ، در تلفظ نام تو آکن است .

۴ - ضرب المثل « کار نیکو کردن از پر کردن است » را در یک سطر توضیح دهید .

۵ - برای هر یک از کلمات زیر ، دو صفت مناسب ، بنویسید .

زندگی :

گل :

۶- با استفاده از جان بخشی ، برای کلمه ی داده شده ، یک جمله بنویسید .

چمنزار :

۷ - با استفاده از توصیف ، یک بند درباره ی میهن (ایران من) بنویسید .

۸ - شبه جمله را در عبارت زیر مشخص کرده و مفهوم آن را توضیح دهید .

زینهار تا بدی نکنید .

۸ الف - رابطه ی کدام دو واژه درست نشده است؟

- (۱) خوان و سفره: مترادف
- (۲) خواست و خاست: هم آوا
- (۳) آتشگر گیتی: موصوف و صفت
- (۴) رفیق و شفیق: هم قافیه

۹ در عبارت زیر نقش کلمه هایی که زیر آن ها خط کشیده شده است را بنویسید.

طعام نبوید و اگر طعام اندک بود آن را بر دیگران ایثار کند.

۱۰ بیت زیر از چند جمله تشکیل شده است؟ آن ها را مشخص کنید.

اوخ که شدم هیزم و آتشگر گیتی اندام مرا سوخت چنین ز آتش ادبار

۱۱ یک کنایه بنویس و معنای دور آن را بنویس.

۱۲ در بیت زیر کلمه های متضاد به کار رفته را مشخص کنید.

در نومیدی بسی امید است پایان شب سیه، سفید است

۱۳ با توجه به دو بیت زیر به سوال های زیر پاسخ دهید.

الف - هرگز نرسد به منزل عشق بی بدرقه ی تو، کاروان ها

ب - خروشید و جوشید و برکنند خاک ز سمش زمین شد همه چاک چاک

۱- بیت «ب» را باز نویسی کنید.

۲- در بیت «الف» نهاد کدام واژه است؟

۳- منظور از تو در بیت «الف» کیست؟

۱- در عبارت زیر چند غلط املائی وجود دارد، آن‌ها را بیابید و شکل درست آن‌ها را بنویسید.

ناگهان، معلم از جای برخاست و گفت: خیلی آلی بود، تا این جا بسیار جالب بود چون شا با تفکر درباره ی چهار واژه به اندیشه های تازه ای دست یافته اید اما بگذارید گروه « عمل » هم نظرات خودشان را بیان کنند.

۲- جاهای خالی را با توجه به معنای داده شده، کامل کنید و بنویسید.

تا... یف : نوشتن کتاب ← فرو : نور ←
ا تدال : میانه روی ← گ... اف : دروغ ←

۳- دو واژه بنویسید که مانند (دونده + گی = دوندگی) ساخته شده باشند.

۴- کلمات هم خانواده را دسته بندی کرده و در جاهای خالی بنویسید.

مقطع - محفوظ - جامه - عامل - حفاظت - حافظ - قاطع - تجع - اعمال - مجوع

.....
.....

۵- با توجه به کلمات زیر، جدول را کامل کنید.

زمستان، مرغزار، جادوگران، یزدان، گل‌ها، دیوان

مرد	جمع

۶- شکل صحیح کلمات را انتخاب کنید.

الف) یکی از زیباترین بخش های شاهنامه هفت (خان - خوان) رستم است.

ب) در نظم خوانی، چنان نکلند که (مستمع - مصتبع) ملول گردد.

پ) باید که دانست که جماعت، (لایق، لایغ) چه نوع سخن است.

۷- در متن زیر، کلمات مشخص شده را با حروف مناسب کامل کنید.

تلاش و کوشش شا تنها فرزند مهربان (باء.....) سرلندی و (عَزَّ.....) من می شود. بزرگی و (ع.....مت)

من و شا به این است که با هم، کنار هم و نگهبان هم باشیم.

الف) صحیح یا نادرست بودن هر یک از جمله‌های زیر را مشخص کنید.

نادرست

صحیح

<input type="checkbox"/>	<input type="checkbox"/>
<input type="checkbox"/>	<input type="checkbox"/>
<input type="checkbox"/>	<input type="checkbox"/>
<input type="checkbox"/>	<input type="checkbox"/>
<input type="checkbox"/>	<input type="checkbox"/>

1- شعر نیایش از نظامی و در قالب مثنوی است.

2- تاریخ بیهقی تاریخ پادشاهی سلطان محمود غزنوی می‌باشد.

3- «دست بر سینه» کنایه از نوکری کردن است.

4- تیمار به معنی غمخواری و دلسوزی نمی‌باشد.

5- شعر «جان و دل رایگان ببفشانیم» از ایرج میرزا است.

ب) پاسخ صحیح سوال‌های زیر را از میان گزینه‌های داده شده انتخاب کنید.

1- کدام گزینه هم خانواده‌ی مشفق است؟

1) شفیق 2) شفیع 3) شافع 4) قشم

2- «آن دم صبح قیامت تاثیر» به کدام مورد اشاره دارد؟

1) صبح شهادت امام علی (ع) 2) ضربت خوردن امام علی (ع)

3) تولد امام علی (ع) 4) امامت امام علی (ع)

3- «تنم را فرش کردم» کنایه از کدام مورد است؟

1) فدا کردن 2) نذر کردن 3) آماده شدن 4) یاری کردن

4- دماغ پرور به چه معنی است؟

1) زیبا 2) خوشبو 3) طبیعی 4) پر بار

5- در میان واژه‌های (هجره - مرغزار - مزلت - تاخیر - خار و زشت) املای چند واژه درست است؟

1) 1 2) 2 3) 3 4) 4

ج) جاهای خالی را با کلمه یا عبارت مناسب کامل کنید.

1- مهم‌ترین اثر دهخدا است.

2- مترادف کلمه‌ی الکن، است.

3- بدان که آفات بسیار است.

4- در 26 هزار بیت سروده شده است.

5- محل زندگی دیو سپید در بود.

د) به سوال‌های زیر پاسخ کامل بدهید.

1- معنی کلمات مشخص شده را بنویسید.

الف) خرد را تو روشن بصر کرده‌ای. () - ()

ب) از خوی بد بدور باشید که بند گران است. () - ()

پ) شد توده در آن باغ سحر همیمه بسیار. () - ()

ت) همه‌ی جهانیان متفق اند. ()

الف) صحیح یا نادرست بودن هر یک از جمله‌های زیر را مشخص کنید.

نادرست

صحیح

<input type="checkbox"/>	<input type="checkbox"/>
<input type="checkbox"/>	<input type="checkbox"/>
<input type="checkbox"/>	<input type="checkbox"/>
<input type="checkbox"/>	<input type="checkbox"/>
<input type="checkbox"/>	<input type="checkbox"/>

1- شعر نیایش از نظامی و در قالب مثنوی است.

2- تاریخ بیهقی تاریخ پادشاهی سلطان محمود غزنوی می‌باشد.

3- «دست بر سینه» کنایه از نوکری کردن است.

4- تیمار به معنی غمخواری و دلسوزی نمی‌باشد.

5- شعر «جان و دل رایگان ببفشانیم» از ایرج میرزا است.

ب) پاسخ صحیح سوال‌های زیر را از میان گزینه‌های داده شده انتخاب کنید.

1- کدام گزینه هم خانواده‌ی مشفق است؟

1) شفیق 2) شفیع 3) شافع 4) قشم

2- «آن دم صبح قیامت تاثیر» به کدام مورد اشاره دارد؟

1) صبح شهادت امام علی (ع) 2) ضربت خوردن امام علی (ع)

3) تولد امام علی (ع) 4) امامت امام علی (ع)

3- «تنم را فرش کردم» کنایه از کدام مورد است؟

1) فدا کردن 2) نذر کردن 3) آماده شدن 4) یاری کردن

4- دماغ پرور به چه معنی است؟

1) زیبا 2) خوشبو 3) طبیعی 4) پر بار

5- در میان واژه‌های (هجره - مرغزار - مزلت - تاخیر - خار و زشت) املای چند واژه درست است؟

1) 1 2) 2 3) 3 4) 4

ج) جاهای خالی را با کلمه یا عبارت مناسب کامل کنید.

1- مهم‌ترین اثر دهخدا است.

2- مترادف کلمه‌ی الکن، است.

3- بدان که آفات بسیار است.

4- در 26 هزار بیت سروده شده است.

5- محل زندگی دیو سپید در بود.

د) به سوال‌های زیر پاسخ کامل بدهید.

1- معنی کلمات مشخص شده را بنویسید.

الف) خرد را تو روشن بصر کرده‌ای. () - ()

ب) از خوی بد بدور باشید که بند گران است. () - ()

پ) شد توده در آن باغ سحر همیمه بسیار. () - ()

ت) همه‌ی جهانیان متفق اند. ()

الف) گزینه های صحیح را با علامت * مشخص کنید.

۱- کلمات کدام گزینه، هر دو دارای املای صحیح می‌باشند؟

- الف) عصر، پذیرش (ب) موضوه، عادی (ج) زادگاه، تقریباً (د) نیذه، عمیق

۲- کدام گزینه قابل جمع بستن نیست؟

- الف) باغبان (ب) انبیا (ج) قبیله (د) عالم

۳- کدام گزینه با بقیه تفاوت دارد؟

- الف) تعطیلات (ب) جوامع‌ها (ج) معلمین (د) روحانیون

۴- کدام گزینه درست معنی نشده است؟

- الف) ناتوان: عاجز (ب) خُجره: اتاق (ج) مشقت: سختی (د) الیم: بسیار دانا

ب) مفرد کلمات زیر را بنویسید.

- صنایع: ()، مباحث: ()، معابد: ()، رفقا: ()

پ) به سؤال‌های زیر پاسخ دهید.

۱- جمله‌های زیر را از نظر املایی بررسی کنید و شکل صحیح کلمه را داخل کمانک بنویسید.

الف- شهید داستانی است پر از (حادثه، حادثه، هادسه) و زیبایی. ()

ب- دهخدا معلومات (خوبش، خیش) را تکمیل کرد. ()

پ- لغت‌نامه (موفصل‌ترین، مفصل‌ترین، مفصل‌ترین) کتاب لغت در زبان فارسی است. ()

ت- محمّد دلش برای کوچه‌های (لمرقند، سمرقند، صمرقند) تنگ می‌شد. ()

۲- چهار کلمه بنویسید که یکی از شکل‌های (ز، ض، ظ، ذ) را داشته باشد.

۳- دو واژه بنویسید مانند (نویسندگی ← نویسنده + گی) بنویسید.

ه) پشت بر دوستان کهن مکن. ()

و) تیر بر چله‌ی کمان نهاد. ()

2- با توجه به بیت «آوخ که شدم هیزم و آتشگر گیتی // اندام مرا سوخت چنین ز آتش ادبار» به سوالات زیر پاسخ دهید.

الف) این بیت چند جمله دارد؟

ب) این شعر از کیست؟

پ) در چه قالبی است؟

ت) گیتی به چه معنی است؟

3- معنی عبارت‌های زیر را بنویسید.

الف) آن شاخ که بر سر برکشد و میوه نیارد

فرجام به جز سوختنش نیست سزاوار

ب) همه راستی کــــن که از راستی

نیاید بــــه کار اندرون کاستی

پ) گفت: تو چرا کار نکنی تا از مذلت خدمت رهایی یابی؟

ت) گه درختش نــــام شد، گاه آفتاب

گاه بحرش نام شد، گاهی سحاب

ث) چنان نکند که مستمع ملول گردد.

4- مثالی بنویسید که «را» در معنای «به» استفاده شود.

5- شبه جمله را با مثال توضیح دهید.

6- هدف از داستان یک قطره عسل چه بود؟

7- علامت سوال (؟) در کجا به کار می‌رود؟

8- آرایه‌ی تلمیح را با یک مثال از شعر ایرج میرزا توضیح دهید.

ه) پشت بر دوستان کهن مکن. ()

و) تیر بر چله‌ی کمان نهاد. ()

2- با توجه به بیت «آوخ که شدم هیزم و آتشر گیتی // اندام مرا سوخت چنین ز آتش ادبار» به سوالات زیر پاسخ دهید.

الف) این بیت چند جمله دارد؟

ب) این شعر از کیست؟

پ) در چه قالبی است؟

ت) گیتی به چه معنی است؟

3- معنی عبارت‌های زیر را بنویسید.

الف) آن شاخ که بر سر برکشد و میوه نیارد

فرجام به جز سوختنش نیست سزاوار

ب) همه راستی کــــن که از راستی

نیاید بــــه کار اندرون کاستی

پ) گفت: تو چرا کار نکنی تا از مذلت خدمت رهایی یابی؟

ت) گه درختش نــــام شد، گاه آفتاب

گاه بحرش نام شد، گاهی سحاب

ث) چنان نکند که مستمع ملول گردد.

4- مثالی بنویسید که «را» در معنای «به» استفاده شود.

5- شبه جمله را با مثال توضیح دهید.

6- هدف از داستان یک قطره عسل چه بود؟

7- علامت سوال (؟) در کجا به کار می‌رود؟

8- آرایه‌ی تلمیح را با یک مثال از شعر ایرج میرزا توضیح دهید.

ه) پشت بر دوستان کهن مکن. ()

و) تیر بر چله‌ی کمان نهاد. ()

2- با توجه به بیت «آوخ که شدم هیزم و آتشگر گیتی // اندام مرا سوخت چنین ز آتش ادبار» به سوالات زیر پاسخ دهید.

الف) این بیت چند جمله دارد؟

ب) این شعر از کیست؟

پ) در چه قالبی است؟

ت) گیتی به چه معنی است؟

3- معنی عبارت‌های زیر را بنویسید.

الف) آن شاخ که بر سر برکشد و میوه نیارد

فرجام به جز سوختنش نیست سزاوار

ب) همه راستی کــــن که از راستی

نیاید بــــه کار اندرون کاستی

پ) گفت: تو چرا کار نکنی تا از مذلت خدمت رهایی یابی؟

ت) گه درختش نــــام شد، گاه آفتاب

گاه بحرش نام شد، گاهی سحاب

ث) چنان نکند که مستمع ملول گردد.

4- مثالی بنویسید که «را» در معنای «به» استفاده شود.

5- شبه جمله را با مثال توضیح دهید.

6- هدف از داستان یک قطره عسل چه بود؟

7- علامت سوال (؟) در کجا به کار می‌رود؟

8- آرایه‌ی تلمیح را با یک مثال از شعر ایرج میرزا توضیح دهید.

- (ه) پشت بر دوستان کهن مکن. ()
(و) تیر بر چله‌ی کمان نهاد. ()
- 2- با توجه به بیت «اوخ که شدم هیزم و آتشگر گیتی // اندام مرا سوخت چنین ز آتش ادبار» به سوالات زیر پاسخ دهید.
- الف) این بیت چند جمله دارد؟
ب) این شعر از کیست؟
ت) گیتی به چه معنی است؟
- 3- معنی عبارت‌های زیر را بنویسید.
- الف) آن شاخ که بر سر برکشد و میوه نیارد فرجام به جز سوختنش نیست سزاوار
ب) همه راستی کــــن که از راستی نیاید بــــه کار اندرون کاستی
- پ) گفت: تو چرا کار نکنی تا از مذلت خدمت رهایی یابی؟
ت) گه درختش نــــام شد، گاه آفتاب گاه بحرش نام شد، گاهی سحاب
ث) چنان نکند که مستمع ملول گردد.
- 4- مثالی بنویسید که «را» در معنای «به» استفاده شود.
- 5- شبه جمله را با مثال توضیح دهید.
- 6- هدف از داستان یک قطره غسل چه بود؟
- 7- علامت سوال (؟) در کجا به کار می‌رود؟
- 8- آرایه‌ی تلمیح را با یک مثال از شعر ایرج میرزا توضیح دهید.

- الف) صحیح یا نادرست بودن هر یک از جمله‌های زیر را مشخص کنید.
- | نادرست | صحیح | |
|--------------------------|--------------------------|---|
| <input type="checkbox"/> | <input type="checkbox"/> | 1- شعر نیایش از نظامی و در قالب مثنوی است. |
| <input type="checkbox"/> | <input type="checkbox"/> | 2- تاریخ بیهقی تاریخ پادشاهی سلطان محمود غزنوی می‌باشد. |
| <input type="checkbox"/> | <input type="checkbox"/> | 3- «دست بر سینه» کنایه از نوکری کردن است. |
| <input type="checkbox"/> | <input type="checkbox"/> | 4- تیمار به معنی غمخواری و دلسوزی نمی‌باشد. |
| <input type="checkbox"/> | <input type="checkbox"/> | 5- شعر «جان و دل رایگان ببفشانیم» از ایرج میرزا است. |

ب) پاسخ صحیح سوال‌های زیر را از میان گزینه‌های داده شده انتخاب کنید.

- 1- کدام گزینه هم خانواده‌ی مشفق است؟
 1 شفیق 2 شفیع 3 شافع 4 قشم
- 2- «آن دم صبح قیامت تاثیر» به کدام مورد اشاره دارد؟
 1 صبح شهادت امام علی (ع) 2 ضربت خوردن امام علی (ع)
 3 تولد امام علی (ع) 4 امامت امام علی (ع)
- 3- «تم را فرش کردم» کنایه از کدام مورد است؟
 1 فدا کردن 2 نذر کردن 3 آماده شدن 4 یاری کردن
- 4- دماغ پرور به چه معنی است؟
 1 زیبا 2 خوشبو 3 طبیعی 4 پر بار
- 5- در میان واژه‌های (هجره - مرغزار - مزلت - تاخیر - خار و زشت) املائی چند واژه درست است؟
 1 (1) 2 (2) 3 (3) 4 (4)

ج) جاهای خالی را با کلمه یا عبارت مناسب کامل کنید.

- 1- مهم‌ترین اثر دهخدا است.
 2- مترادف کلمه‌ی الکن، است.
 3- بدان که آفات بسیار است.
 4- در 26 هزار بیت سروده شده است.
 5- محل زندگی دیو سپید در بود.

د) به سوال‌های زیر پاسخ کامل بدهید.

- 1- معنی کلمات مشخص شده را بنویسید.
 الف) خرد را تو روشن بصر کرده‌ای. ()
 ب) از خوی بد بدور باشید که بند گران است. ()
 پ) شد توده در آن باغ سحر هیمه بسیار. ()
 ت) همه‌ی جهانیان متفق اند. ()